

МАТЕМАТИК

А

Тема:


«Вычитание числа 2»

Дистанционный урок за 19.02.2018

Составитель: учитель начальных классов МБОУ СОШ №7

Лоскутова Марина Владимировна


город Ханты-Мансийск



- Прозвенел звонок весёлый
Все готовы? Всё готово?
Мы, сейчас, не отдыхаем,
Мы, работать начинаем.

Устный счет:

1. Определи, какое число было позавчера, если сегодня:



The illustration shows four calendar pages. The first page has the number 6 and the month январь. The second page has the number 8 and the month март. The third page has the number 10 and the month май. The fourth page has the number 3 and the month июль.

2. Какие два числа называют при счёте перед числом: 4, 6, 9, 11?
Как можно вычитать число 2? **-1 -1**





Работа на темой урока:

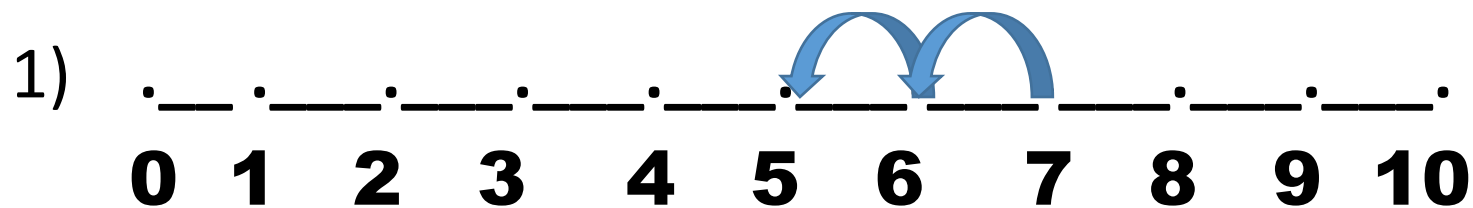
- Как мы умеем прибавлять число 2 к другому числу?

Правильно: по линейке и по частям.

- А как ты думаешь, как мы будем вычитать число 2?

Правильно: по линейке и по частям.

- Объясни, как по линейки вычесть число 2 из 7.




- Объясни, как по частям вычесть число 2 из 7.

$$\begin{array}{r} 6 \\ \textcircled{7-1} \end{array} \quad 2 - \text{это } 1 \text{ и } 1 \\ -1=5$$

Правильно: Чтобы из числа вычесть 2, можно назвать по порядку два предыдущих числа. Ответом является последнее число.

Работа по учебнику:

- Реши примеры № 6 на странице 42. Используй линейку.



$7 - 2 = 5$

$9 - 2 = 7$

$6 - 2 = 4$

$5 - 2 = 3$

$4 - 2 = 2$

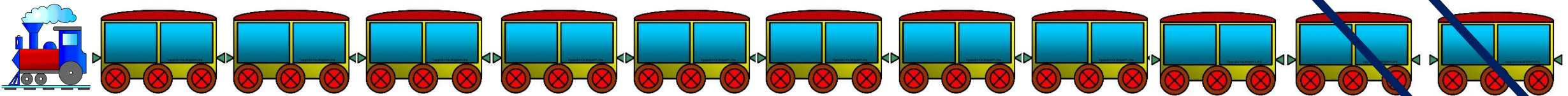
$10 - 2 = 8$

$11 - 2 = 9$

$8 - 2 = 6$

- Реши задачу № 7 на странице 42.

В составе поезда было 11 вагонов. Утром от него отцепили 1 вагон, а днём – ещё 1. Сколько вагонов осталось в составе поезда?



Решение:

$11 - 2 = 9 \text{ (в.)}$

Ответ: 9 вагонов.

Объясни, как из числа 11 вычесть число 2 разными способами:

1 способ:

2 способ:

0 1 2 3 4 5 6 7 8 9 10 11

3 способ:

2 – это 1 и 1

10

11-1


- 1 = 9





Продолжаем работу по учебнику:

- Реши примеры № 9 на странице 42. Самостоятельно.
- Реши задачу № 10 на странице 42.
- В букете 9 цветков: 2 мака, остальные – ромашки. Сколько ромашек в букете?

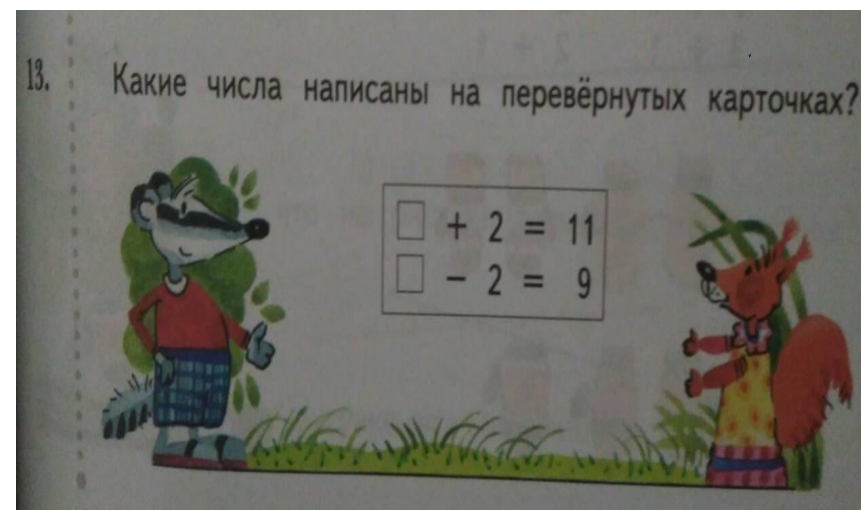



Решение:

$$9 - 2 = 7 \text{ (р.)}$$

Ответ: 7 ромашек.

- Реши задачу № 11 на странице 43. Самостоятельно.



Запомни!

$2 - 2 = 0$

$3 - 2 = 1$

$4 - 2 = 2$

$5 - 2 = 3$

$6 - 2 = 4$


$7 - 2 = 5$

$8 - 2 = 6$

$9 - 2 = 7$

$10 - 2 = 8$

$11 - 2 = 9$



Работа в тетради:

Открой тетрадь на странице 28.

Запиши ответы.

$7 + 2 = 9$

$5 + 2 = 7$

$4 + 2 = 6$

$2 + 2 = 4$

$3 + 2 = 5$

$0 + 2 = 2$

$1 + 2 = 3$

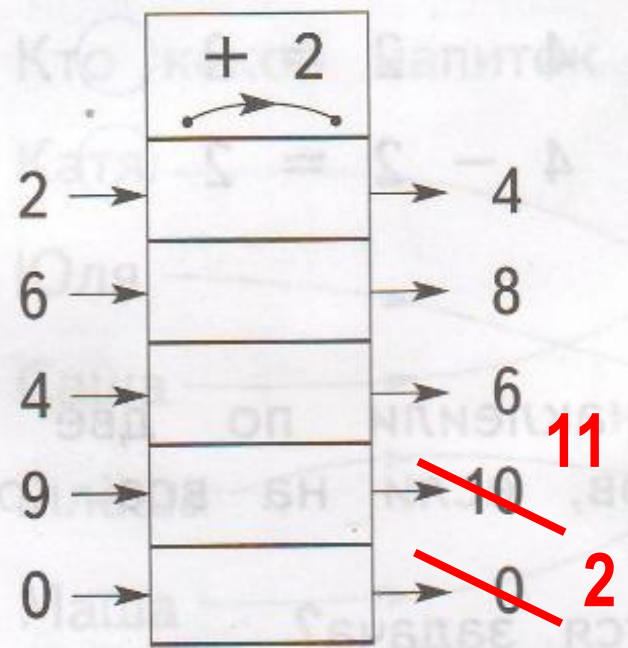
$6 + 2 = 8$

$9 + 2 = 11$




Молодец!

2. Проверь работу «машины». Найди и исправь ошибки.

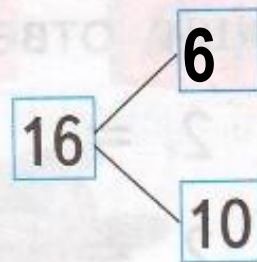
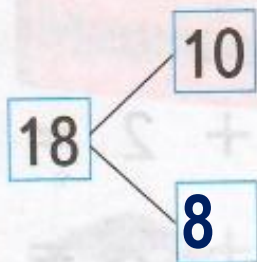
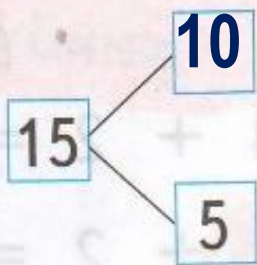


3.

Какое число Волк и Заяц должны записать в «окошке»? Запиши это число.



4. Впиши в «окошки» пропущенные числа.



5. Купили 4 дыни и арбузы. Арбузов 2 раза по столько, сколько дынь. Сколько купили арбузов? Как можно записать решение задачи? Выбери возможные варианты.

$4 + 2 = 6$

$4 \cdot 2 = 8$

$4 + 4 = 8$

$4 - 2 = 2$

$4 : 2 = 2$



6. На каждый конверт наклеили по две марки. Сколько было конвертов, если на все конверты наклеили 10 марок? Каким действием решается задача?

Сложением

Умножением

Делением

Вычитанием

Решение:

$$10 : 2 = 5 \text{ (к.)}$$

Ответ: **5** конвертов.

7. Запиши числа словами.

3 три

11 одиннадцать

7 семь

20 двадцать



8. ♂ ➡ Что нужно сделать в задании? Выполни его.



Утка

Гусь

Ворона

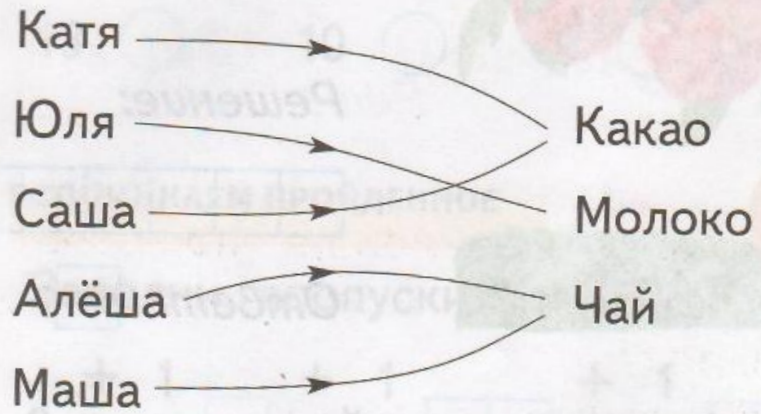
Петух

Лягушка



9.

Кто какой напиток выпил?



Заполни таблицу.

Имя	Напиток
Катя	<i>какао</i>
Юля	<i>молоко</i>
Саша	<i>какао</i>
Алёша	<i>чай</i>
Маша	<i>чай</i>



Вот и кончился урок.
Снова прозвенел звонок,
Отдыхать мы можем смело,
А потом опять за дело.



Ссылки на изображения:

<http://333v.ru/uploads/b6/b63673c8c3360a876b52b07048653fae.jpg>

http://www.superiorpics.com/movie_pictures/mp/2010_Tangled/2010_tangled_024.jpg

<http://m.kino-teatr.ru/art/3969/50536.jpg>

http://www.youloveit.ru/uploads/gallery/main/556/youloveit_ru_rapunzel_new_images06.jpg

<http://sbecia.weebly.com/uploads/1/7/5/5/17553711/764328733.png>

<http://mywishlist.ru/pic/i/wish/orig/004/884/571.jpeg>

