

Математика 3 класс

Дополнительные задачи на кратное сравнение



Во сколько раз

>



Во сколько раз

Подготовила: учитель начальных классов МКОУ

«СОЦ № 14» г. Хасавюрта Арцаева М.О.

Кот с утра сидит у
речки.

У него большой улов:
Три щурёнка, три ерша,
три сома и три леща.
Сколько рыбок у кота?



Как-то раз в лесу густом
Ёж построил себе дом.
Пригласил лесных
зверей,
Сосчитайте их скорей:
6 зайчат, 6 лисят,
6 весёлых медвежат,
6 бельчат, 6 бобров.
У кого ответ готов?



Подарил утятам
ёжик

Восемь кожаных
сапожек.

Кто ответит из
ребят,

Сколько было всех
утят?





Три бельчонка маму-
белку

Ждали около дупла.

Им на завтрак мама-
белка

Девять шишек
принесла.

Разделила на троих.

Сколько каждому из
них?



14 октября.

Классная работа.

Минутка чистописани

12



6

Пиши красиво

Математический диктант.

1. Найти произведение чисел 5 и 6.
2. Увеличить 8 в 3 раза.
3. Увеличить 8 на 3.
4. Найти частное чисел 45 и 9.
5. Уменьшить 18 в 3 раза.
6. Уменьшить 18 на 3.
7. Какое число больше 9 в 2 раза.
8. Какое число меньше 36 в 4 раза.
9. Первый множитель 1, второй множитель 8
Найти произведение.

Проверь себя


30, 24, 11, 5, 3, 6, 15, 9, 8

Однозначные.

3, 5, 6, 8, 9

Двузначные.

30, 24, 15, 11



Поможете ли да решим?

1 ряд

$$39 - 15 : 5 + 14 = 50$$

$$6 \cdot (12 - 4) = 48$$

2 ряд

$$56 - 8 + 4 \cdot 9 = 84$$

$$8 \cdot (25 - 20) = 40$$

3 ряд

$$30 - 16 : 2 + 12 = 34$$

$$10 : (11 - 9) = 5$$



Литр топлива для ступы
стоит 4 рубля. Сколько денег
надо уплатить ребятам за 8
литров топлива?

Ответ: топливо стоит 32 рубля

| | | | | | |
|---|---|---|---|---|---|
| Н | А | Ж | А | Т | Ь |
| Ж | Ё | Л | Т | У | Ю |
| К | Н | О | П | К | У |





СТР. 41



Задание

Цыплята – 8 птиц

Утята – 4 птицы



Вывод

Чтобы узнать, во сколько раз одно число больше или меньше другого, надо большее число разделить на меньшее


$$\boxed{Б} : \boxed{М}$$

Тема урока


Решение задач на кратное сравнение.

Цель: научиться решать задачи на кратное сравнение.

Запомни!



- 10 к.



- 2 к.



во ? раз >

во ? раз <



Большое число делим на

меньшее

$10 : 2 =$ в 5 раз больше красных кругов

$10 : 2 =$ в 5 раз меньше синих квадратов

Физ. минутка



№ 3 СТР.41

Увеличь в 5 раз

| | | | | |
|---|---|---|---|---|
| 9 | 7 | 5 | 3 | 8 |
|---|---|---|---|---|

Уменьши в 4 раза

| | | | | |
|----|----|----|---|---|
| 32 | 24 | 16 | 8 | 4 |
|----|----|----|---|---|

Групповая работа



Уравнение 5 стр.41



1) В одной вазе было 5 конфет, а в другой – 15 конфет. На сколько конфет во второй вазе больше, чем в первой?

2) В одной вазе было 5 конфет, а в другой – 15 конфет. Во сколько раз во второй вазе конфет больше, чем в первой?

тест



1. Чтобы узнать на сколько единиц одно число больше или меньше другого, надо выполнить:

- А) сложение
- Б) вычитание
- В) умножение
- Г) деление



тест



2. Чтобы узнать во сколько раз одно число больше или меньше другого, надо **выполнить**:

- А) сложение
- Б) вычитание
- В) умножение
- Г) деление



тест



3. На сколько единиц число 36 больше, чем число 9?

- А) 45
- Б) 27
- В) 4




тест




4. Во сколько раз число 36 больше, чем число 9?

- А) 45
- Б) 27
- В) 4






Мне было
безразлично
на уроке



Мне было
интересно
на уроке



Мне не
понравился
урок.
Я ничего не
понял

Домашняя работа

Примеры 4

стр. 41

