

ИЗОБРАЖЕНИЕ ДАННЫХ С ПОМОЩЬЮ ДИАГРАММ

Урок математики в 3 классе «Перспективная начальная школа»



Выполнила учитель нач.классов
Богданова О.А.
МОУ «СОШ №10»

Составьте по рисунку задачи, которые решаются так:

1) $16 + 8$

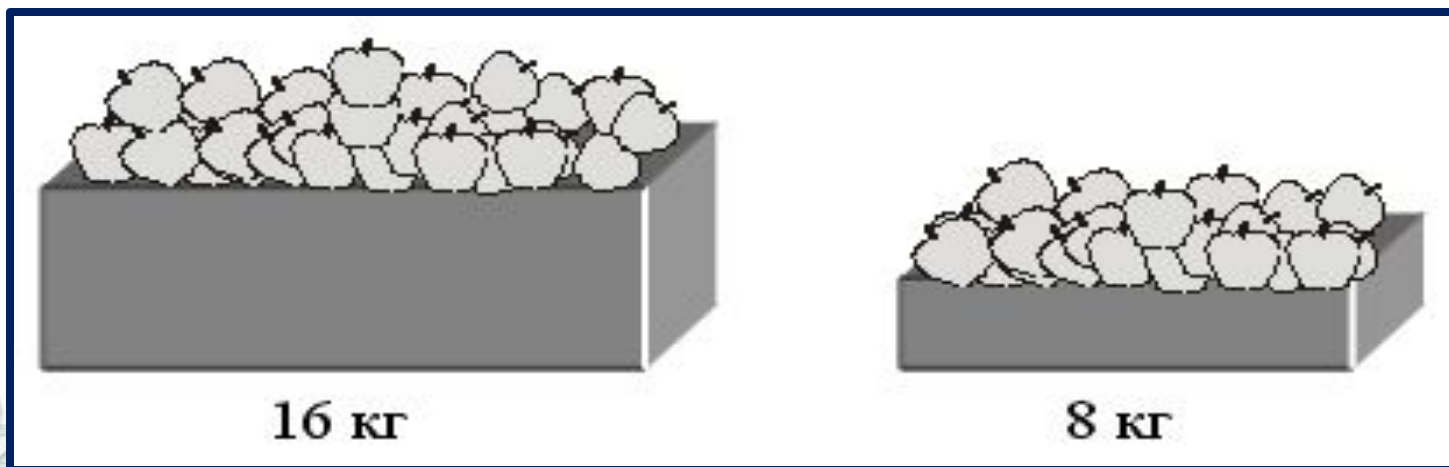
2) $16 - 8$

3) $16 : 8$

4) $16 \cdot 2$


5) $8 \cdot 2$

6) $(16 + 8) \cdot 2$




Нарисуйте:

а) кругов в 2 раза меньше, чем на слайде:



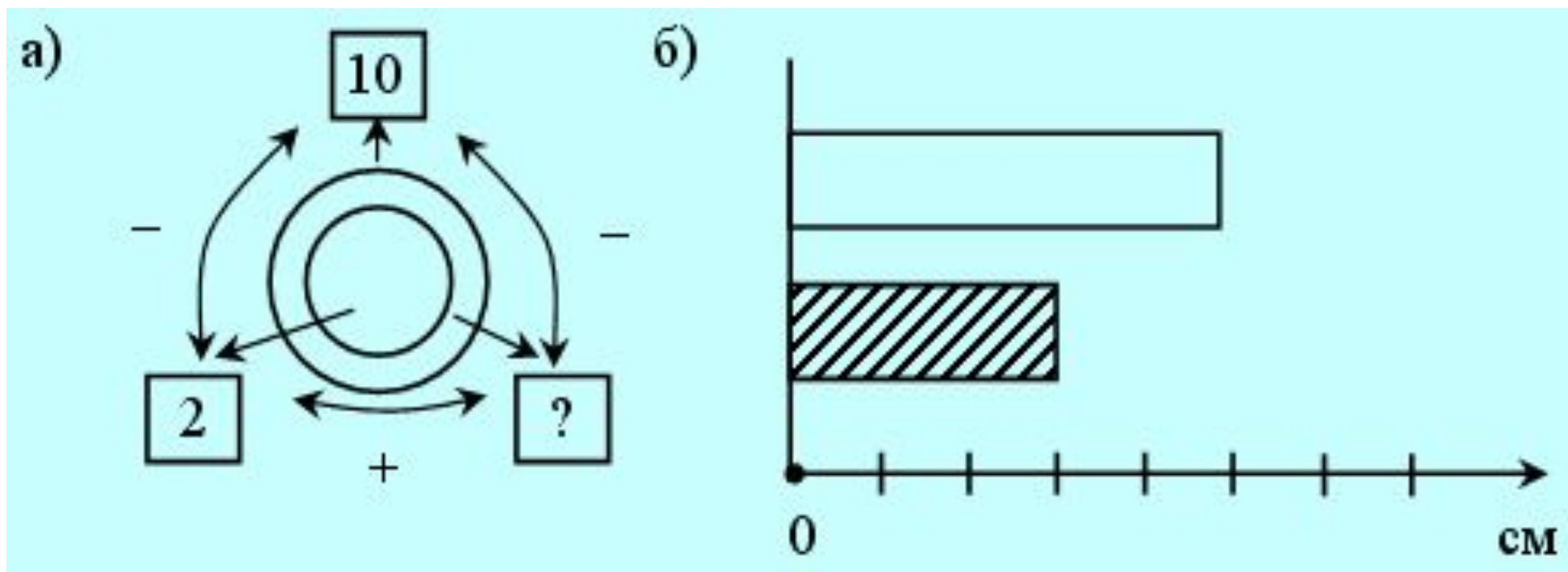
б) фигуру (по клеткам), площадь которой в 4 раза меньше



**г) начертите отрезок в 5 раз меньше
отрезка длиной 15 см.**



Рассмотрите записи:



- Что изображает каждая запись?
- Какие трудности у вас возникли?



Рефлексия

«Комплимент»

- 1) -Скажите комплимент тому, кто, по вашему мнению, сегодня хорошо поработал.
- 2) Оцените свою работу на уроке.





СПАСИБО
ЗА
УРОК!!!

