



# Математика

## 3 класс



# Учимся писать цифру



**Увеличь в 5 раз**

**9**

**7**

**5**

**3**

**8**

**Уменьши в 4 раза**

**32**

**24**

**16**

**8**

**4**

# УСТНЫЙ СЧЁТ

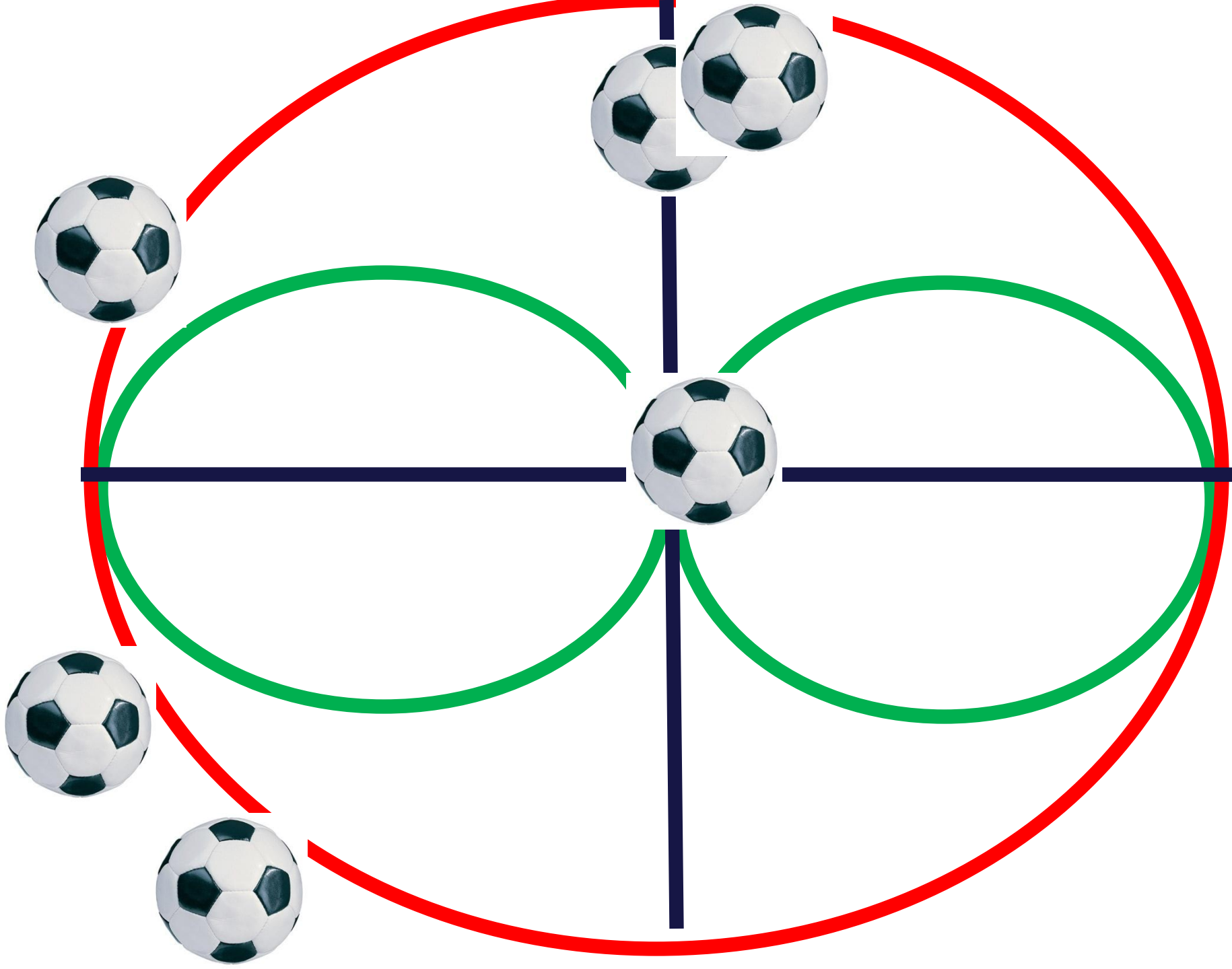
а) Трое детей разделили между собой поровну 12 орехов. Сколько орехов получил каждый?

б) Ученик написал на уроке 5 предложений по 9 слов в каждом. Сколько слов написал ученик?

в) Обезьяна живёт 40 лет, верблюд – 35 лет. Что можно сказать, про эти данные?

г) В детский сад купили 54 мяча и раздали их поровну в 6 групп. По сколько мячей получила каждая группа?







**УСЛОВИЕ**

**ВОПРОС**

**РЕШЕНИЕ**

**ОТВЕТ**



# Задача.

В поход пошли 24 мальчика, а девочек в 3 раза меньше, чем мальчиков. Сколько всего детей пошло в поход?


**Решение:**

$$1) 24 : 3 = 8 \text{ (дет.)} - \text{девочек}$$

$$2) 24 + 8 = 32 \text{ (реб.)}$$

Ответ: 32 ребенка всего.





**Большое число делим на**

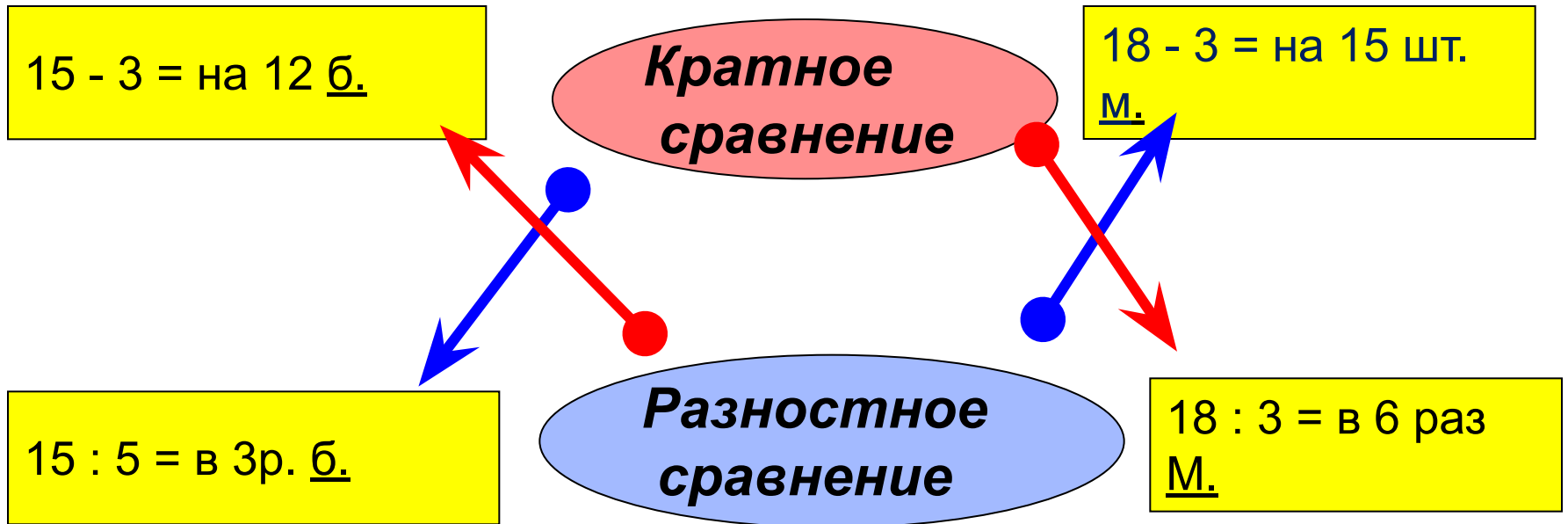
**От большего отниму меньшее**

**$10 : 2 =$  в 5 раз больше**

**$10 - 2 =$  на 8 (к.) - больше**

# Работа в парах

## УЗНАЙ ВИД ЗАДАЧИ ПО ЕГО РЕШЕНИЮ



**Работа с  
учебником**

**3 столбик- 1,2 ряд.**

**4 столбик- 3,4 ряд.**



# Самооценка

Умею  
решать!



Есть ???



Ещё не  
умею!



# Итог урока

Сегодня на уроке мы ...

Чтобы решить задачи,  
нужно...

Мне было интересно...



# Домашняя работа

стр.44

№1 (в 2ст), № 2 (1,2 ст)

