
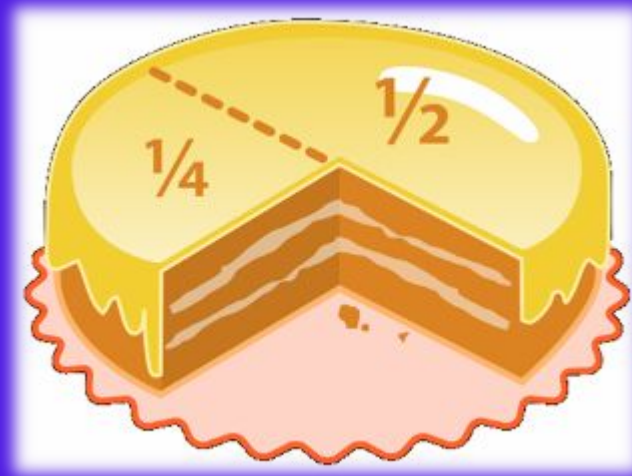



УРОК МАТЕМАТИКИ

4 класс







Семья Долиных:



Ба пи





фермы очень голодные, разрезал один пирог пополам и съел.

Половина – это доля!



это ДРОБЬ

$$\frac{1}{5}$$

$$\frac{1}{5}$$

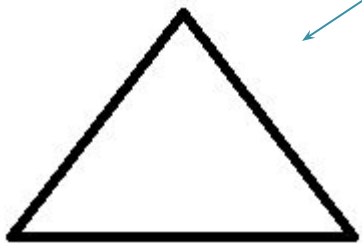


$$\frac{1}{5}$$

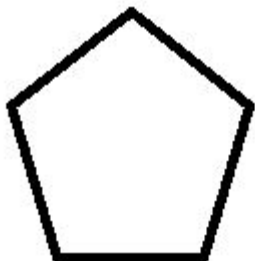
$$\frac{1}{5}$$

$$\frac{1}{5}$$

Числитель



Дробная черта




Знаменатель



Четверть - это доля

Как записать это число?

$$\frac{1}{4}$$


$$\frac{8}{10}$$

$$\frac{1}{6}$$

$$\frac{4}{9}$$

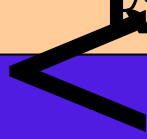
$$\frac{6}{8}$$

$$\frac{2}{3}$$

Сравнение долей

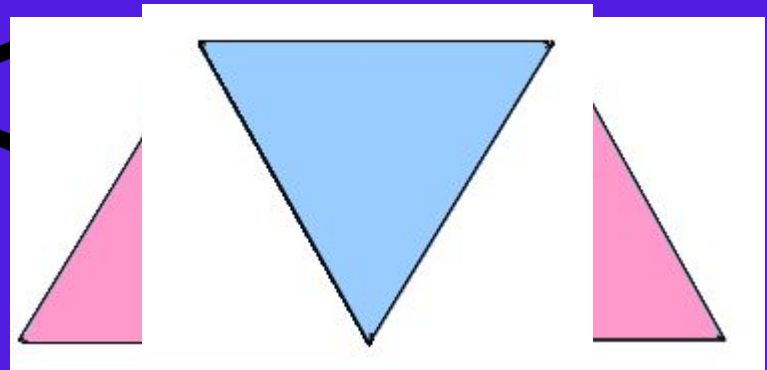
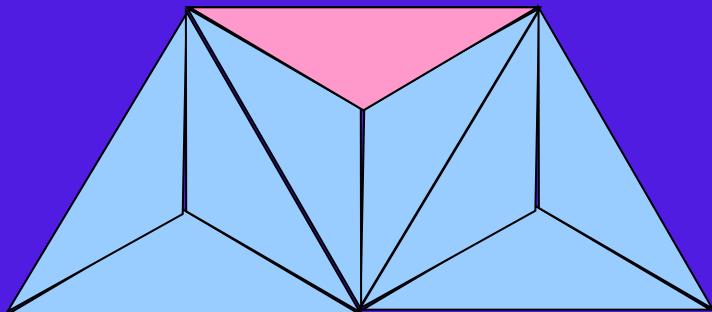

Чем больше долей,
тем **?** каждая доля.

9



3

?



Подумай!



Проверь себя!

$$\frac{1}{208} > \frac{1}{280}$$



1. Яблоко весит 300 г. Сколько весит $\frac{1}{6}$ этого яблока?
Единицу разделили на n равных частей.
Какая часть?



2. Арбуз весит 8 кг. Сколько весит половина арбуза?

$$8 : 2 = 4 \text{ (кг)}$$



3. Площадь $\frac{1}{4}$ садового участка составляет 300 м². Чему равна площадь этого участка?


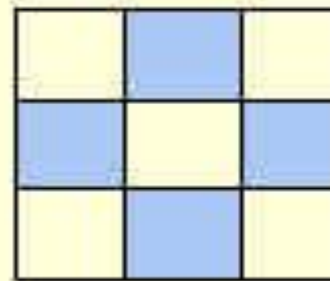
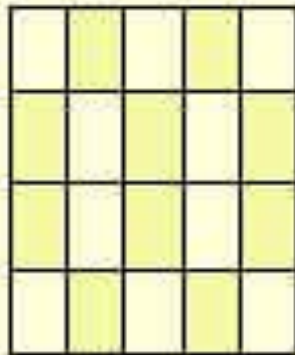
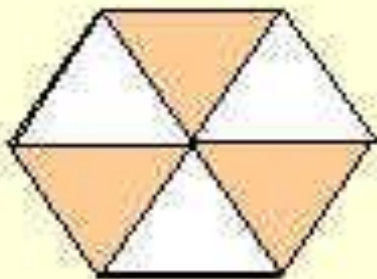
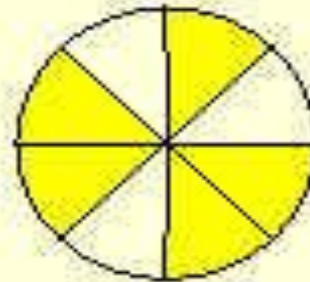
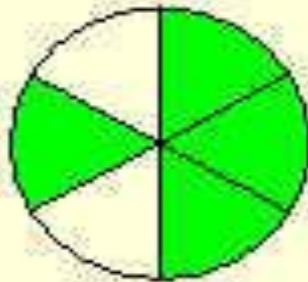
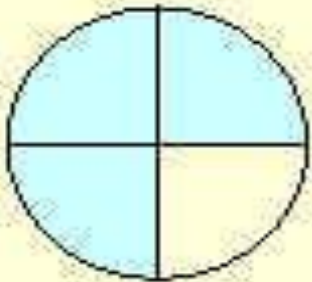
$$300 \cdot 4 = 1200 \text{ (м}^2\text{)}$$



Подумай!



ЗАПИШИТЕ ДРОБИ






4
—
17

В саду у Долиных выросло
всего 5 яблок, из них 2
красных. Какую часть фруктов
составляют красные яблоки?



$\frac{2}{5}$



$$\frac{3}{5}$$

$$\frac{8}{3}$$

$$\frac{3}{8}$$

$$\frac{5}{8}$$


В бидон Доля налила
молоко.
Какая часть бидона
занята молоком?



К


Числитель 1 5 6 4

Знаменатель



$$\frac{6}{14} \quad \frac{14}{6} \quad \frac{5}{6} \quad \frac{8}{6}$$

Какую часть всех яблок внуки положили в тарелку?



а)

б)

в)

д)

ап

ап



тог урока

Чем
Чт

ДОМАШНЕЕ ЗАДАНИЕ

СТ

