

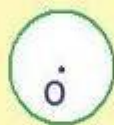
**Шаp**



1) OA - ...



2) O - ...



3) ...



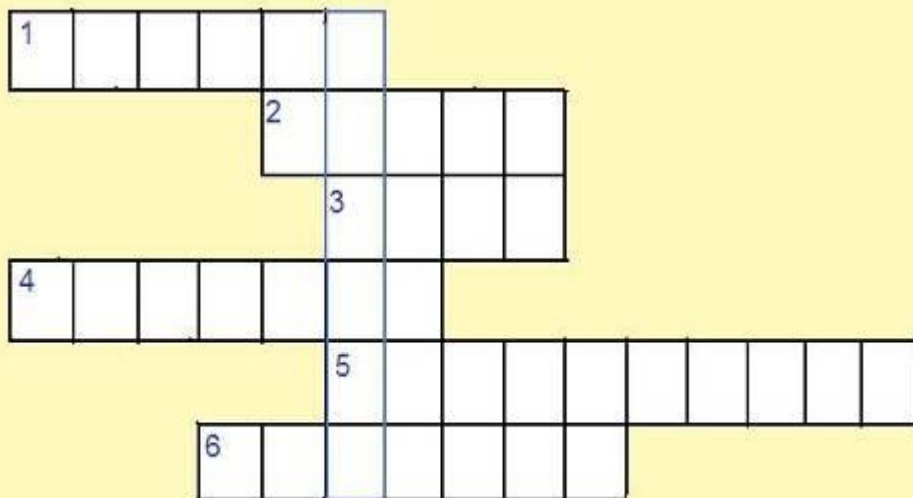
4) AB - ...



5) ...



6) Название инструмента для вычерчивания окружностей.





<http://www.photostart.info>



определите  
диаметры стволов:  
эвкалипта,  $s=25$  м  
) мамонтова дерева,  
 $s=32$  м

## ОТВЕТЫ

- Диаметр ствола эвкалипта 8,1 м
- Диаметр ствола мамонтова дерева 10,3 м



- Останкинская телебашня в Москве опирается на площадку, имеющую форму кольца. Диаметр наружной окружности 63 м, а внутренней окружности 44 м. Вычислите площадь  $S$  площадки телебашни.



- Останкинская телебашня в Москве опирается на площадку, имеющую форму кольца. Диаметр наружной окружности 63 м, а внутренней окружности 44 м. Вычислите площадь  $S$  этой площадки телебашни.

$$1525 \text{ м}^2$$


Воз








# Земля





- Окружность арены во всех цирках мира имеет длину 40,8 м. Найдите диаметр и площадь арены. Результат округлите до целых.

# Шар

