


# Повторение, обобщение и закрепление материала, пройденного за 1 полугодие.

Государственное бюджетное общеобразовательное учреждение "Камско-Устьинская кадетская школа-интернат имени Героя Советского Союза Чиркова Михаила Алексеевича"

Урок подготовила:  
Учитель математики Палёнова С.А.



# Цели:



- систематизировать, обобщить, повторить знания по теме «Обыкновенные дроби»;
- закрепить умения и навыки учащихся при решении упражнений и задач;
- развивать память, внимание, познавательные способности учащихся;
- воспитывать умение внимательно выслушивать мнение других, уважительно относиться к ответам одноклассников;
- учить работать в группах; совершенствовать сочетание индивидуальной и коллективной форм работы с учащимися.

# Пройденные темы.

- Делитель.
- кратное.
- Отношения.
- Пропорции.
- Задачи на нахождение дроби от числа и числа по его дроби.
- Сравнение, сложение, вычитание дробей с разными знаменателями.
- Сравнение, сложение, вычитание смешанных чисел.
- Умножение и деление дробей.
- Сокращение дробей.
- Признаки делимости.



# Блиц - опрос.


(1 балл за правильный ответ)

- ✓ В чем состоит основное свойство дроби?
- ✓ Признак делимости на 10.
- ✓ Какие числа называются взаимно простыми?
- ✓ Какие числа называются взаимно обратными?
- ✓ Как сравнить две дроби с разными знаменателями?
- ✓ Как умножить две дроби?
- ✓ Сколько кратных имеет любое натуральное число?
- ✓ Какая дробь называется несократимой?
- ✓ Признак делимости на 5.
- ✓ Какие числа называются четными?
- ✓ Приведите примеры простых чисел.
- ✓ Как разделить две дроби?
- ✓ Какое число является делителем любого числа?
- ✓ Признак делимости на 3 и на 9.
- ✓ Как сложить или вычесть две дроби с разными знаменателями?
- ✓ Какие натуральные числа называют составными?
- ✓ Как найти дробь от числа?
- ✓ Как выполнить вычитание смешанных чисел?
- ✓ Признаки делимости на 2.
- ✓ Как найти число по его дроби?



# Работа над задачей.

(командная работа)



- ❖ Волк и Заяц вместе вспахали поле за 6 часов совместной работы. Волк мог бы один выполнить эту же работу за 10 часов. За сколько часов Заяц может вспахать поле? (2 балла)
- ❖ Пока океанский лайнер стоял на якоре, Незнайка не покидал каюты. В полдень иллюминатор находился на высоте ровно 7 м. над уровнем моря. Во время прилива уровень воды поднимается со скоростью 1 м/ч. Через какое время вода достигнет иллюминатора? (2 балла)
- ❖ На вопрос Пяточка: «Сколько у тебя конфет?», Винни-Пух ответил: «У меня две трети конфет и еще две трети конфеты». Сколько у него конфет? (2 балла)
- ❖ Масса обычного ядра  $7\frac{5}{9}$  кг, масса ядра, на котором Барон Мюнхгаузен отправился на Луну, в 3 раза больше. На сколько масса обычного ядра меньше массы лунного ядра? (2 балла)
- ❖ Винтик уложил в ящик 9 кг гвоздей за 14 мин, а Шпунтик 14 кг гвоздей за 21 мин. Кто из них работал быстрее? (2 балла)
- ❖ Вспомнить правила сравнения, сложения, вычитания дробных чисел.

# Устная работа.

(1 балл)

- $0,1x=10$ ;
- $0,01x=10$ ;
- $0,1x=0,1$ ;
- $0,01x=0,1$ ;
- $10x=0,1$ ;
- $10x=10$



# Решить уравнение.

	К	Л	Ш	О	А	!
$359 + y = 346$	12	201	102	112	205	920
$594 - x = 308$	386	385	1218	396	286	1217
$3x + 7x = 1050$	98	70	87	105	104	17
$45x - 13 = 4442$	100	99	2213	2103	89	98
$18(15 - x) = 216$	12	201	18	5	3	7
$121 : n = 11$	105	101	13	8	9	11

№1	№2	№3	№4	№5	№6
102	386	105	99	3	11
Ш	К	О	Л	А	!



# Работа цепочкой.



1 команда	2 команда	3 команда
$\frac{12}{4} \times \frac{22}{18}$	$\frac{5}{9} \times 27$	$\frac{12}{32} \times \frac{24}{16}$
$8 - 3\frac{3}{11}$	$5 - 2\frac{8}{11}$	$6 - 4\frac{5}{11}$
$4\frac{2}{15} + 3\frac{2}{9}$	$2\frac{5}{6} + 3\frac{3}{8}$	$2\frac{5}{6} + 6\frac{3}{15}$
$\frac{3}{8} \div \frac{5}{8}$	$\frac{5}{12} \div \frac{7}{12}$	$\frac{9}{16} \div \frac{11}{16}$



# Занимательные задачи.

(2 балла - за полный ответ, 1 балл - за дополнение к ответу)

- **6 рыбаков съели 6 судаков за 6 дней. За сколько дней 10 рыбаков съедят 10 судаков?**
- **На одном дереве сидело 40 сорок. Проходил охотник, выстрелил и убил 6 сорок. Сколько сорок осталось на дереве?**
- **Два землекопа за 2 часа работы выкопают 2 м канавы. Сколько нужно землекопов, чтобы они за 100 часов работы выкопали 100 м такой же канавы?**
- **Два отца и два сына разделили между собой 3 апельсина так, что каждому досталось по одному апельсину. Как это могло получиться?**
- **По стеблю растения, высота которого 1 м, от земли ползет гусеница. Днем она поднимается на 3 дм, а ночью опускается на 2 дм. Через сколько суток гусеница доползет до верхушки растения?**
- **Есть два ведра емкостью 4 и 9 литров. Как с их помощью принести из речки ровно 6 литров воды?**




# Рефлексия.

- Перед вами три шарика: красный, желтый и зелёный.
- Если вы сегодня получили удовольствие от урока, выбирайте красный шарик, если не понравилось – то желтый, если было все равно – зеленый.



# Домашнее задание.

- № 779,780



# Урок окончен досвидание!

