

**Урок игра по  
математике.  
Путешествие в сказку.**





Мачеха  
приготовила мне  
очень много  
трудных заданий  
Успею ли я на  
бал?





Золушка! Прополи  
Грядки со свеклой.





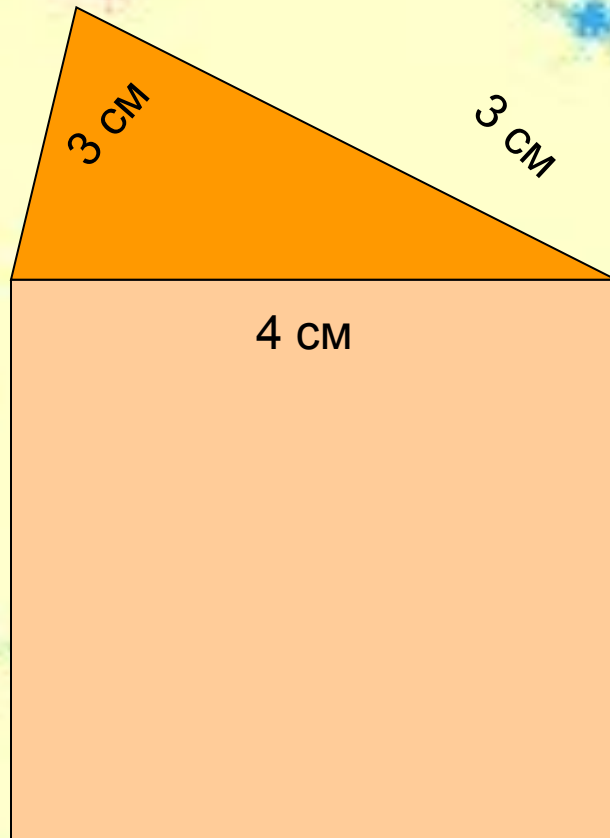
Ребята вы поможете  
мне, если быстро  
и правильно решите  
примеры.

$$20 + 5 - 10 + 9 - 4 - 8 + 30 = 42$$

$$5 + 7 + 9 - 10 + 43 + 6 - 36 = 24$$

$$25 + 30 + 2 + 3 + 28 - 8 - 60 = 20$$

Найдите периметр треугольника и квадрата. Сосчитайте периметр всего домика?



$$P_{\triangle} = 3 + 3 + 4 = 10 \text{ см}$$

$$P_{\square} = 4 + 4 + 4 + 4 = 16 \text{ см}$$

$$P_{\triangle} + P_{\square} = 10 + 16 = 26 \text{ см}$$

Мачеха приготовила 25 семян крупной моркови, редиса на 15шт больше, а огурцов на 11 меньше чем редиса. Сколько семян огурцов приготовила Мачеха?



Решение задачи.

1)  $25+15=40(\text{шт})$

2)  $40-11=29(\text{шт})$

Ответ: 29 штук

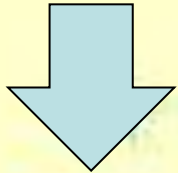


Чтобы золушка отправилась на бал, надо тыкву превратить в карету, мышей – в лошадей, крысу – в кучера!  
Для этого, ребята, вам Необходимо выполнить следующее задание!



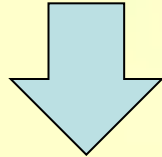
$$27+40 * 27+50$$

$$17+3 * 2+17$$



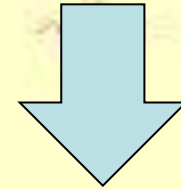
$$32+50 * 32+60$$

$$41+8 * 41+7$$



$$63+30 * 30+ 63$$

$$24+6 * 24+4$$



Пока Золушка едет на бал, давайте решим веселые задачки!



- 1. В тарелке лежали 3 морковки и 4 яблока. Сколько фруктов было в тарелке?





В люстре горело 5 лампочек. Две из них погасли. Сколько лампочек осталось в люстре?




У мамы дочка Даша, сын Саша, собака Дружок и кот Пушок. Сколько детей у мамы?



На полке стояли детские книжки.  
Подбежала собачка, взяла одну книжку,  
потом еще одну, потом еще две.  
Сколько книжек она прочитала?



Прилетели два чижа, два стрижа, два  
ужа. Сколько птиц летало около моего  
дома?



- На столе стояло 5 стаканов ягоды. Миша съел один и поставил его на стол. Сколько стаканов стоит на столе?





Ребята,  
спасибо вам за  
помощь!  
Без вас я бы  
не успела на бал!



