

Вспоминаем таблицу умножения



*МКОУ «Краснинская школа-интернат »,
Ленинск – Кузнецкий район,
Кемеровская область
Черепанова Елена Николаевна,
учитель математики.*

Анимированные пазлы





Ребята!

**Помогите мне
восстановить
изображение волка. Для
этого решайте примеры и
выбирайте правильный
ответ. С каждым верно
решённым примером
будет открываться
часть картинки.**

Удачи!



$$5 \cdot 7$$

14

42

21

49


28

56

35

63

*Выбери
правильный
ответ*



$$54 : 6$$

2

3

4

5


**Выбери
правильный
ответ**

9

6

7

8



$$24 : 6$$

2


6

3

7

4




8



5

9

**Выбери
правильный
ответ**



$$49 : 7$$

2

3

4

5

**Выбери
правильный
ответ**


9

6

7

8



16



42

$3 \cdot 8$

24



49

28

56

32

**Выбери
правильный
ответ**



63

8

12

16

20



$$2 \cdot 4$$



24

28

32

36

**Выбери
правильный
ответ**



2

3

4



$$45 : 5$$



6

7

8

5



**Выбери
правильный
ответ**

9

2

3

4



$$36 : 4$$

6

7

8

5

**Выбери
правильный
ответ**

9

$$9 \cdot 8$$

16

48

24

56

32

64

40

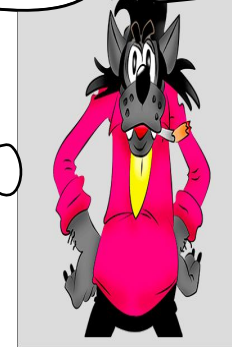



**Выбери
правильный
ответ**

72


14

21

28



$8 \cdot 7$



42

49





56

35

**Выбери
правильный
ответ**

63

$$48:8$$



2

3

4

5

**Выбери
правильный
ответ**

9

6


7

8

2

3

4



6


7

8

5

**Выбери
правильный
ответ**

9



Молодц



Интернет –

источники:

**<http://www.indezine.com/bank/puzzlepictures.html> - шаблон
пазлов**

<http://i052.radikal.ru/0810/84/0424e36b9356.jpg> - картинка

<http://www.funlib.ru/cimg/2014/102113/2627364> - заяц

