



# Амалдардың қасиеттерін бекіту





# *Мақсаты:*

1. Есепті түсініп, талдауға және шығара білуге үйрету.

2. Оқушылардың ойлау қабілетін, байқағыштығын дамытып, пәнге қызығушылығын арттыру.

3. Өзара жанашырлыққа, адамгершілікке тәрбиелеу


# Сабақ барысы:



## I.Ұйымдастыру кезеңі.

### Психологиялық дайындық.

- Қазір кімнің көңіл-күйі өте тамаша, қол көтерсін!
- Кімнің досы осы сыныпта отыр, қолын шапалақтасын!
- Кім өз-өзіне сенімді, қол көтерсін!
- Бүгін біздер сабақта не істейтінімізді білетін бала қолын шапалақтасын!
- Қазір не істейтінімізді білмейтін бала қол көтерсін!



Онда, балалар, дәптерлерімізді ашып,  
бүгінгі күнді жазып, көркем жазуды  
орындайық.

2сағ 50мин \* 180 мин

10148кг \* 10т 481кг

36x5x20=





*Ойлан, тап!*

**Балалар, мына тамаша суретті қарай отырып,  
ойымызға қандай ой келеді?**





# Көктем мезгілі


## КӨКТЕМ МЕЗГІЛІ



### Оның ерекшелігі неде?

Міне, осы тамаша жыл мезгілі тамаша мерекелерді де алып келді. Алғашқы күннен бастап қуанышты күн Аналар мерекесі өтті.

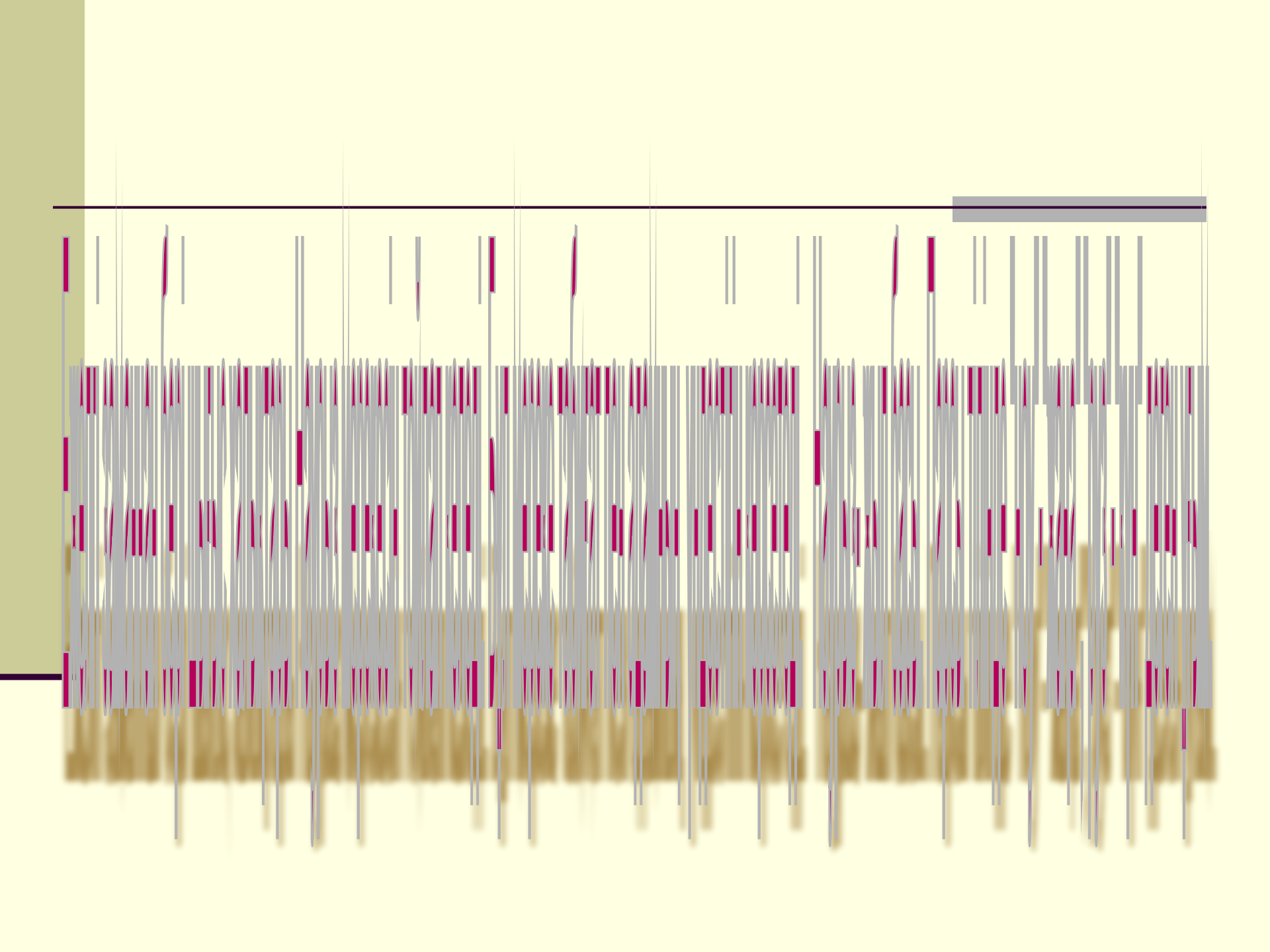
Енді бір күллі жер шарын дүр сілкіндіретін керемет мереке жақындап келе жатыр. Ол қандай мереке деп ойлайсыңдар?






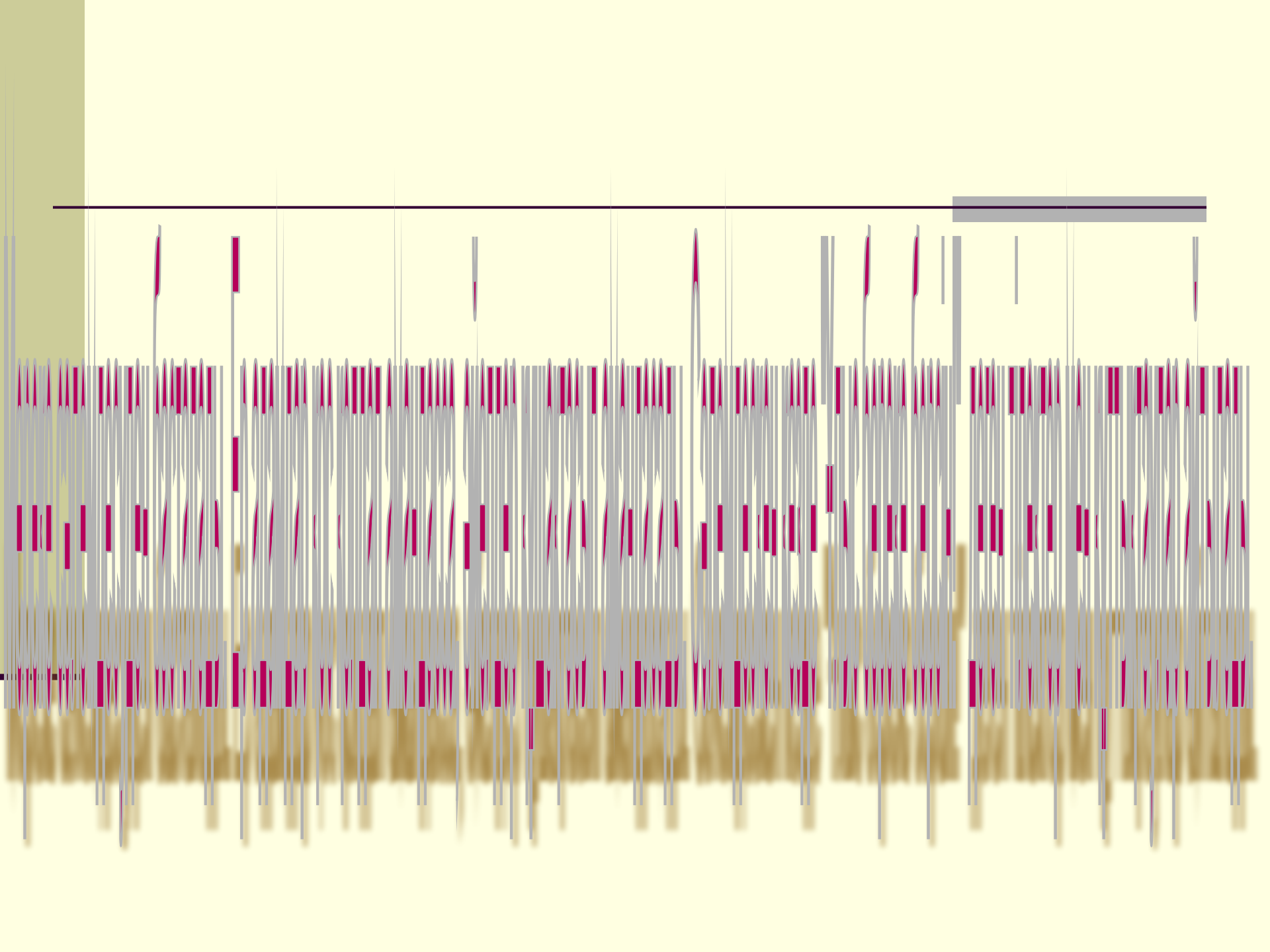
Наурыз





# К и і з ү й







# Салыстыр.



$$616 \times 307 * 617 \times 30$$

$$315 \times 7 \times 2 * 315 \times 14$$

$$266 : 14 * 266 : 19$$

$$306 : 18 * 306 : 17$$

$$354 \times 4 \times 5 * 5 \times 353 \times 4$$

$$2450 \times 512 * 512 \times 2449$$



*Оқушылар жетістігі*



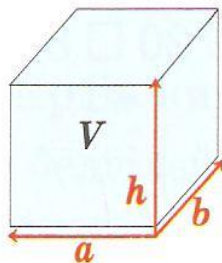
# Алтыбақан



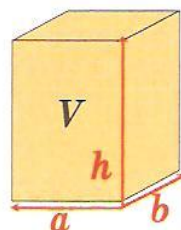


# Көлемі, ұзындығы және ені белгілі қораптың биіктігін тап.

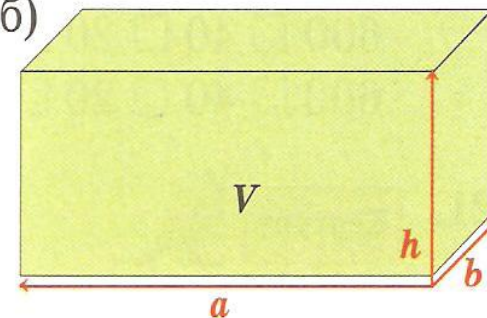
а)



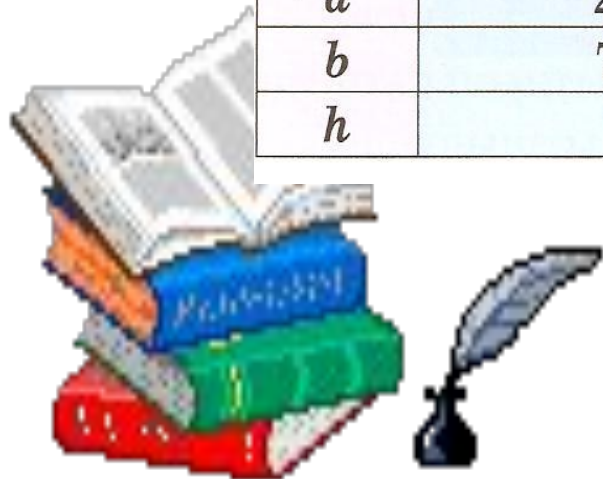
ә)



б)




	а)	ә)	б)
$V$	$84\,000\text{ см}^3$	$360\text{ дм}^3$	$720\,000\text{ см}^3$
$a$	$20\text{ см}$	$5\text{ дм}$	$90\text{ см}$
$b$	$70\text{ см}$	$8\text{ дм}$	$50\text{ см}$
$h$	$?\text{ см}$	$?\text{ дм}$	$?\text{ см}$





# Бәйге



# Есептерді шығар

а) Баспаханадан 254 600 газет басылып шықты. Бірінші күні оның  $\frac{1}{5}$  бөлігі, ал екінші күні қалғаны сатылды. Екінші күні қанша газет сатылды?

ә) Баспаханадан таралымның  $\frac{1}{3}$  бөлігін құрайтын 4 000 оқулық басылып шықты. Әлі неше оқулық басылып шығарылуы керек?







Тенңге аягы



# Есептеп, дұрыстығын тексер.

$579 \times 823 =$

$7\ 595 : 217 =$

$231\ 693 : 231 =$



$6\ 007 \times 241 =$

$12\ 492 : 347 =$

$51\ 054 : 127 =$

$506 \times 908 =$

$125 \times 456 =$



КЫБЫЗ

КЫҢЫ

Қалдырылған амал таңбаларын қойып жаз.

$$600 \square 40 \square 20 \square 8 = 668$$

$$600 \square 40 \square 20 \square 8 = 548$$


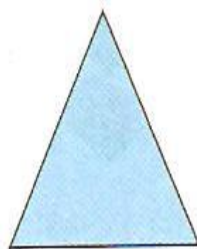



# Көкпар





# Дұрыс пікірді ата.



- Егер фигура үшбұрыш болмаса, онда ол ақ түсті.
- Егер фигура шеңбер де, үшбұрыш та болмаса, онда ол ақ түсті.
- Егер фигура көгілдір түсті болмаса және ол үшбұрышқа жатпаса, онда ол – шаршы.
- Егер фигура қызыл сары түсті болмаса, онда ол шеңбер емес.

Сурет бойынша өзіңнің дұрыс және бұрыс пікіріңді айт.



# Оқушылар жетістігі

