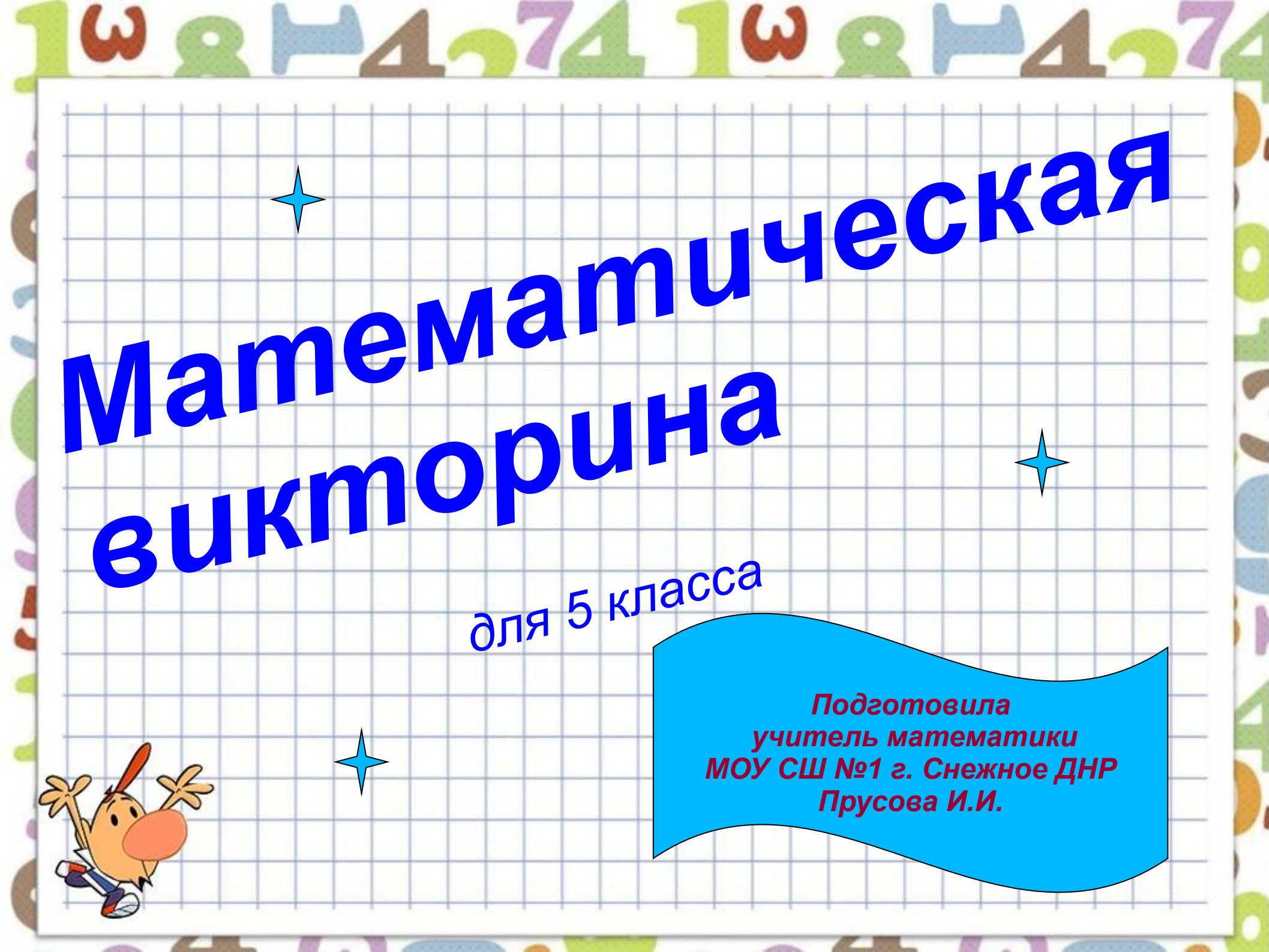




УМНИКИ И УМНИЦЫ



Математическая
викторина


для 5 класса



Подготовила
учитель математики
МОУ СШ №1 г. Снежное ДНР
Прусова И.И.

Вопрос 1:


- Кащей Бессмертный
старше
от Бабы Яги на 50 лет.
На сколько лет он будет
старше
от нее через 20 лет?

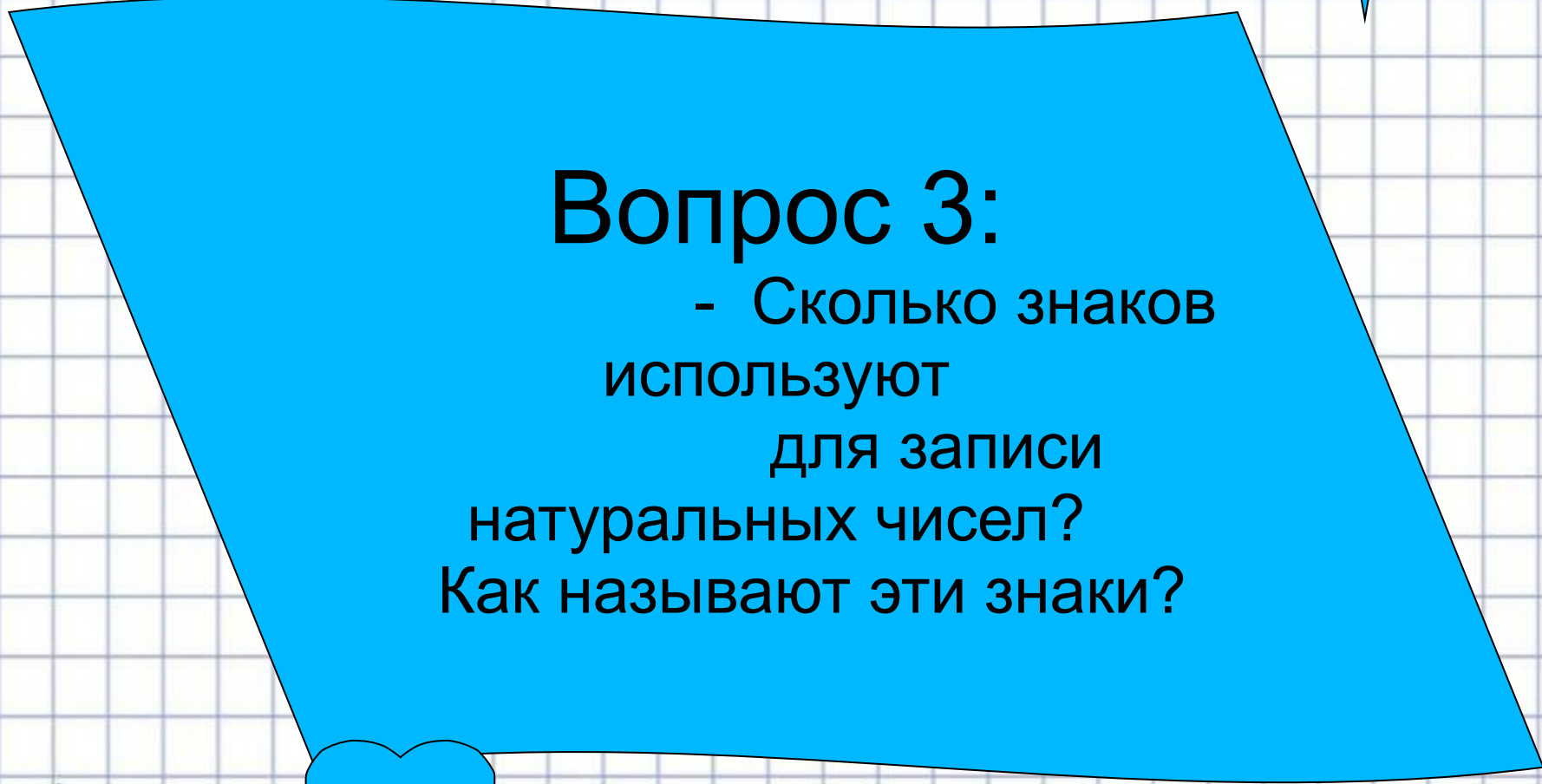

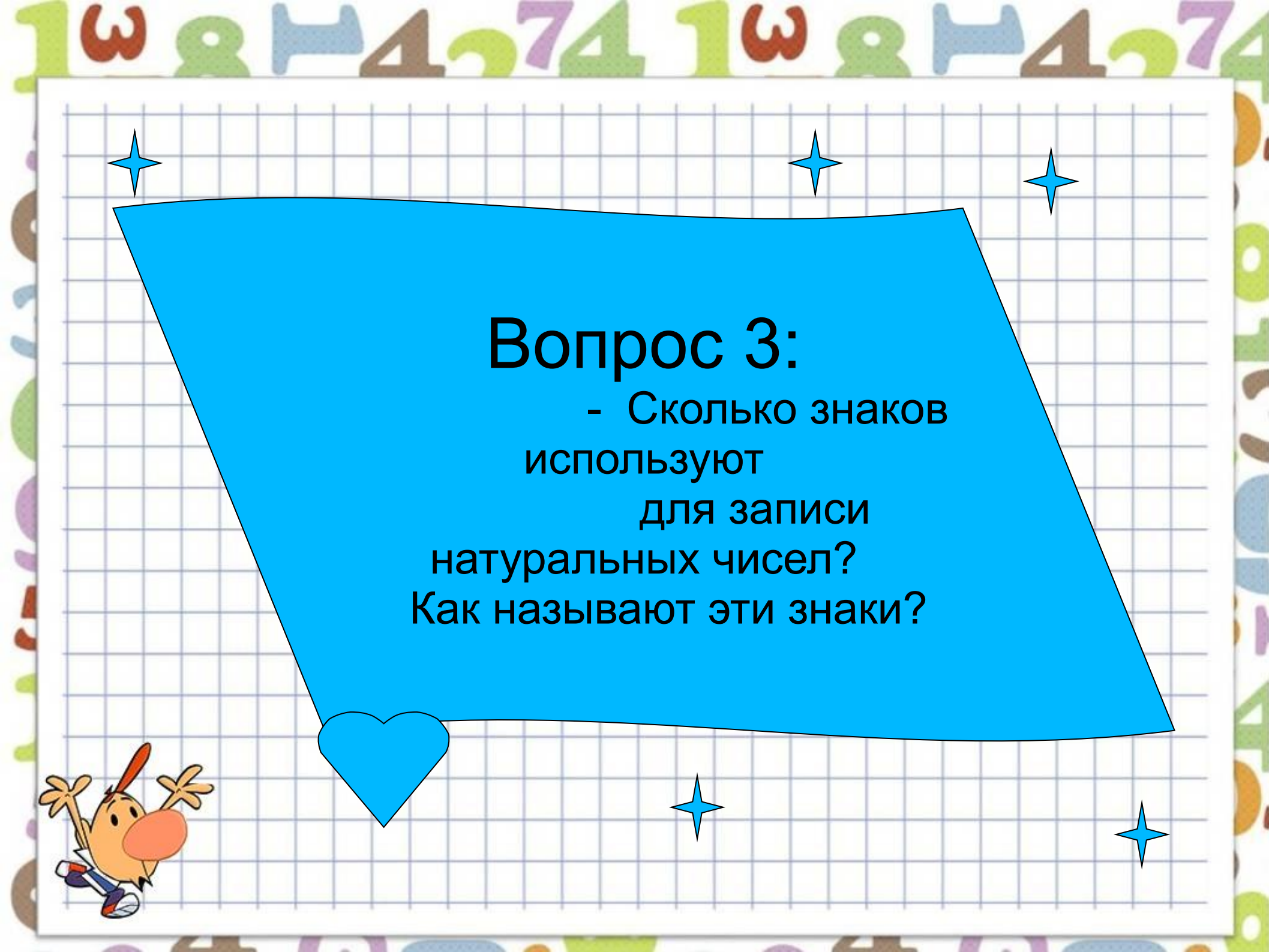


Вопрос 2:


- Сосна выше ели, а
ель
выше березы.

Какое дерево
самое высокое?





Вопрос 3:
- Сколько знаков
используют
для записи
натуральных чисел?
Как называют эти знаки?




Вопрос 4:


- Аленка
сказала Наде:
«Если прибавить к
наибольшему
однозначному числу
наименьшее однозначное
число,
то узнаешь сколько лет
моей сестре».

Сколько лет сестре

Аленки?




Вопрос 5:
- Может ли
быть так,
чтобы сумма
двух чисел
равнялась
одному из них?



Вопрос 6:
- Может ли


произведение двух чисел
равняться
одному из них?



Вопрос 7:

- Чему равна
разность

равных чисел?






Вопрос 8:

- Вопрос на внимание,
которое очень важно для
математики.

Внимательно прослушайте
слова

и из последних слогов
составьте новое слово.

Коза, мода, туча.




Вопрос 9:

- Прочитайте
зашифрованное
слово,

ВСПОМНИВ

алфавит:

24 10 14 11 1.




Вопрос 10:

- Отгадав слово
задача,
теперь решите
задачу:

В классе 30 учащихся.
Из них 18 учеников
занимаются в секции
легкой атлетики,
10 в секции
плавания,
3 учащихся занимаются
в обеих секциях.

Сколько учащихся
не занимаются
ни в одной из
секций?



Вопрос 11:


- Червячок ползет по стволу дерева.

Ночью он поднимается на 4м,

а днем опускается на 2м вниз.

На восьмую ночь червячок доползает до вершины дерева.

Какая высота дерева?






Вопрос 12:

- Выпивая стакан
чая
с сахаром на
завтрак,
ученик получает
15г углеводов.

Сколько
углеводов получит ученик,
выпивая 2
стакана чая?



Вопрос 13:


- А теперь задача –
шутка :

Чтобы быть всегда
чистым,
человеку необходимо
24 кусочка мыла на год.

Если мыть только
пятки и уши,
то мыла пойдет в 8
раз меньше.

На мытье каждого
уха уходит
по одному кусочку
мыла .

Сколько кусочков
мыла пойдет
на 1 год на
мытье пяток?



а
с
и
б
о
з
а
в
н
и
м
а
н

