

Қызылорда облысы Жаңақорған ауданы



Абуталипова Гулзада

№256 орта мектеп

XXI ғасырдың жас математигі



Түгіскен 2017 жыл

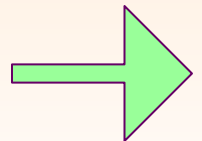
«Байге»



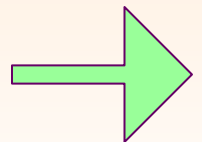
1) Геометрия сөзі грекшеден
аударғанда қандай ұғымды
білдіреді?



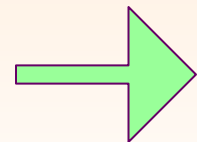
2) Алгебра сөзі неден
шыққан?



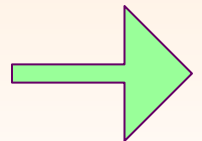
3) П-дің мәні неге тең?



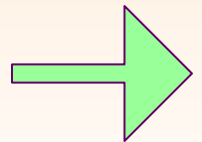
4) Параллелепипедтің
неше қыры, неше жағы
бар?



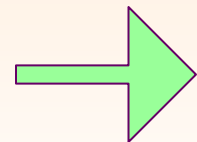
5) Үшбұрыштың төбесі мен
қарсы жатқан қабырғасының
ортасын қосатын
кесінді.



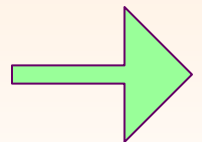
6) Шеңбердің ең үлкен
хордасы.



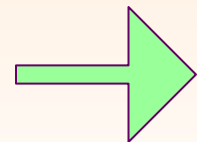
7) Қай сан барлық санға
қалдықсыз бөлінеді?



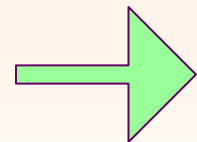
8) 2-ғасырда неше жыл бар?



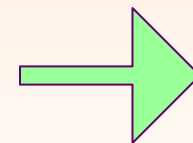
10)Қандай түзулердің
ортақ нүктесі жоқ.



11) Ең кіші натурал сан?



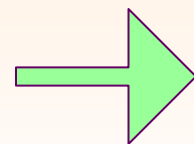
12) Бұрышты өлшейтін құрал



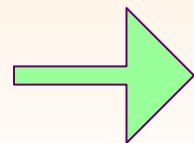
“Тіл өнері”



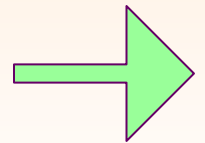
1) Жоқ өзінде баста, қас
та, мойын да, Ұзындығы
жазулы тұр бойында.



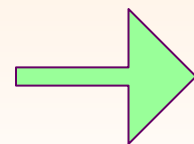
2)Қабат-қабат қаттама,
Ақылың болса, аттама.



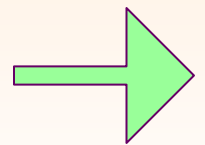
3) Түйеқұс таразыда бір аяғымен тұрғанда 12 кг тартады. Ал егер екі аяғымен тұрса қанша тартады.



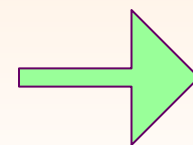
4)----- рет өлшеп, бір рет кес.



5) Алты қырлы,
Алтын сырлы.



“Ғажайып үштік”



Ғажайып үштік



20

20

20

30

30

30

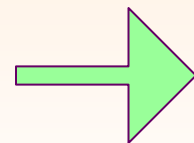
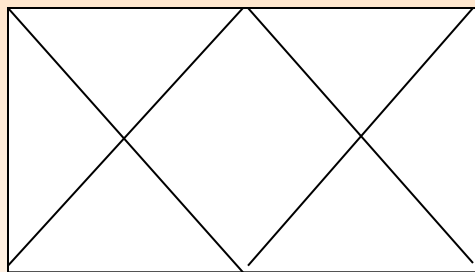
40

40

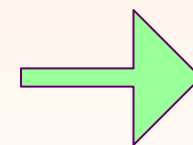
40

Келесі

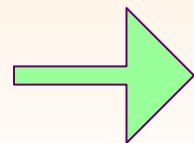
1. Суреттегі фигурада неше
үш бұрыш бар?



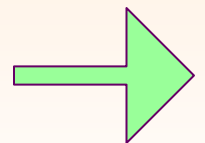
2. Екі адам 5 метрлік бөренені
ұзындықтары тең 5 бөлікке кесті,
Егер бөлікті кесугі 1,5 минут
кетсе,
бөренені кесуге қанша минут
кетеді?



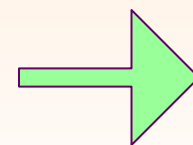
3) 2^{23} -қандай цифрмен
аяқталады?



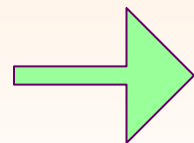
Ұзындығы 135 см. Сымды
біріншісі екінші бөлігінен екі
есе етіп екі бөлікке бөлген, әр
бөліктің ұзындығын тап?



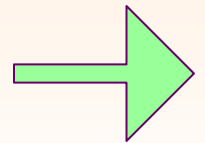
Шопанның барлық қойының
320-сы су ішіп жатыр.
Қалғаны жайылып жүр,
жайылып жүрген қойлар су
ішіп жатқан қойлардың
ширегіндей. Шопанда
барлығы қанша қой бар?



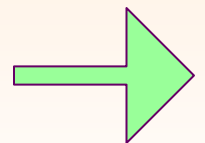
$|x-4|=7$ теңдеуінің түбірін тап?



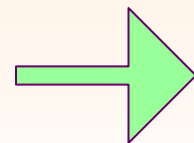
Жолдас үш баланың
жастарының қосындысы 29
тең. 5 жылдан кейін олардың
жастары бірге алғанда қанша
болады?



Шахмат турниріне 7-адам қатысқан әрбіреуі әрқайсысымен бір партиядан ойнайды. Барлық ойналған партиядардың саны қандай?



Мәди мен Асхат екеуі 5 тоқаш сатып алды, Мәди 1 тоқашты 6 минутта жесе, Асхат 1 тоқашты 4 минутта жеді. Балалар тоқаштарын бірдей уақытта жеп болды. Мәди неше тоқаш, Асхат неше тоқаш жеді?



“Көкпар”



Формулалар

20

20

20

Ғалымдар

30

30

30

**Логикалық
есептер**

40

40


40

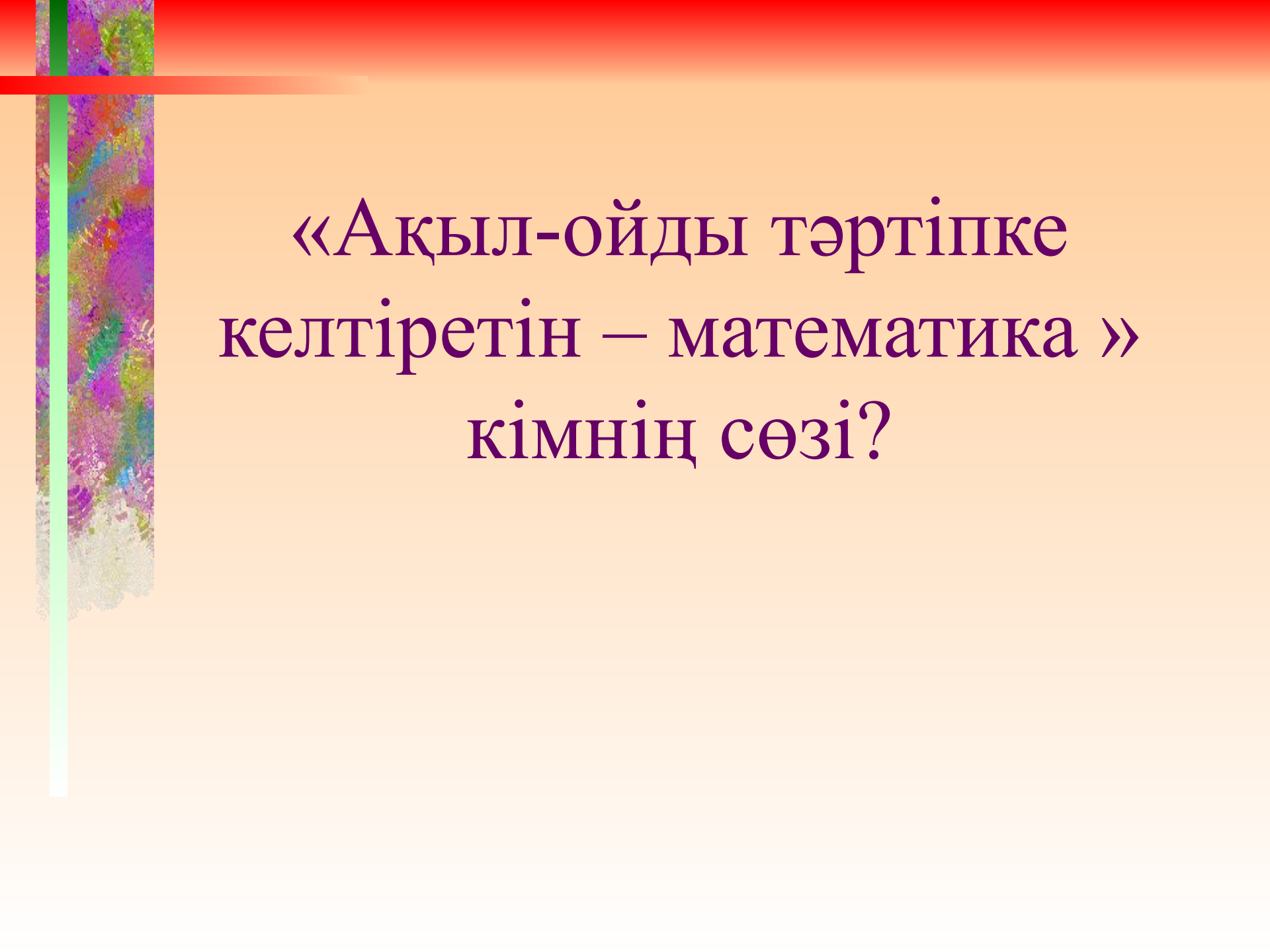
Келесі

$((a + (a + b))^3 = a^3 + 3a^2 b + 3ab^2 + b^3)$ ненің
формуласы?




V = aBC

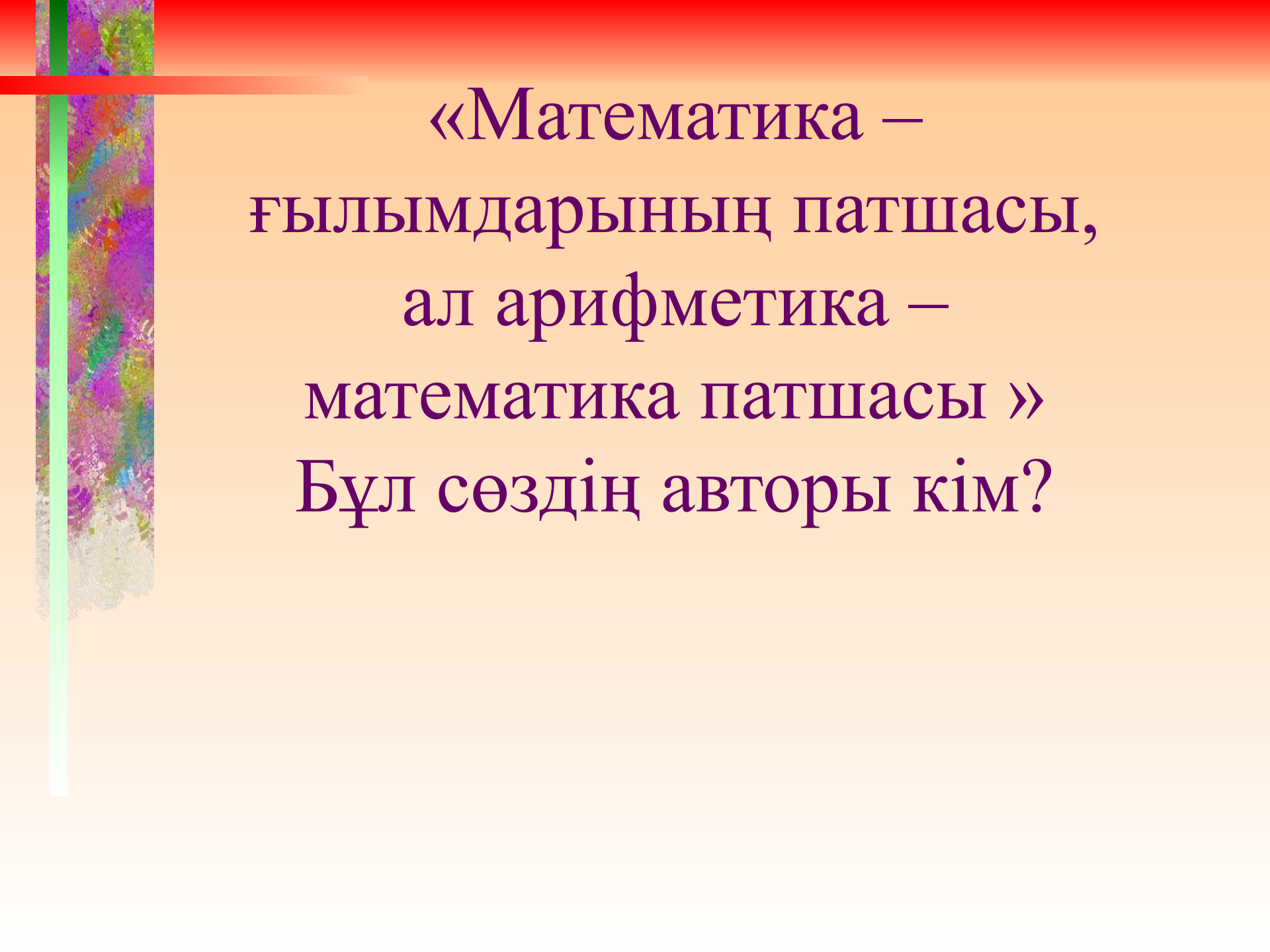

$$(aB)^n = a^n B^n$$



«Ақыл-ойды тәртіпке
келтіретін – математика »
кімнің сөзі?




Математик, дәрігер,
ақын музыкант, екінші
Аристотель атанған
ШЫҒЫСТЫҢ ҒҰЛАМАСЫ
кім?




«Математика –
ғылымдарының патшасы,
ал арифметика –
математика патшасы »

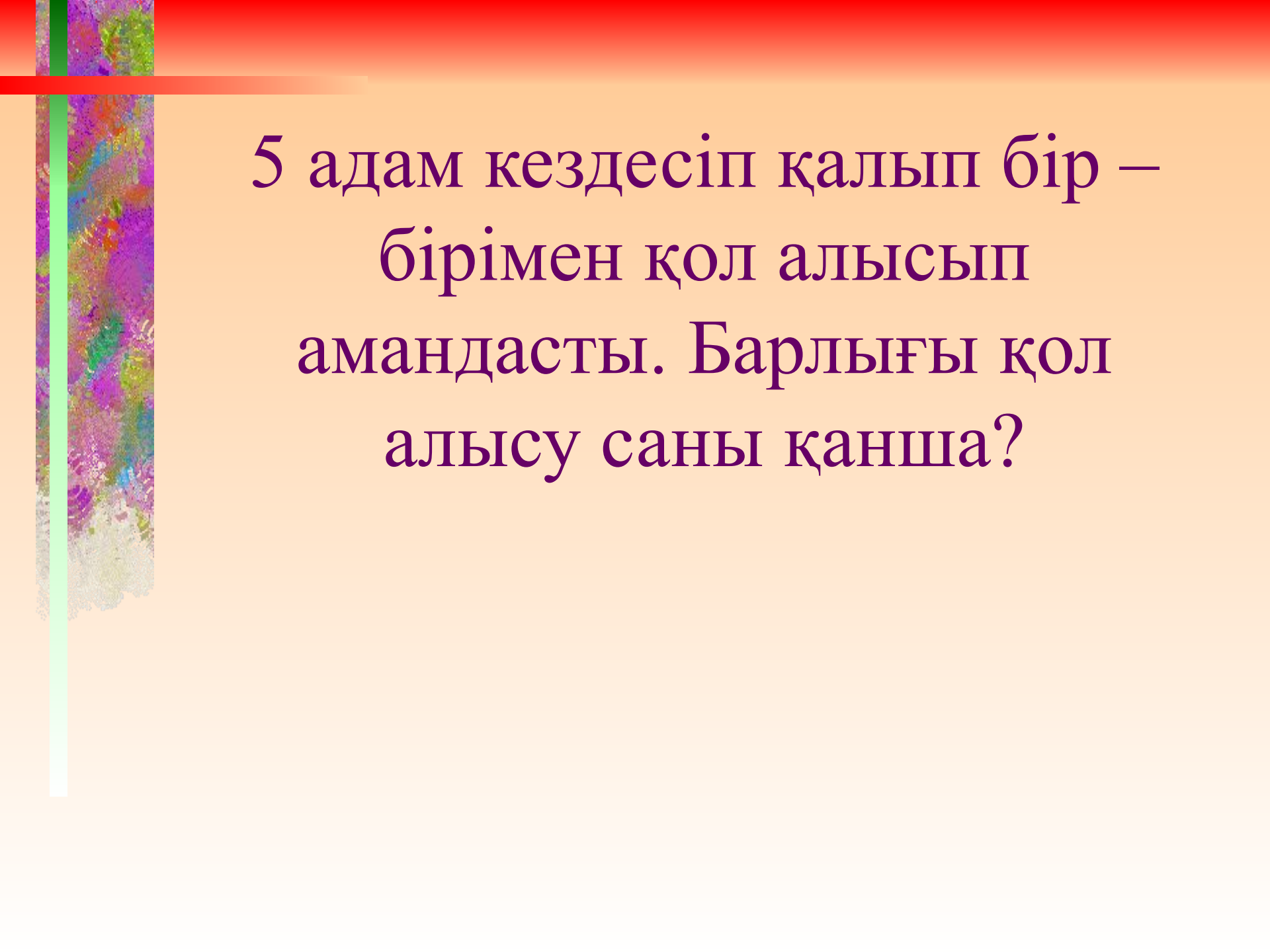
Бұл сөздің авторы кім?



Бір баланың жасы үш жылдан соң бұрынғы жасынан 2 есе артық болды. Ол қанша жаста?



Үш ат жегілген шана бір
сағатта 15 км\сағ, жүріп
өткен. Әрбір аттың
жылдамдығы қандай еді?



5 адам кездесіп қалып бір –
бірімен қол алысып
амандасты. Барлығы қол
алысу саны қанша?

“Жорға”





Назар аударғандарыңызға
рахмет.

