



М. И. Моро С. И. Волкова С. В. Степанова

Математика



$$8 + 4$$



1

Часть
2


ПРОСВЕЩЕНИЕ
ИЗДАТЕЛЬСТВО




М. И. Моро С. И. Волкова

Математика

Рабочая
тетрадь



$$8 + 4$$





1

Часть
2



ПРОСВЕЩЕНИЕ
ИЗДАТЕЛЬСТВО





$$2 + 3 = 5$$



$$6 - 2 = 4$$



$$2 + 2 + 2 = 6$$



На 2 больше

?


Решение.

1) $3 + 2 = 5$ (яб.)- во 2 тарелке.

2) $5 + 3 = 8$ (яб.) - всего

Ответ: 8 яблок всего.

Яблоки и другие фрукты и овощи можно считать штуками, а можно килограммами



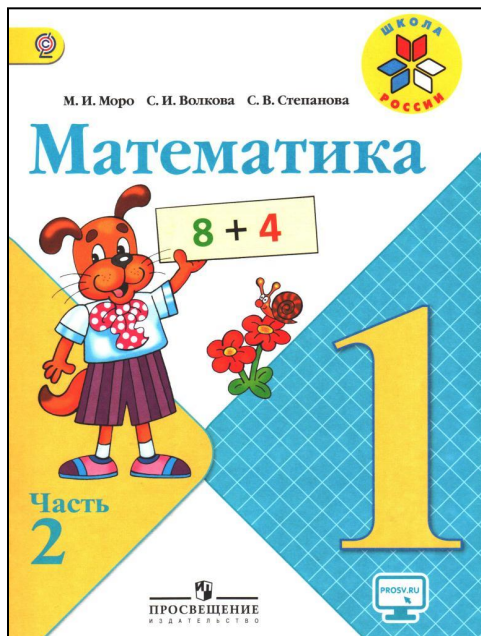
1 яблоко



1 кг яблок

Что такое килограмм?



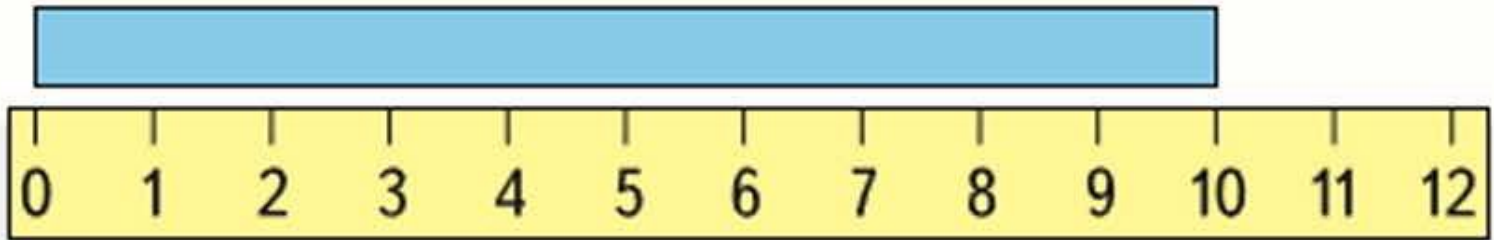


с.62 № 2

• **№ 3**

• **№ 4**

Что такое дециметр?




- Начерти отрезок 10 см, а ниже такой же, но подпиши его длину по-другому.

1 Оле 7 лет, а Саше 9 лет. На сколько лет Оля младше Саши? На сколько лет Саша ... Оли?

Ответ:

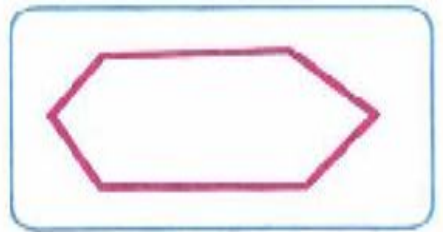
2	$2 + 8 + = 14$	$17 - = 7$	$8 + = 8$
<input type="checkbox"/>	$4 + 6 + = 18$	$15 - = 5$	$8 - = 8$

3



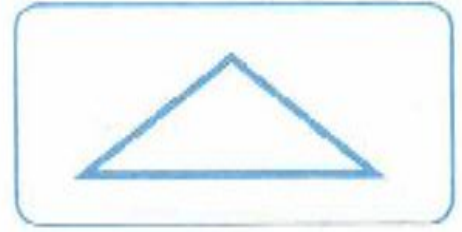
многоугольник

ломаная



отрезок

треугольник




- 4 На тарелке лежат 4 пирожка с мясом и 6 пирожков с капустой. На сколько меньше ..., чем ... ?

Ответ:

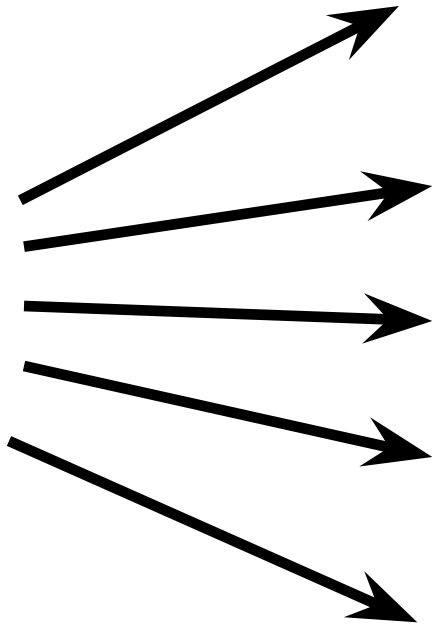
5

$16 -$	$= 10$	$7 = 3 +$	$10 - 5 =$
$11 -$	$= 10$	$6 = 4 +$	$10 - 2 =$

- 6 На каждом рисунке проведи 1 отрезок так, чтобы получился многоугольник.



Я



УЗНАЛ

ЗАПОМНИЛ

НАУЧИЛСЯ

УДИВИЛСЯ

ПОВТОРИЛ