



КОУ ВО «ЦЛПДО»



Урок математики в 1 классе



«Решение текстовых задач»



Подготовила учитель начальных классов

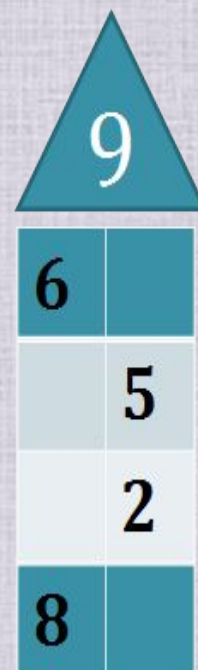
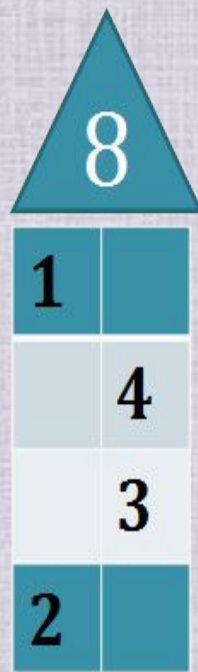
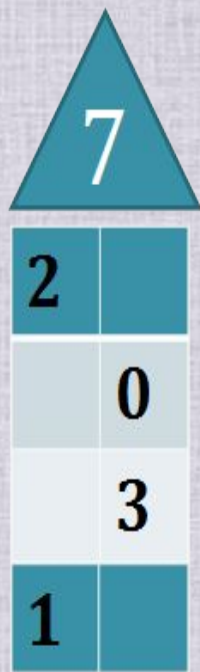
Н.В. Мартынова





УСТНЫЙ СЧЁТ

« ЗАСЕЛЯЕМ ДОМИКИ »



Игра «Продолжай не зевай»



1, 4, ..., ...;

10, ..., ..., ...;

9, ..., ..., ...;

0, ..., ...,



Проверьте

1, 4, 7, 10;

10, 7, 4, 1;

9, 6, 3, 0 ;

0, 3, 6, 9 .



Игра «Назови соседей»





Игра «Найди число»

$4 + ? = 7$

$9 - ? = 7$

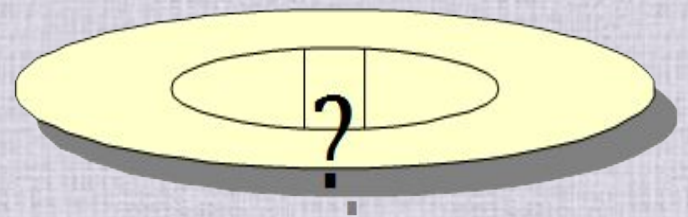

$5 + ? = 8$

$? - 3 = 6$

$10 - ? = 8$



Составь задачу по рисунку





Работа над новой темой



?

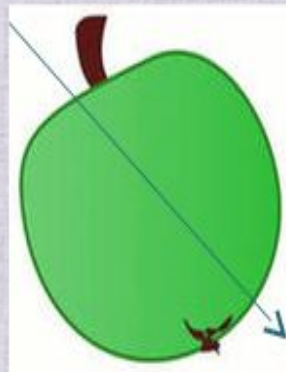
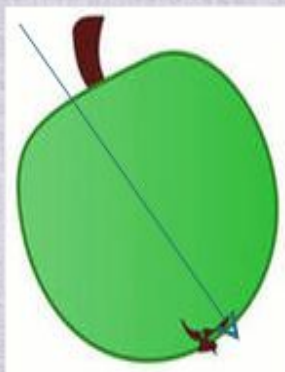





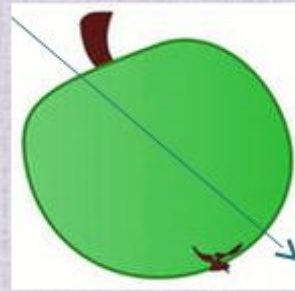
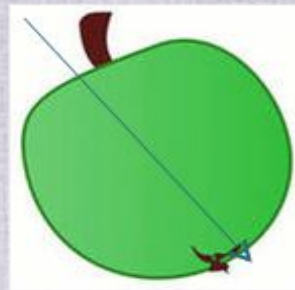
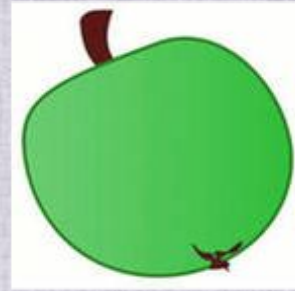
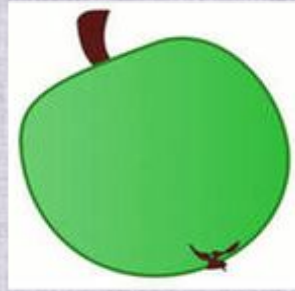
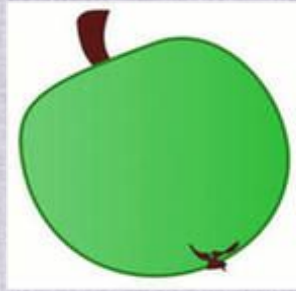
Работа над новой темой



?

$$6 + 2 + 1 = 9$$





$$6 - 1 - 1 = 4$$



Решите задачу

СВЯЗАЛА - 

ОТДАЛА - 

ОСТАЛОСЬ - ?



5



Решите задачу

С яблоками -



С капустой -?, столько же

Сколько всего -?



5



*Самостоятельно решите
задачу*

СНАЧАЛА -



ПОТОМ - ЕЩЁ



СКОЛЬКО СТАЛО - ?



Решите примеры

$8 + 2$

$6 + 3$

$7 + 1$

$9 - 1$

$7 - 2$

$9 - 3$



Интернет-ресурсы:

Кубики с цифрами http://img-fotki.yandex.ru/get/6510/134091466.a/0_8eade_b145a1ba_S

Сова http://img-fotki.yandex.ru/get/6520/108950446.113/0_cd1fc_4b1c61ad_S

Циркуль http://img-fotki.yandex.ru/get/6423/108950446.113/0_cd1e7_4caa1851_S

Цифра 5 http://img-fotki.yandex.ru/get/9511/134091466.ce/0_cb245_e401dbc8_S

Блокнот с ручкой http://img-fotki.yandex.ru/get/19/108950446.6d/0_b4102_1793a431_S



Сайт <http://linda6035.ucoz.ru/>