

**Мавзу:**

**Нотўғри касрни аралаш  
сонга ва аралаш сонни  
нотўғри касрга  
айлантиришга доир  
мисоллар ишлаган**



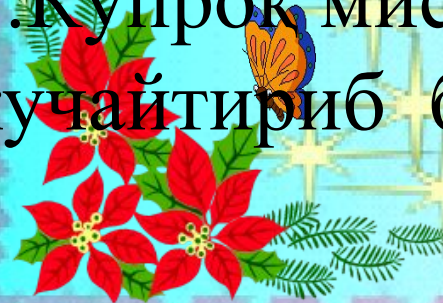
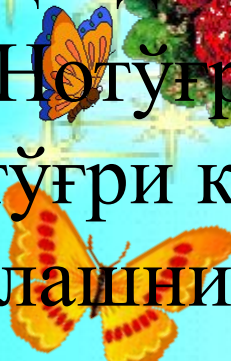
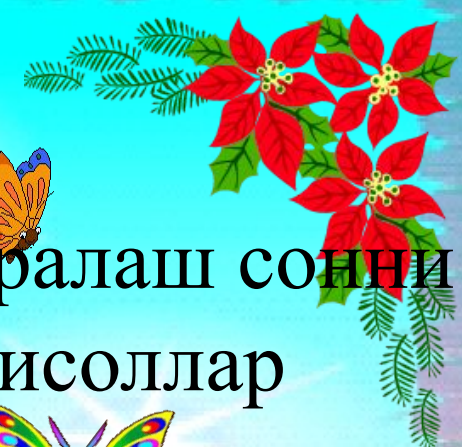
Мақсади:

1. Нотўғри касрни аралаш сонга ва аралаш сонни нотўғри касрга айлантиришга доир мисоллар ишлашни ўргатиш

2. Нотўғри касрни аралаш сонга ва аралаш сонни нотўғри касрга айлантиришга доир мисоллар ишлаш

қобилиятини ривожлантириш

3. Кўпроқ мисоллар ишлаб, ўқувчилар билиминини кучайтириб бориш



**1.Ташкилий қисм**

**2.Уй вазифасини сўраш**

**а)Қандай каср нотўғри каср деб аталади?**

**б)Нотўғри каср аралаш сонга қандай айлантирилади?**

**в) Аралаш сон нотўғри касрга қандай айлантирилади?**

### **3. Янги мавзу**

**Нотўғри касрни аралаш сонга ва аралаш сонни нотўғри касрга айлантиришга доир мисоллар ишлаш**

# Ким топқир ўйини

1. Қўрамында әріппен белгіленген белгісіз саны бар теңдік ....деп аталады

4. Айирмаси 2 га тенг булган иккита туб сон.... деб аталади

2. Ёзилиши 0 ёки 5 рақами билан тугайдиган натурал сонлар ....

5. Екіден көп бөлгіштері бар натурал сандар ....деп аталады

3. Бірге және өзіне ғана бөлінетін натурал сандар.....деп аталады

6. Сурати махражидан кичик бўлган каср ....деб аталади

# Ким топқир ұйини

7. О нүктесінен бірдей қашықтықтағы нүктелерден құралған тұйық сызық...деп аталады

10. Ёзилиши жуфт рақам билан тугайдиган сонлар....

8. Айлана диаметрини ҳисоблаш формуласи

11. Бір нүктеден шыққан екі сәуледен құралған фигура.... деп аталады

9. Жазықтықтың шеңбердің ішіндегі бөлігі, шеңбердің өзімен қоса....деп аталады

12. Тўғри бурчакдан катта бўлган бурчак....

# Тест саволлари

# Тест жавоблари

## 1-вариант

1 А

6 С

2 С

7 В

3 А

8 А

4 Е

9 А

5 А

10 С

## 2-вариант

1 В

6 С

2 А

7 С

3 Е

8 В

4 Д

9 А

5 А

10 С

# *Китоб билан ишлаш*

4. Дарсни мустаҳамлаш  
Нотўғри касрга айлантинг:

$$5 \frac{2}{21}$$

$$8 \frac{7}{17}$$

$$13 \frac{11}{12}$$



**Аралаш сонга айлантинг:**

$$\frac{25}{20} \quad \frac{100}{75} \quad \frac{198}{102}$$



# ЛОГИК саволлар

1). Хонананинг ҳар бир бурчагида биттадан мушукўтирибди. Ҳар бир мушукнинг қаршисида 3тадан мушук ўтирибди. Хонада ҳаммаси бўлиб нечта мушук бор?

4). Соат рошпа-роса 3бўлганда соат стрелкалари 90 градусли бурчак ҳосил қилади. 12 соат давомида бундай бурчак неча марта ҳосил бўлади?

2). Метронинг ўзи юрар зинапоясидан икки киши югуриб чиқишяпти. Уларнинг бири иккинчисига қараганда тезроқ югурмоқда. Айтингчи, уларнинг қайси бири юқорига кўтарилгунча кўпроқ зинапоя поғоналарини санайди?

5). Бир километр бир миллиметрдан неча марта узун?

3). 1 дан 20 гача бўлган сонлар орасида нечта туб сон бор?

6). Кўзгуда аксимизни бор бўйича кўришимиз учун кўзгунинг баландлиги камида қандай бўлиши керак?



# ЛОГИК саволлар

7). Тўғри тўртбурчакнинг бир бурчагини кесиб ташласак нечта бурчак қолади?

8). 66 ва 99 сонлари орасида 5 га қолдиқсиз бўлинадиган нечта сон бор?

9). Ёниб турган 8та чироқнинг 3таси ўчса нечтаси қолади?

10). 1 дан 11гача бўлган сонлар орасида нечта мураккаб сонлар бор?



## ББҮ стратегиясы

Білемін	Білгім келеді	Үйрендім



# Ўқувчиларни баҳолаш



# 507-МИСОЛ 128-БЕТ





**Эътиборинглар  
учун рахмат !**