

Тапқырлар тартысы





1-ТОП

1. Ағаш үстінде 30 торғай отыр еді, аңшы оның екеуін атып түсірді. Торғайдың қаншасы қалды?

Жауабы: /екеуі қалды/

2. Егер екі кірпіштің салмағы 8 кг болса, 1,5 кірпіштің салмағын тап.

Жауабы: 6кг

3. Барлық сандардың көбейтіндісі көп пе, әлде қосындысы көп пе?

Жауабы: /қосындысы/

4. ЖОҚ ӨЗІНДЕ БАСТА, ҚАСТА, МОЙЫНДА ҰЗЫНДЫҒЫ ЖАЗУЛЫ БІР БОЙЫНДА.

Жауабы: (сызғыш)

5. Төрт бұрыштан 1 бұрышын алып (қиып) тастасақ неше бұрыш қалады?

Жауабы: (5)



2-ТОП

1.ШЕҢБЕРДІҢ ҮЛКЕН ХОРДАСЫ.

Жауабы: /диаметр/

2. 1 қатарда 8 тас, аралары 2 см - ден, 2 – ші қатарда 15 тас, аралары 1 см - ден. Қай қатар ұзынырақ

Жауабы: бірдей

3. Күшіне сенген бір мықты
Жығып алып сегізді
Қайда барайын дегізді .


Жауабы: (шексіздік)

4. Ұзындығы 10 метр жіпті әр бөлігі 2 метр болу үшін неше рет қию керек?

Жауабы:4

5. Дорбадағы 10 асықты 10 бала алды. Сонда дорбада 1 асық қалды. Ол қалай?

Жауабы: бір бала асықты дорбасымен алған



3-ТОП

1. Жүзден бір бөлік?

Жауабы: /процент/

2. Көбінесе ай 30 не 31 сан мен аяқталады. Ал қай айда 28 деген сан бар?.

Жауабы: барлық айда 28 күн бар

3. Біз санбыз сызықпен бөлінген
Математиканы ұқпас адамға
Құбыжық боп көрінген,
Дұрыс, бұрыс, аралас,
Ондық болып бөлінген.


Жауабы: /бөлшек сан/

4. Қолыңызда 10 саусақ бар. 10 қолда неше саусақ бар?

Жауабы: (50)

5. Түйеқұс 2 аяғымен тұрса тұрса 1 пұт тартса, 1 аяғымен тұрса неше пұт тартады?

Жауабы: (1)



III кезең.

«Кім жылдам?»



1-топ

1. Құдықтың тереңдігі 19 метр. Құдыққа түскен құрбақа сыртқа шықпақшы. Ол күндіз 4 метр жоғары тырбанады. Түнде шаршағандықтан 3 метр төменге сырғанады.

Құрбақа неше күнде құдықтан шыға алады?

Жауабы: 16

2-топ

2. Бір кісіден қанша жаста екенін сұрағанда ол былай деп жауап берді: «Егер мен тағы да қазіргі жасымның жартысын, $\frac{1}{3}$ және $\frac{1}{4}$ өмір сүрсем 100 жасқа келген болар едім». Адам қаншада?

жауабы: 48

3-топ

3. Қой мен тауықтардың бастарының саны 36, ал аяқтары 100. Сонда қанша қой, қанша тауық бар?

Жауабы: қой-14, тауық-22

IV кезең.

Талантыңмен таныл





1	2	3
4	5	6
7	8	9


«Өрмекші торы»

1. Кез келген бағыттағы сандардың қосындысы 30-ға тең болатындай етіп торкөздерді 2, 4, 6, 8, 12, 14, 16, 18 сандарымен толтыр.




	10	

12	2	16
14	10	6
4	18	8



« От »


2 ұпайыңыз күйіп кетті!



«Қарамысық».




ойын кезегі
келесі топқа
беріледі!



«Лотерея билеті»



3 ҰПАЙ
СЫЙЛЫҚҚА
БЕРІЛЕДІ!




«ҚАМАЛ».

АРНАЙЫ СҰРАҚ (ТӨМЕНДЕГІ САНДАРДЫҢ
ӘРҚАЙСЫСЫНА БІР ӘРІП СӘЙКЕС КЕЛЕДІ.
БІРДЕЙ ЦИФРЛАРҒА БІРДЕЙ ӘРІПТЕР
СӘЙКЕС КЕЛЕДІ. 1747 САНЫНА СӘЙКЕС
КЕЛЕТІН СӨЗДІ ТАБЫҢДАР. (40ҰПАЙ)

- 1). 5737 АРЗУ
- 2). 7147 КУЗУ
- 3). 6237 СУЛУ
- 4). 1747 УСЛУ

1747 СУЛУ




Қызыл конверт- «Логика».

1. Ойлаған санға бірді қостым, қосындыны екіге көбейттім. Көбейтіндіні төртке бөлдім. Бөліндіден үшті азайттым. Бір шықты. Мен қандай сан ойладым?
2. Қандай 3 натурал санның қосындысы олардың көбейтіндісіне тең?

Жауабы: $\left(\frac{(x+1)*2}{4}\right)-3 \quad x=7$

ЖАУАБЫ: (1,2,3)



«Математика»- жасыл конвертінің сұрақтары

.Екі қатынастың теңдігі?


.Айырмашылығы тек таңбаларында ғана болатын

сандар? Қарама-қарсы

.Сан аралықтарының неше түрі бар? Оларды атаңдар.


(5 түрі. Кесінді, интервал,
жартылай интервал, сәуле,
ашық сәуле)

пропорция



«Мақал-мәтелдер» - сары конверт

Құрамында сандар бар мақал-
мәтелдер айтыңдар.



« жұмбақ» - көк конверт .

Түйе, бота маң басқан,

Төрт аяғын тең басқан.

Шұнақ құлақ бес ешкі,

Қос лақты қос ешкі.

Екі қозылы екі қой

Бәрін бірге санап қой



Жауабы:15

