


**Игра**  
**«Морской бой»**  
**7 класс**

# Правила игры:

- Все учащиеся делятся на команды по 5-6 человек
- На экране появляется вопрос.
- Команды тихо, в своей группе обсуждают решение и пишут ответ на листочке ( на листке должно быть обязательно указано название команды).
- Листок с ответом относят жюри.
- После того, как все команды принесут ответы, показывается ответ на вопрос.
- За каждый правильный ответ-1 балл.

# Назвать учёного



**Пифагор**

Назовите фигуру:



Трапеция

Какая дробь лишняя?

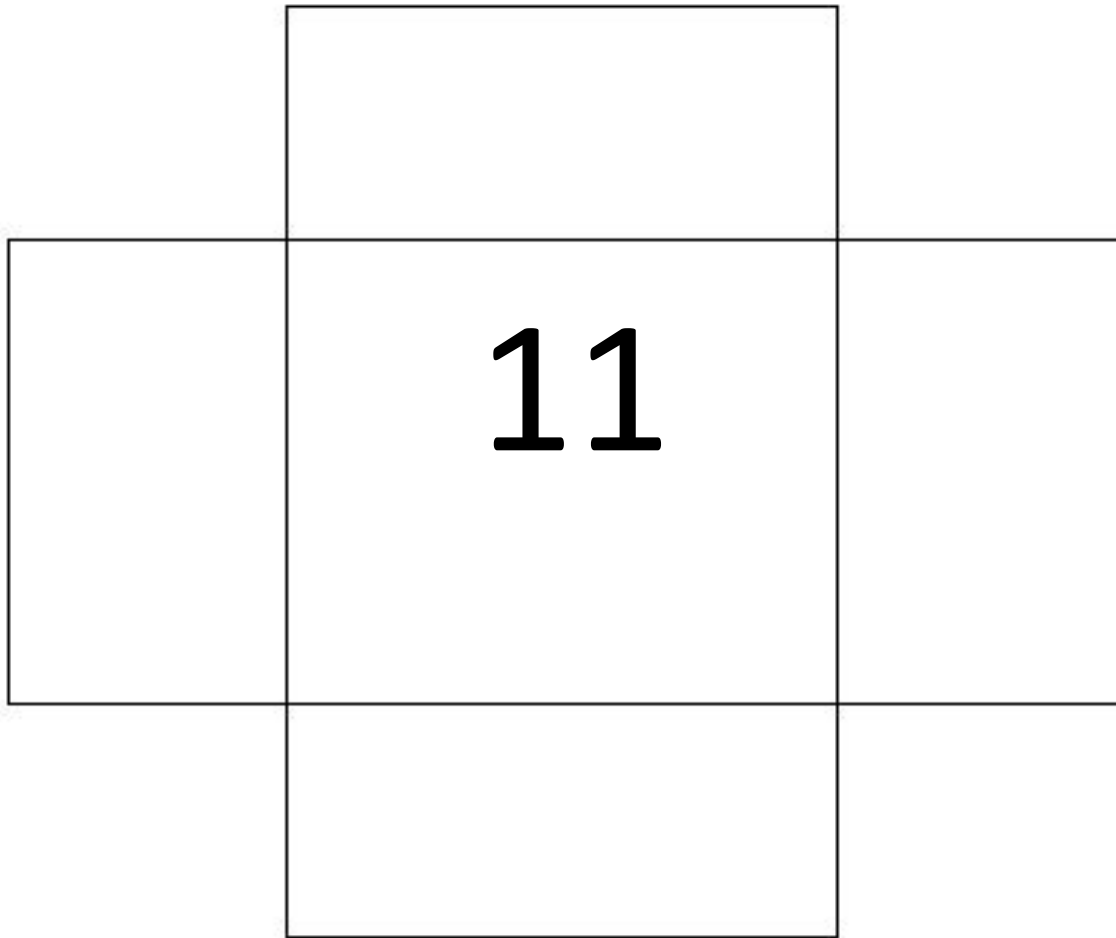
$$\frac{1}{2}$$

$$\frac{16}{3}$$

$$\frac{16}{31}$$

$$\frac{24}{53}$$

Сколько прямоугольников на  
рисунке?



# Вставъте число вместо знака вопроса

6
2

12
4

24
8

48
<del>12</del> 16

# Убрать лишний многоугольник

Трапеция

~~Треугольник~~

Квадрат

Прямоугольник

Ромб



**Назовите следующее  
число**

28, 33, 31, 36, 34, 39

# Убери лишний угол


45 градусов

67 градусов

89 градусов

91 градус

**Сосчитайте треугольники**



**Поздравляе  
м  
победителе  
й!**