




Урок математики во 2 Е классе



Математику, друзья,
Не любить никак нельзя.
Очень строгая наука,
Очень точная наука,
Интересная наука -
Это математика!

Минутка час бережёт.

Делу время – потехе час.

Век живи – век учись.

Два часа просыпался,

Два часа умывался,

Один час утирался,

Сутки одевался.



Поздно поднялся - день
потерял.

В молодости не научился – жизнь
потерял.

Цель урока:

Закрепить ранее изученный материал по математике, расширить знания детей о времени, воспитать бережное отношение ко времени



Задачи

1. Закрепление вычислительных навыков, знания таблицы умножения, умение решать задачи, используя действие умножения
2. Формирование представления о времени и о единицах его измерения, систематизировать знания единичных отношений между мерами времени
3. Развитие логического мышления, внимания, общей культуры

13 мая.

Классная работа.



Напишите число, которое
находится между числами 879
и 881.



К 8 сотням прибавьте 4
единицы.



**НАПИШИТЕ ЧИСЛО, В
КОТОРОМ 6 ДЕСЯТКОВ И
3 ЕДИНИЦЫ.**



Число 140 увеличьте на 7.



Делимое 72, делитель 8,
найдите частное.



Первое слагаемое 780, второе
слагаемое 2. Чему равна
сумма этих чисел?



Чему равно делимое, если делитель равен 7, а частное - 8.

Проверяем:

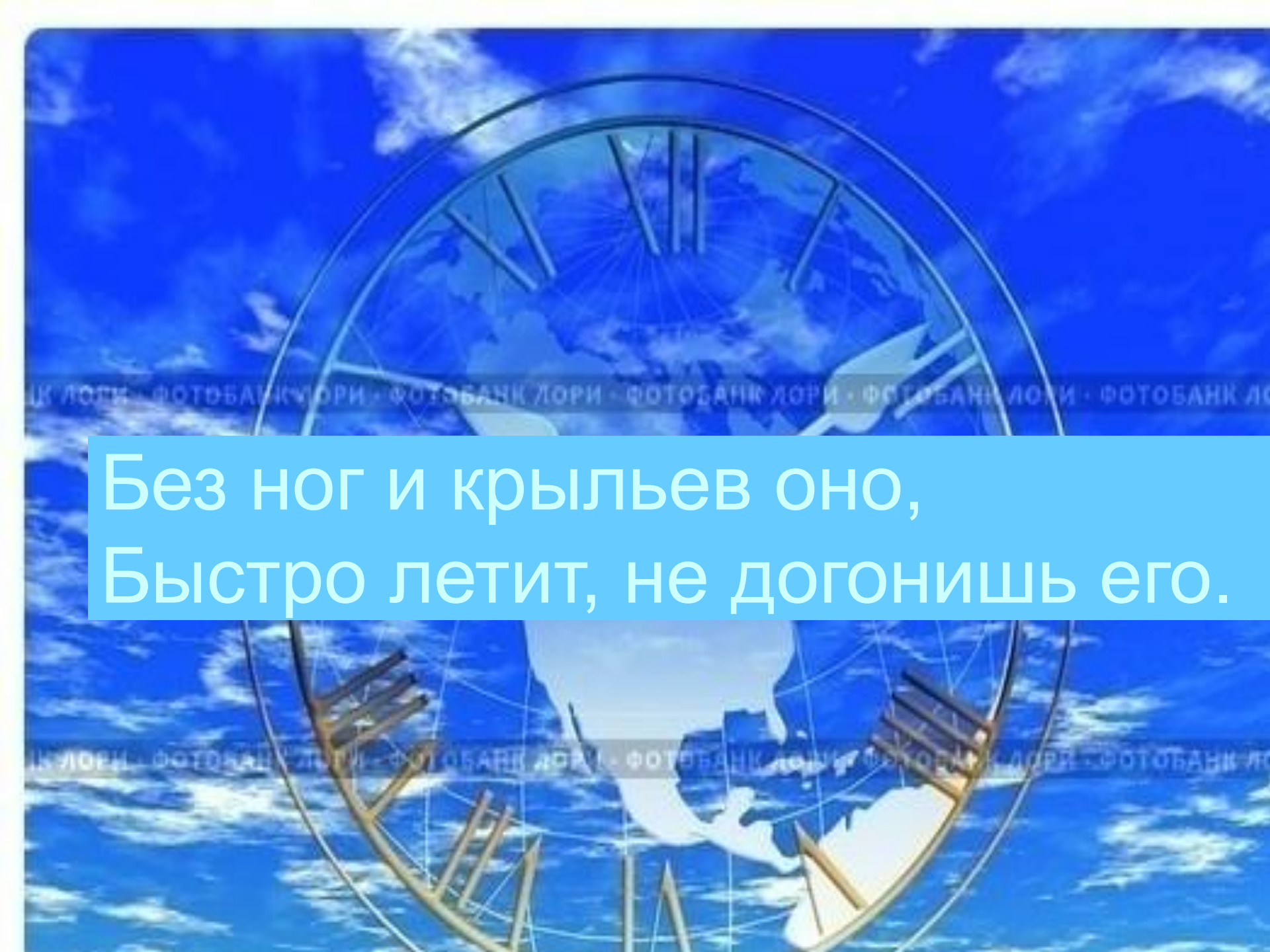
880, 804, 63, 147, 9, 782, 56

Расположите числа в порядке
возрастания

880, 804, 63, 147, 9, 782, 56

Проверяем:


9, 56, 63, 147. 782. 804, 880.

A blue-tinted image of a globe with a clock face overlay, symbolizing speed and time. The globe is centered on the Atlantic Ocean, with North and South America visible. The clock face is semi-circular, with the top half visible. The hands of the clock are white, and the numbers are represented by thin lines. The background is a bright blue sky with white clouds. A semi-transparent blue banner with white text is overlaid on the center of the image.

Без ног и крыльев оно,
Быстро летит, не догонишь его.

Детишки преодолевают время по-своему!

И УЧИТЬСЯ И ГРАЯ



*Ура
гас гомбс*



Секунда

Минута


Час

Сутки

Неделя

Месяц

Год



Время

© ElenArt / Фотобанк Лори



lori.ru/2566




1
2
5
30

Время

© ElenArt / Фотобанк Лори

ФОТОБАНК ЛОРИ

lori.ru/256666



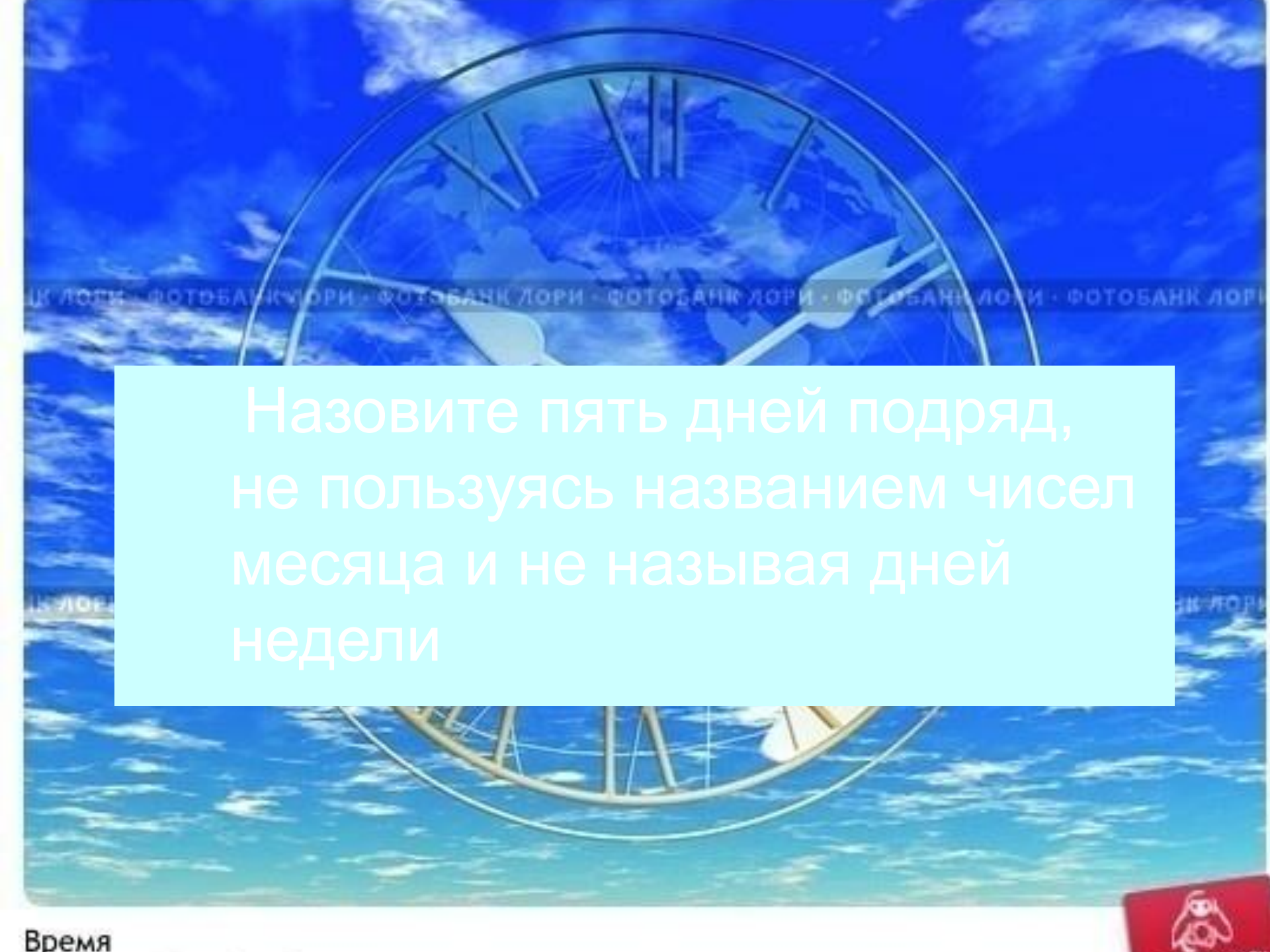
Одни сутки
Двое суток
Пять суток
Тридцать суток



$5 * 5$	$5 * 1$
$8 * 7$	$3 * 9$
$7 * 9$	$2 * 7$
$5 * 3$	$3 * 5$
$7 * 1$	$2 * 5$
$5 * 9$	$5 * 4$
$3 * 1$	$9 * 5$
$2 * 3$	$1 * 5$
$4 * 5$	$8 * 3$

1	2	3	4	5	6	7	8	9
2								
3								
4								
5								
6								
7								
8								
9								

1	2	3	4	■	6	7	8	9
2		■		■		■		
■				■				■
4				■				
■		■	■	■				■
6				■				
■				■				■
8		■		■		■		
9				■				



Назовите пять дней подряд,
не пользуясь названием чисел
месяца и не называя дней
недели





Позавчера

Вчера

Сегодня

Завтра

Послезавтра

Физкультминутка

Тик – так! Тик – так!

Ходят часики вот так!

Влево – шаг! Вправо – шаг!

Тик - так! Тик – так!



Поставь вместо звёздочек знаки сравнения так, чтобы получились верные равенства.

3 недели * 1 месяц

2 месяца * 10 недель

4 недели * 1 месяц

30 дней * 4 недели

9 недель * 64 дня

8 недель * 2 месяца

Задача.

Ежедневно второклассник читал 8 страниц. Сколько страниц он прочитал за 5 дней?

Задача.

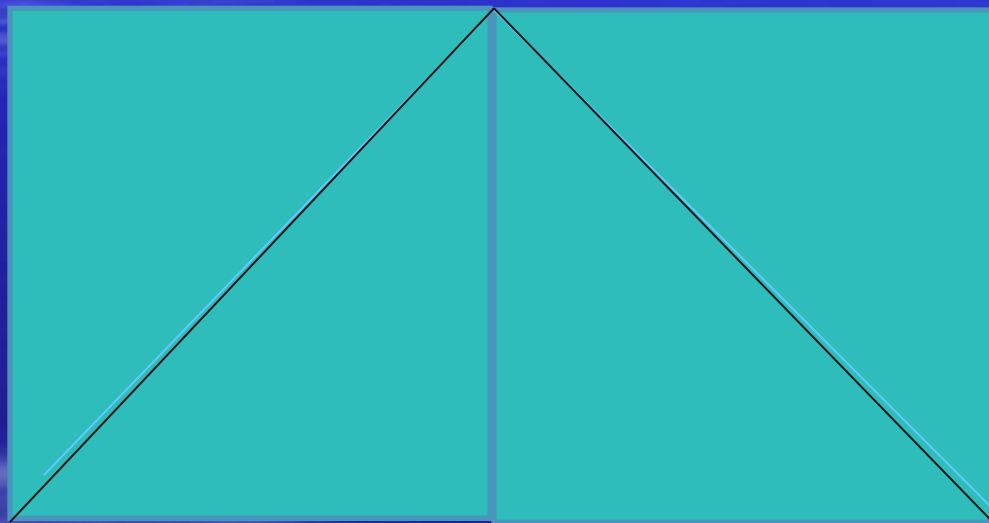
Ваня проснулся, когда часы показывали **7 часов 10 минут** утра. Ему понадобилось: **12 минут**, чтобы умыться, **9 минут**, чтобы съесть завтрак, **6 минут** на уборку комнаты, **25 минут** на упражнения на фортепьяно, **20 минут** на дорогу в школу.

Сколько свободного времени осталось у Вани

перед уроком, если уроки начинаются


в **8 часов 30 минут** утра?

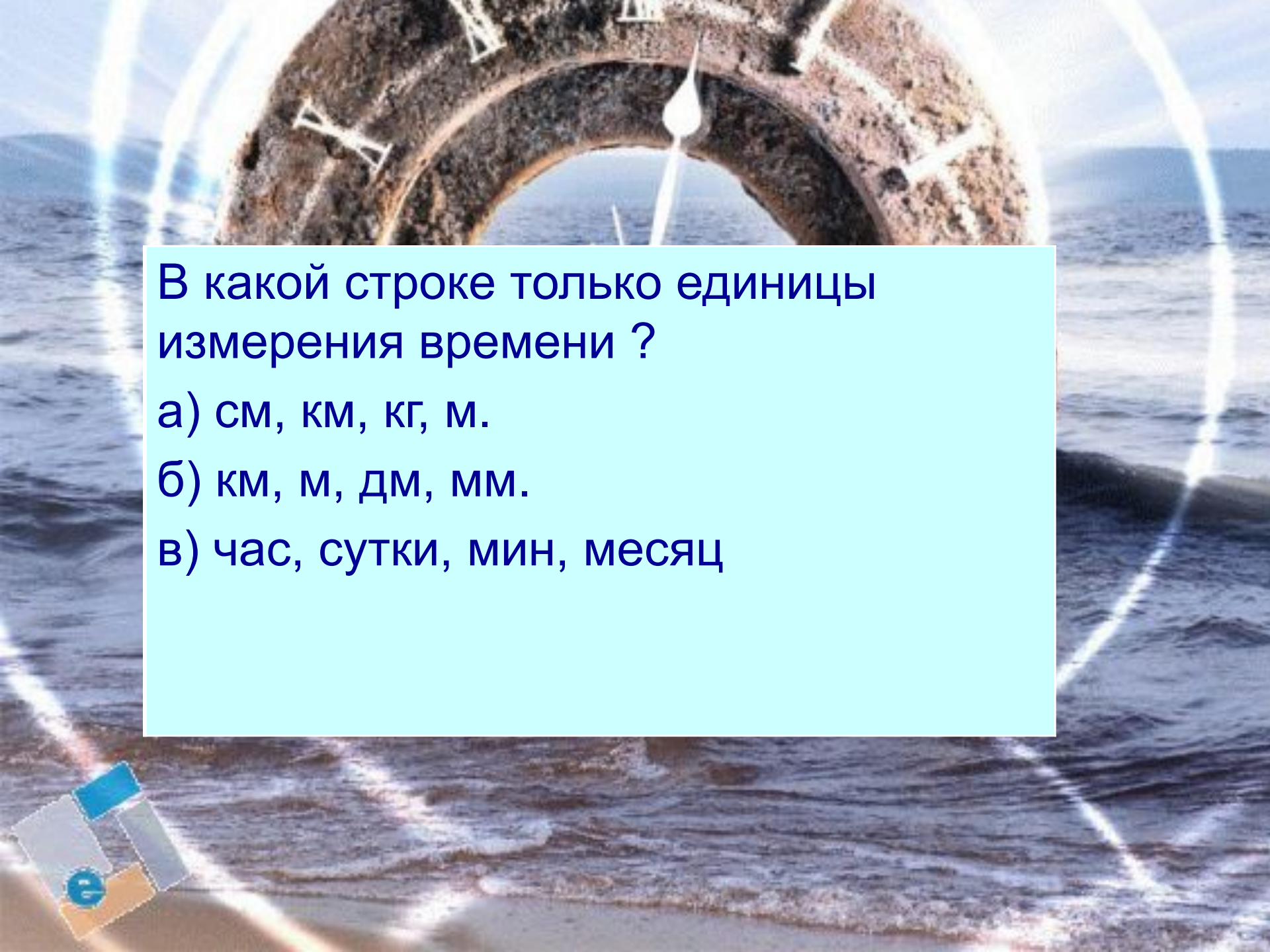
Какие фигуры вы видите на этом рисунке?
Сколько их?



Начертите квадрат со стороной 4 см. Проведите линию так, чтобы получились четырёхугольник и треугольник.







В какой строке только единицы измерения времени ?

а) см, км, кг, м.

б) км, м, дм, мм.

в) час, сутки, мин, месяц



Закончите фразы:

В году ... месяцев.

В году ... дней.

В году ... зимних месяца: ..., ...,

В году ... весенних месяца: ..., ...,

В году ... летних месяца: ..., ...,

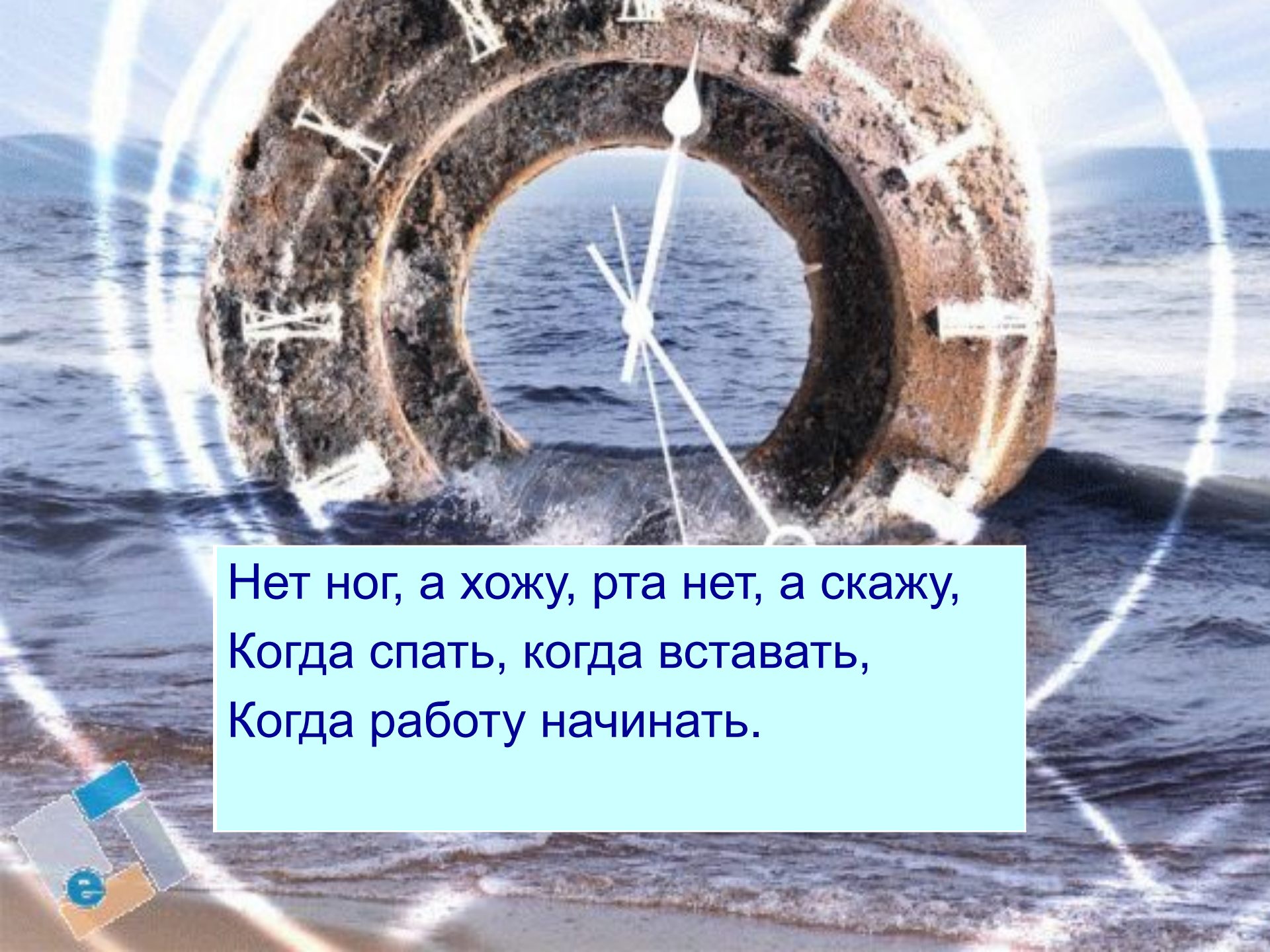
В году ... осенних месяца: ..., ...,

... год кончает, а ... начинается.

В месяце ... недель.

В неделе ... дней.

Самый короткий месяц в году -

A conceptual image featuring a clock face with white hands and Roman numerals superimposed on a dark, weathered lifebuoy. The lifebuoy is floating in the blue ocean with white-capped waves. The entire scene is framed by a glowing, circular white light effect.

Нет ног, а хожу, рта нет, а скажу,
Когда спать, когда вставать,
Когда работу начинать.







Первые часы



■ Песочные часы



Водяные часы



Солнечные часы










 **NICESOFT.RU**
прекрасный софт

Оцените изящество чудной задачи –
сколько времени на этих часах?





Отгадай загадки:

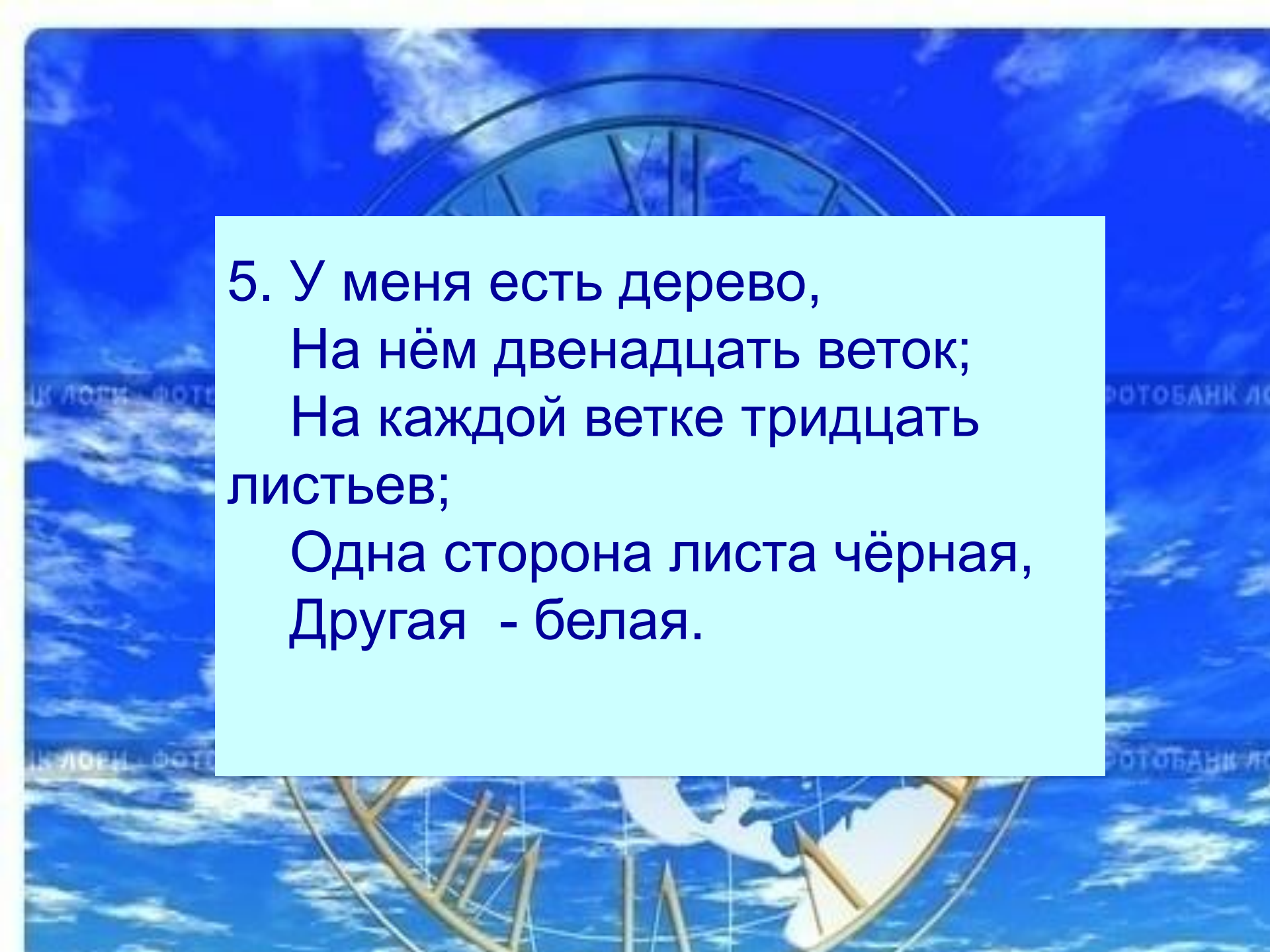
1. Что возвратить нельзя?

2. Что может в одно и то же время: стоять и ходить; висеть и стоять, ходить и лежать?

3. Две сестрицы друг за другом
Пробегают круг за кругом:
Коротышка – только раз,
Та, что выше – каждый час.



4. Выходили двенадцать молодцев,
Выносили пятьдесят два сокола,
Выпускали 365 лебедей.



5. У меня есть дерево,
На нём двенадцать веток;
На каждой ветке тридцать
листьев;
Одна сторона листа чёрная,
Другая - белая.

A circular wooden clock face with numbers 1 through 12. The numbers are in various colors: 1 (blue), 2 (orange), 3 (red), 4 (blue), 5 (red), 6 (red), 7 (orange), 8 (blue), 9 (red), 10 (blue), 11 (green), and 12 (red). In the center is a colorful clown with a yellow face, red nose, and a blue hat with a red bow. The clown is holding a red and white polka-dot balloon. There are also two blue elephants, one on the left and one on the right. The words 'BETTER CLOWN' and 'EDUAR' are written in a circular path around the clown. There are several yellow and red stars scattered around the clown. A light blue rectangular box is overlaid on the bottom right of the clock face, containing the text 'Спасибо всем!'.

Спасибо всем!

