

гасыр

метр

атна

дециметр

сәгать

километр



Миллиметр

10



$$1 \text{ cm} = 10 \text{ mm}$$



$$60 \text{ MM} = 6 \text{ CM}$$

$$90 \text{ MM} = 9 \text{ CM}$$


$$20 \text{ MM} = 2 \text{ CM}$$

$$100 \text{ MM} = 10 \text{ CM}$$

$$40 \text{ MM} = 4 \text{ CM}$$




Квадрат периметры турыпочмаклык периметрына тигез була аламы?



$$P = 33 * 4 = 132 \text{ (мм)}$$

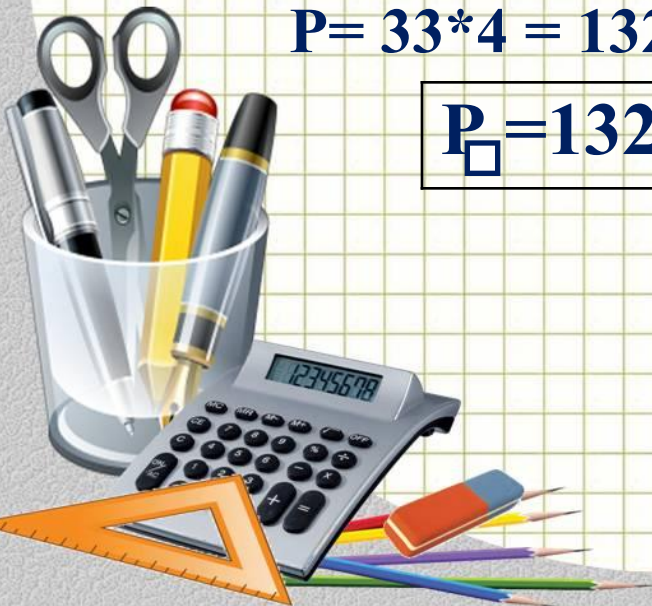
$$P_{\square} = 132 \text{ мм}$$



$$P = (24 + 42) * 2 = 66 * 2 = 132 \text{ (мм)}$$

$$P_{\square} = 132 \text{ мм}$$

$$132 \text{ мм} = 132 \text{ мм}$$



Зурлықларны кимү бару тәртибендә
ЯЗЫГЫЗ:

3 см, 36 дм, 3 м, 36 км, 3мм

36 км, 36 дм, 3 м, 3 см, 3мм



1 ряд

3 см 7 мм

24 см 6 мм

2 ряд

5 см 8 мм

156 см 3 мм

3 ряд

10 см 5 мм

10 см



№ 349

• **Үрнәк:**

$$\begin{aligned} 3 \text{ см } 5 \text{ мм} + 5 \text{ см } 7 \text{ мм} &= 35 \text{ мм} + 57 \text{ мм} = \\ &= 92 \text{ мм} = 9 \text{ см } 2 \text{ мм} \end{aligned}$$



Өй эше

М.Э. Д. 65 бит, № 141, 142.



Дәрес өчен рәхмәт!

