

Желаю

успеха



и везде!

БОЛЬШОГО



во всём



Вставь пропущенные числа

$5 + 2 = 7$

$3 + 3 = 6$

$8 + 1 = 9$

$4 + 3 = 7$

$1 + 4 = 5$

$2 + 1 = 3$

$6 + 2 = 8$

$9 + 1 = 10$

$6 + 1 = 7$

$2 + 3 = 5$

2

1



Составьте задачи

5.



$$\square + \square = \square$$



6.

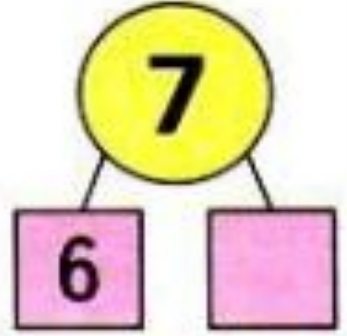
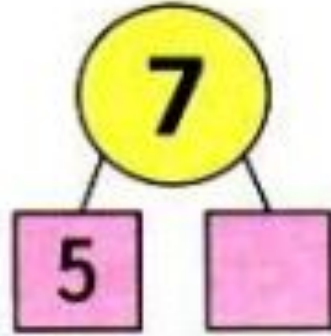
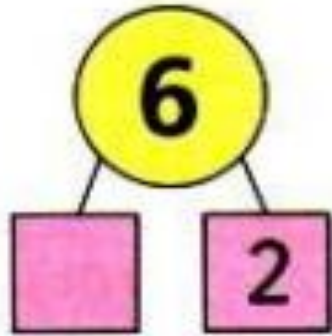
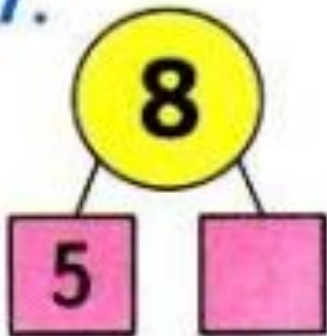


$$\square - \square = \square$$



$$\square - \square = \square$$

7.



Будем учиться прибавлять к числу по 3 и вычитать из числа по 3; составлять и решать задачи.

1.



- Составь и запиши верные равенства и верные неравенства, используя числа 7, 2, 5, 9 и знаки +, -, =, >, <.

$$7 + 2 = 9$$

$$9 - 2 > 5$$

$$5 - 2 = 3$$

$$7 - 2 = 5$$

$$5 + 2 < 9$$

$$7 + 2 > 4$$

- Оля ... **раскрасила** 6 кукол:




Аня — на 2 больше: 

Сколько **кукол** ... Аня?
раскрасила

$$6 + 2 = 8 \text{ (к.)}$$

Ответ: 8

кукол.



$$2^4 + 2 + 2 = 6$$

$$10^8 - 2 - 3 = 5$$

$$3^6 + 3 + 3 = 9$$

$$10^9 - 1 - 3 = 6$$

$$1^3 + 2 + 3 = 6$$

$$10^8 - 2 - 1 = 7$$

- С одного куста сняли , 7 с другого — 3. Сколько всего ... ?

$$7 + 3 = 10 \text{ (п.)}$$

Ответ: 10

- Какие числа закрыты карточками? Запиши.

7	2	3	1	3
	5	4	6	4

8	6	3	7	4
	2	5	1	4

- Оля старше Кати, а Катя старше Вики. Закрась карточку с именем девочки, которая старше двух других.

Катя



Вика

Подводим итоги урока

Что нового узнали?

Что показалось необычным, интересным?

Все было понятно?


Что вызвало затруднения?



Всё понятно!
Здорово!



Уже разобрались
O'k



Осталось неясное!
SOS!