


МОУ «Школа №13 г.Донецка»

ВЕСЕЛЫЙ МАТЕМАТИЧЕСКИЙ ПОЕЗД



ра-викторина(5 класс)

Подготовила:
Носенко А.В.
учитель математики




Ты, математика-
Начало всех начал,
Ты кладезь знаний сокровенных.
И даже Бог, что этот мир создал,
Был математик, несомненно...



МАРШРУТ ДВИЖЕНИЯ



Станция
«ЭРУДИТ»



Станция
«Поэтическая»



Станция
«Ребусы»

Станция
«Попробуй сосчитай»



Станция
«Волшебные
спички»



Станция
«Конечная»



РАЗМИНКА



Вопросы для команды № 1
СИНЕГО цвета


Вопросы для команды № 2
ЗЕЛЕНОГО цвета



РАЗМИНКА



рядке сидели 4 воробья. К
им прилетели еще два воробья.
от Васька подкрался и схватил
дного воробья. Сколько
оробьев осталось на



РАЗМИНКА



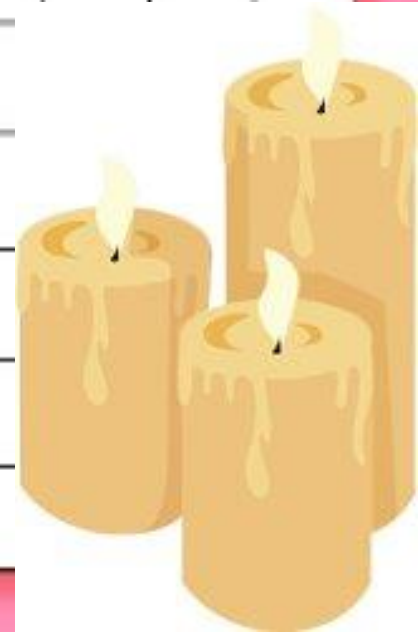
1. Четверо играли в домино 4 часа. Сколько часов играл каждый?



РАЗМИНКА



4. Горело 5 свечей. Две
из них потушили.
Сколько свечей
останется?



РАЗМИНКА




2. Тройка лошадей
пробежала 30 км. Сколько
километров пробежала
каждая лошадь?



РАЗМИНКА



3. По дороге шли 2 мальчика и 2 рубля нашли. За ними еще четверо идут, сколько они найдут?



РАЗМИНКА



3. Петух, стоя на одной лапе, весит 3 кг. Сколько он весит, стоя на двух лапах?



РАЗМИНКА

4. У отца 6 сынов
Каждый сын имеет
одну
сестру. Сколько всего
детей у отца?



РАЗМИНКА



4. Найти два таких
числа, произведение
которых 24 и частное 24.



РАЗМИНКА



**5. Сколько получится
десятков, если два
десятка умножить на 3
десятка?**



РАЗМИНКА



5. Имеется кусок сукна длиной 16 метров, от которого каждый день отрезают по два метра. По истечении скольких дней отрежут последний кусок ?



РАЗМИНКА



6. Что тяжелее: килограмм ваты или килограмм железа?



РАЗМИНКА



6. На одной чаше весов кирпич, а на другой половина такого же кирпича и гиря в 1кг. Весы в равновесии. Сколько весит кирпич?



Станция «ЭРУДИТ»

КРОССВОРД «Юный математик»!



Станция

ВЕСЕЛЫЕ
НОТКИ



Станция «РЕБУС»

2

x

57

22*8

*0*3*

-

3*0*4

18990



Станция «ПОЭТИЧЕСКАЯ»

остаток - недостаток
частное - опасное
свойство – устройство
копейка – линейка
число – весло
куб – дуб
скобка – коробка
закон – дракон

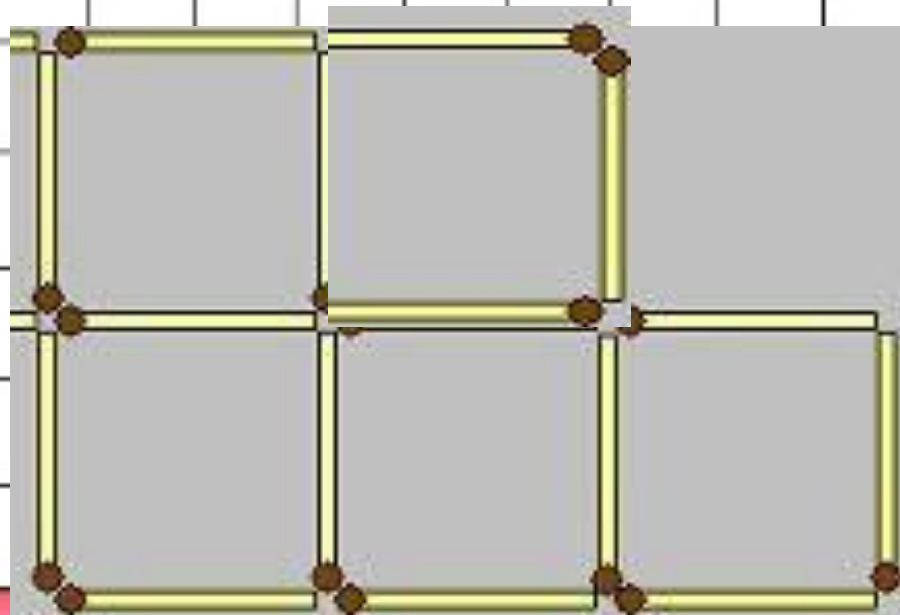


© www.ClipProject.info



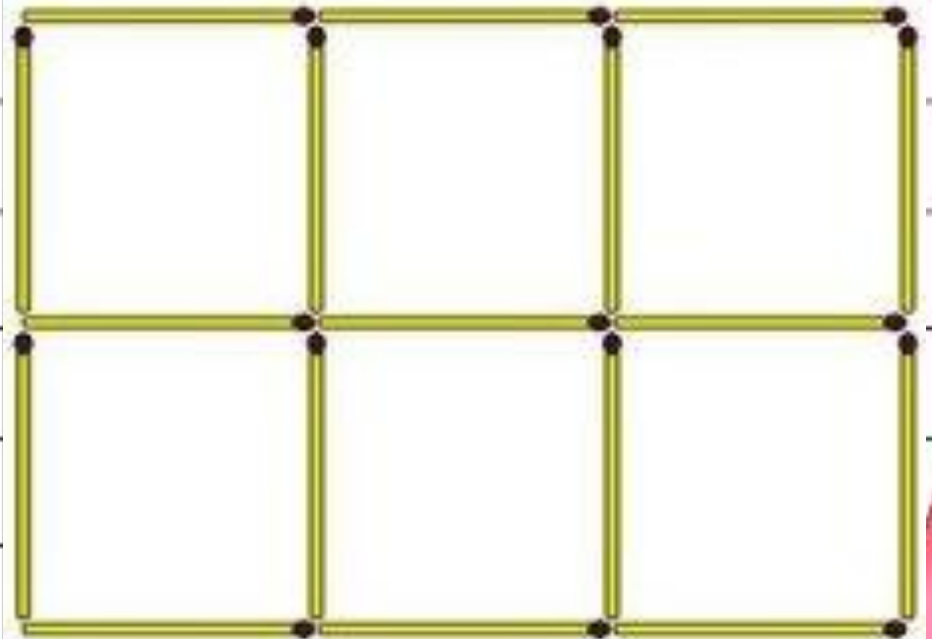
Станция «ВОЛШЕБНЫЕ СПИЧКИ»

От данных 5 квадратов из
спичек отнять 3 спички так,
чтобы осталось 3 таких же
квадратика



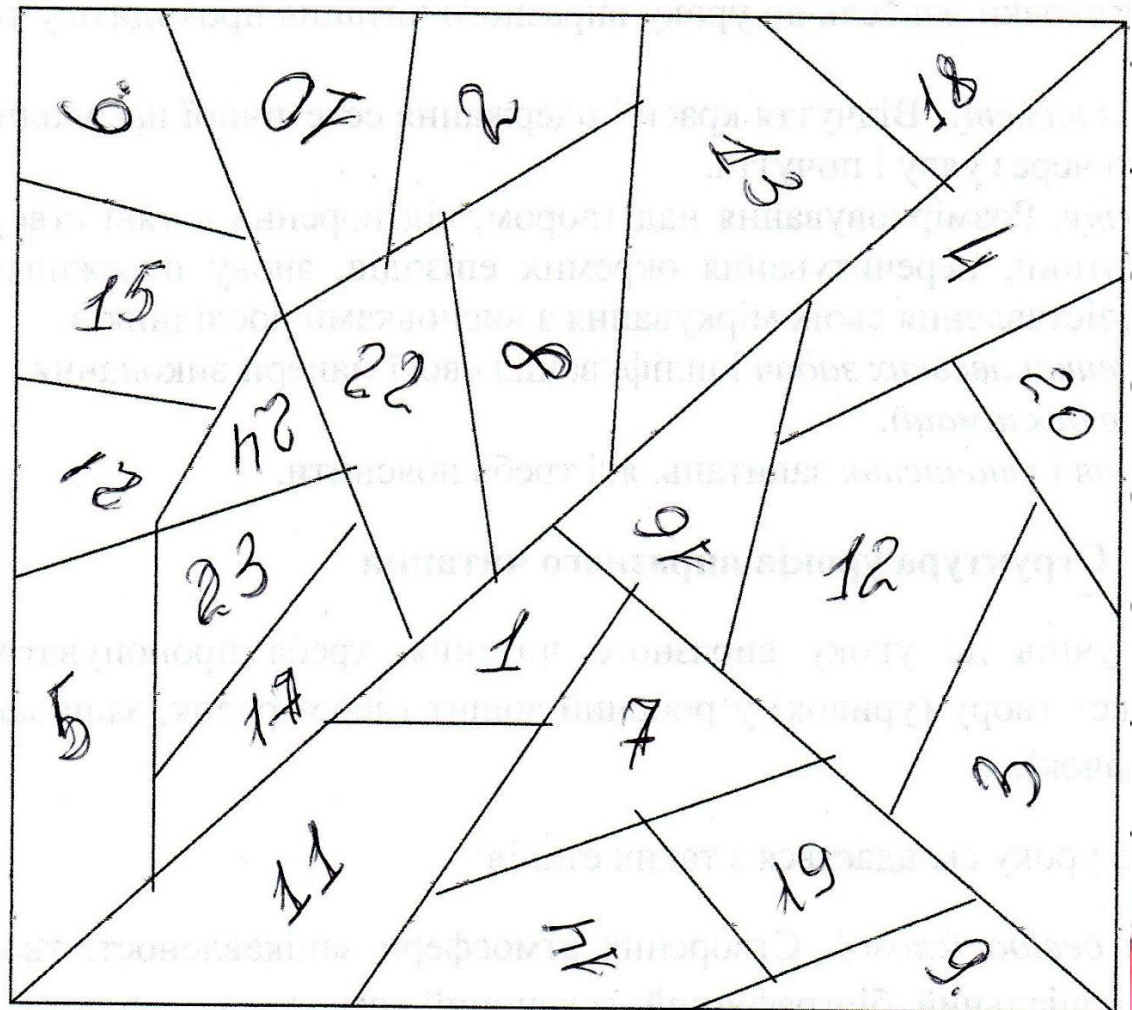
Станция «ВОЛШЕБНЫЕ СПИЧКИ»

От данных 6 квадратиков из
спичек отнять 5 спичек так,
чтобы осталось 3 таких же
квадратика



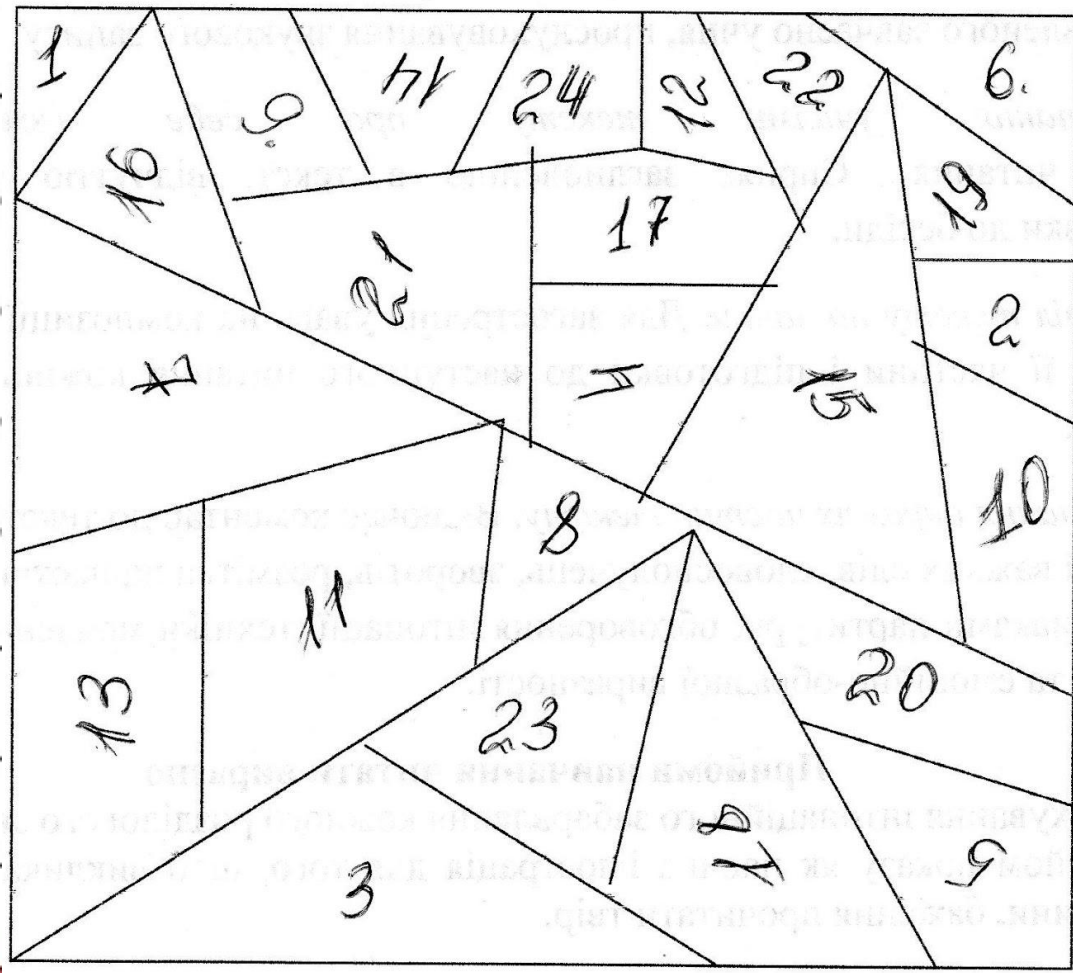
Станция «ПОПРОБУЙ СОСЧИТАЙ»

Как можно
быстрее
сосчитать от 1
до 24,
показывая на
таблице все
числа подряд



Станция «ПОПРОБУЙ СОСЧИТАЙ»

Как можно
быстрее
сосчитать от 1
до 24,
показывая на
таблице все
числа подряд



Станция «КОНЕЧНАЯ»

Итак, друзья, игру мы провели,
Все сделали для вас мы, что
могли,
Желаем к математике вам
прилагать старанья,
Всего вам доброго, друзья, и
до свиданья!



**ВЕСЕЛЫЙ ПОЕЗД В СТРАНУ
МАТЕМАТИКИ ПОДАРИЛ НАМ
МНОГО ИНТЕРЕСНЫХ
МОМЕНТОВ**

