
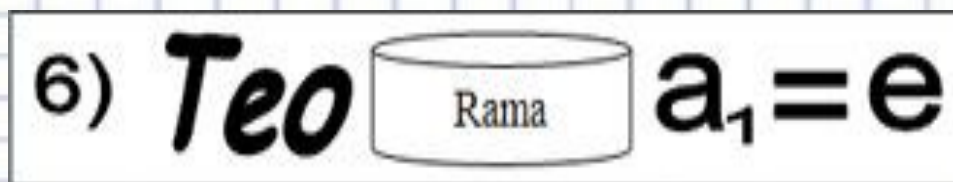
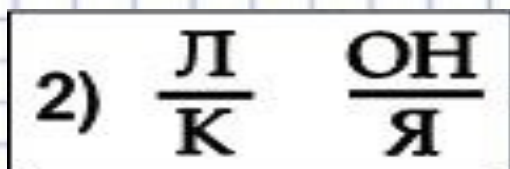
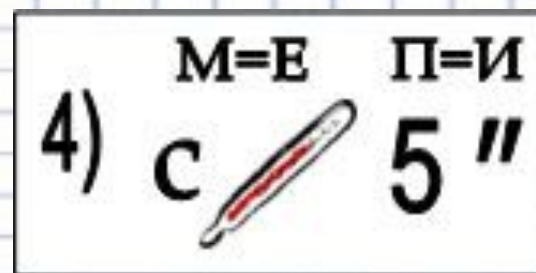


# Упражнения для устного счета





# Математические ребусы



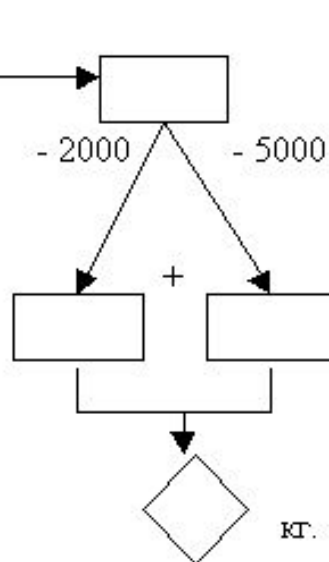
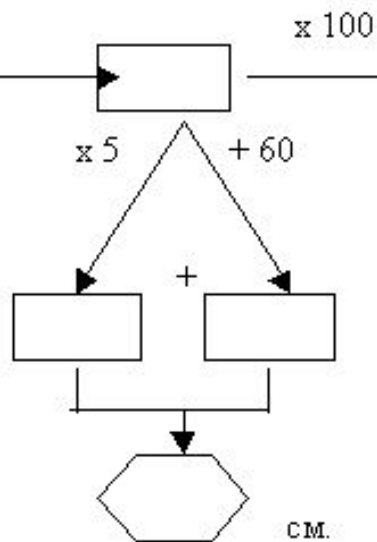
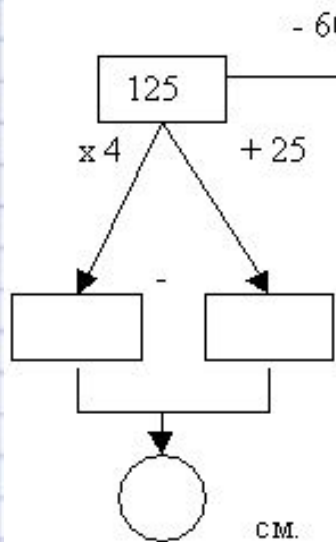


# Самое крупное наземное животное - африканский слон. Узнайте:

а) высоту тела

б) длину тела

в) массу тела




Выразите высоту и длину тела слона в метрах.



## Разгадайте анаграммы:

- ТАМЕЛЬНАЗЕН (знаменатель)
- ИЛЕТСИЧЛЬ (числитель)
- ИНОЖЕЛЕС (сложение)
- ИВЕТЫЧАНИ (вычитание)
- ОДАНОТИКАР (координата)
- БОРЬД (дробь)





1) Узнай длину тела питона в дм

5 ; 6,3; 3,6 (1)

2,3; 2,7 0 (2)

3,7; 4,1; 1,4 (3)

Из одной строки выбери наименьшее число, из второй наибольшее, а из третьей ни больше, ни меньше.

Затем сложи эти числа и узнай длину питона.

2) Решив примеры и расположив ответы в порядке возрастания, вы сможете получить ключевые слова урока (Плоскость)



81:9 С

15x3 С

17-9 О

33+16 Т

44x0 П

63:63 Л

96x100 Ь

300:10 О



## Устный счет

- $63 - 57$

- $* 6$

- $+ 34$

- $- 30$

- $: 8$

- $520 + 280$

- $: 20$

- $* 5$

- $: 25$

- $* 125$



## Заполни таблицу

<b>Уменьшаемое</b>	<b>37</b>		<b>49</b>	<b>38</b>	
<b>Вычитаемое</b>	<b>17</b>	<b>20</b>		<b>19</b>	
<b>Разность</b>		<b>35</b>	<b>39</b>		<b>17</b>