




Тема урока:

«Действия с  
МНОГОЗНАЧНЫМИ  
ЧИСЛАМИ»








## Цель урока:

- Повторение и обобщение знаний, умений, навыков по теме;
- развитие логического мышления, изобретательности, умения находить выход в нестандартной ситуации, применение математических знаний в жизни.
- «Экономическое» воспитание;

*«Идето математике молва,  
Будто она в порядок ум приводит  
Так можетбыть поэтому она  
Так сильно уважаема в народе?»»*






# Проверка Д/З

№ 177.

- 1).  $12 \cdot 35 = 420$  вагонов предоставила ж/д
- 2).  $46\ 000\ \text{кг} = 46\ \text{тонн}$
- 3).  $420 \cdot 46 = 19\ 320$  тонн перевезут на комбинат.

**Ответ: 19 320 тонн перевезут на комбинат.**

# Проверка Д/З



**№ 191.**

**$S - 4$  - км длина грунтовой дороги**

**$3V$  - км/ч скорость автомобиля по шоссе**

**$S : 3V$  - часов затратит автомобиль по шоссе**

**$(S - 4) : V$  - км/ч скорость автомобиля по грунтовой дороге**

**$S : 3V = (S - 4) : V$  - Время, затраченное автомобилем по шоссе равно времени, затраченному по грунтовой дороге**

# Открытое Акционерное Общество



**Открытое акционерное общество**  
(ОАО) – это организация,  
созданная для получения прибыли.

Члены этой организации **объединяют свои средства (знания)** для приобретения некоторого **предприятия**, а взамен получают **акции (оценки)** – ценные бумаги, которые свидетельствуют о том, что держатели **(акционеры)** имеют право на часть имущества предприятия.






# Кафе «Сладкоеж ка»




# Анкета будущего акционера



- Тест


1	2	3	4	5	6	7	8
а	г	б	б	в	а	в	а

# Бизнес-план



- приобрести помещение
- отремонтировать помещение и купить новую мебель;
- обеспечить хорошее оформление;
- приготовить угощение для посетителей;
- дать рекламу в средствах массовой информации.


# помещения:



Определите,  
как связаны между  
собой числа  
верхней и нижней  
строки?

- 1 2 3 4 5
- 1 8 27 64 125

# РЕМОНТ ПОМЕЩЕНИЯ



За ремонт малого зала кафе строители запросили 40 075 руб., за фойе - 54 925 руб., банкетного зала - 120 000 руб. Из этих денег 86 000 руб. уходит на ремонтные материалы, а остальные на зарплату строителям. Один комплект мебели для зала стоит 4 300 руб. Сколько комплектов мебели можно купить на сэкономленные деньги, если сделать ремонт собственными силами?





# Ассортимент




[www.g-gift.ru](http://www.g-gift.ru)  
(495) 746-52-17





# Магический квадрат

В свободные клетки квадрата запишите числа от 1 до 9 так, чтобы сумма чисел по любой горизонтали, вертикали, диагонали была одинаковая.




4	9	2
3	5	7
8	1	6

A 3x3 magic square with numbers 4, 9, 2, 3, 5, 7, 8, 1, 6. Red arrows indicate the sums for each row, column, and diagonal. The arrows show that the sum of each row, column, and diagonal is 14.



# Подготовка персонала




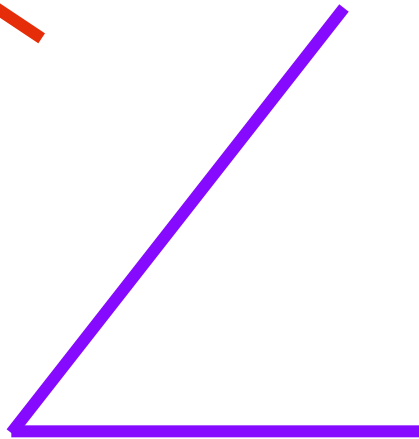

## Задачи.

**I ряд** За 3 булочки и 2 напитка заплатили 110 рублей. Сколько стоит один напиток, если одна булочка стоит 28 рублей?

**II ряд** Порция мороженого стоит 27 рублей, и она дешевле коробки конфет в 5 раз. Плитка шоколада в 3 раза дешевле коробки конфет. Сколько денег заплатит покупатель за всю покупку?

**III ряд** Пирожное стоит 42 рубля, и оно дешевле торта в 3 раза. Куплено 4 пирожных и 2 торта. Сколько стоит вся покупка?

# Выбор генерального директора



**ТРЕТРЕУГОЛЬНИК**

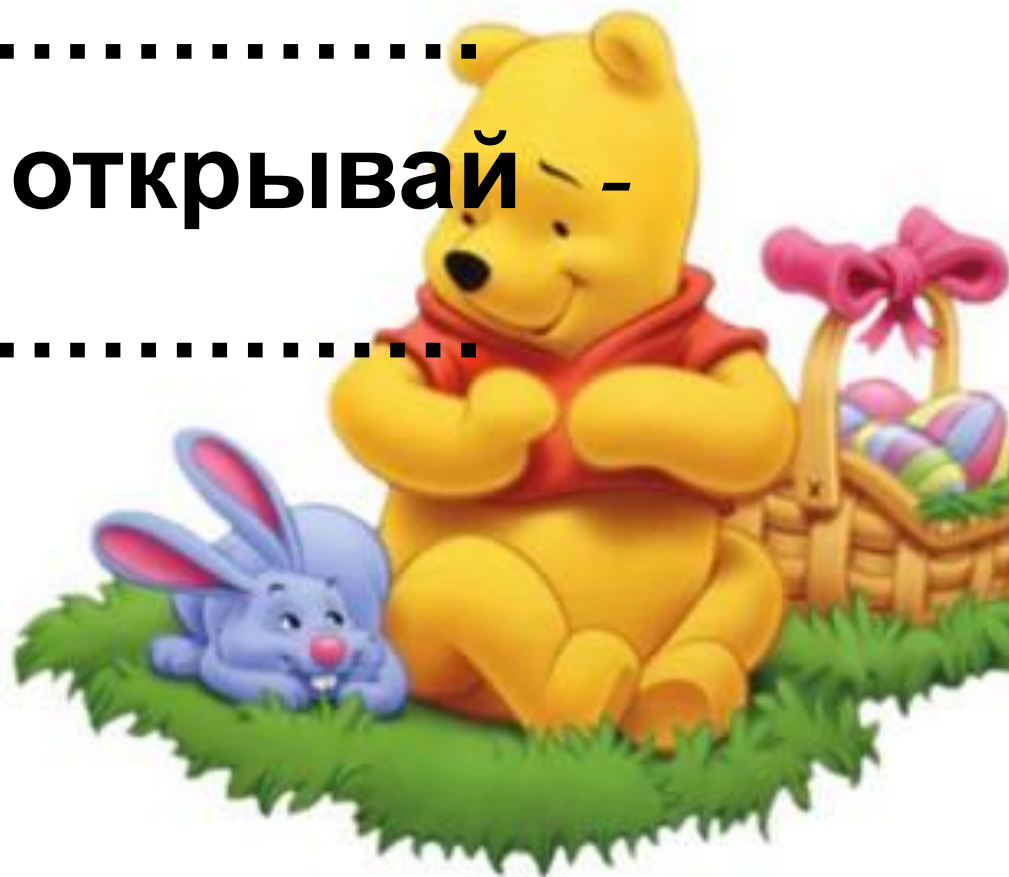
# Реклама

«Сладкоежка» на пути –


.....

Двери смело открывай –

.....



# Задание на дом



- Контрольные задания стр. 57
- Составить **магический квадрат** размером **4 X 4**, в который разместить числа от 1 до 16 так, чтобы сумма чисел по всем горизонталям, вертикалям и главным диагоналям была одинаковая.
- Тетрадь для к/р.



**«Считай несчастным  
тот день или час,  
в который ты  
не усвоил ничего нового  
и ничего не прибавил  
своему образованию»**

