


Координатний луч





запишите число


1) Пять миллионов тридцать тысяч
семьдесят восемь.

2) Один миллион пять тысяч сто восемь



1) 5 030 078



2) 1 005 108





луч, отрезок


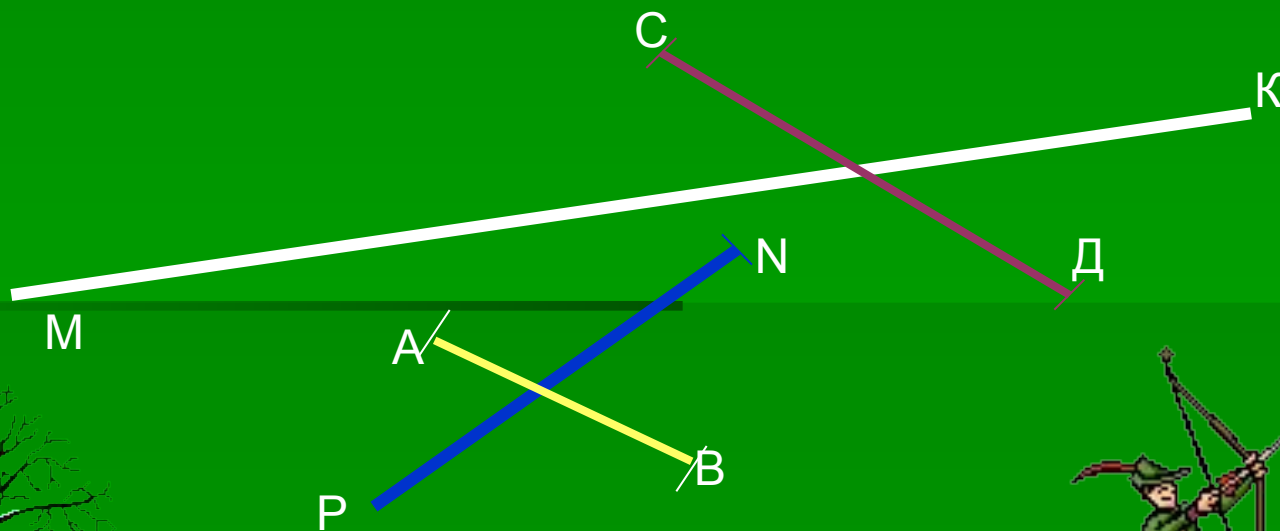
Начертите луч АВ. Постройте луч, дополнительный лучу АВ, и обозначьте его. На каждом луче отложите от его начала отрезок длиной **4 см 6 мм**.





начертите

Начертите прямую $МК$, луч NP и отрезки AB и CD так, чтобы луч NP пересекал отрезок AB , а прямая $МК$ пересекала отрезок CD .






физкультминутка

Про**100**р

Лас.

Ро**100**к

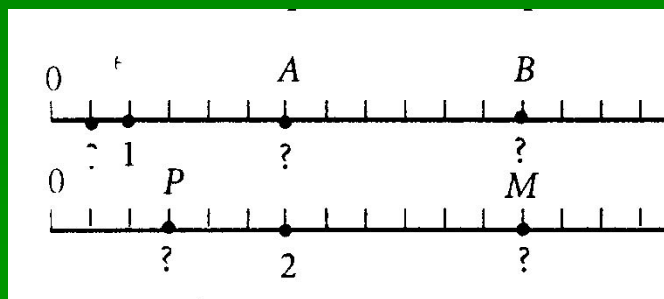
о**З**цание





найдите

Найдите координаты точек, изображенных на координатном луче



A(3), B(6)


P(1), M(4)





ОТМЕТЬТЕ

Отметьте на луче точки **О(3)**, **Р(1)**, **Н(9)**, **В(7)**, **С(5)**, **К(13)**, **А(11)**, **Т(15)**, выбрав единичный отрезок.





ДОМАШНЕЕ ЗАДАНИЕ

№ 184, 185, 141

