


СТРАНА ДЕСЯТИЧНЫХ ДРОБЕЙ



- ▣ 0,235
- ▣ 124,1678
- ▣ 3,14
- ▣ 897,638
- ▣ 100,0

Будь внимательней,
дружок,
Начинаем мы урок.
Предстоит тебе опять
Решать, отгадывать,
считать.



Прочитать десятичные дроби:

□ 131,5;

□ 0,126;

□ 17,29;

□ 1269,567;

□ 13,3791.



Вычислите:



□ $5,1 + 3,6$

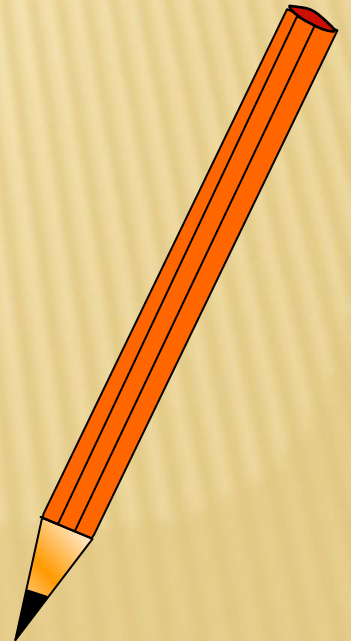
□ $7,5 + 8,2$

□ $8 + 2,6$

□ $4,7 + 16$

□ $7,9 - 5,6$

□ $8,4 - 8,1$



Сравнить числа:

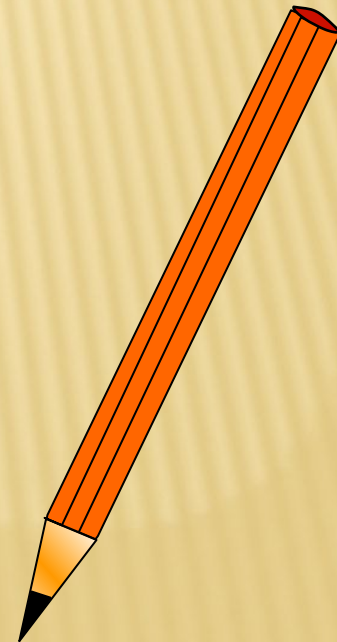


□ 43,5 и 43,12 43,5

□ 21,83 и 20,83

□ 1,6 и 1,589

□ 0,26 и 0,278

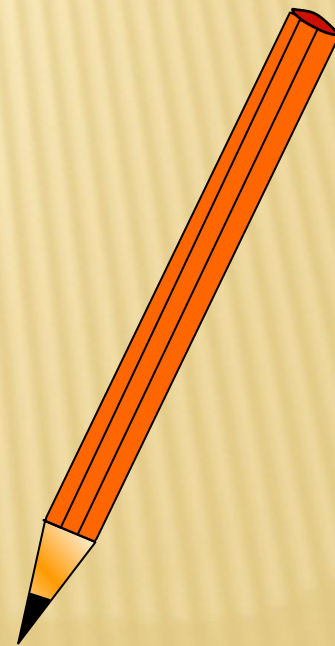


СТАНЦИЯ «ИСТОРИЧЕСКАЯ»

- знаменитый ученый средневековья аль – Каши – Джемшид Ибн Масуд (в начале 5 в.)
- через 150 лет фламандский инженер Симон Стевин
- русский ученый Леонтий Филиппович Магницкий (в 1703 г.)

СТАНЦИЯ «ВЫЧИСЛИТЕЛЬНАЯ»

□ № 1228 стр.194 из учебника.



РЕШЕНИЕ

$$a) = (2,31 + 8,69) + 7,65 = 11 + 7,65 = 18,65$$

$$б) = (0,387 + 0,613) + 3,142 = 1 + 3,142 = 4,142$$

$$в) = (7,891 + 2,109) + (3,9 + 6,1) = 10 + 10 = 20$$

$$г) = (14,537 - 2,237) - 5,9 = 12,3 - 5,9 = 6,4$$

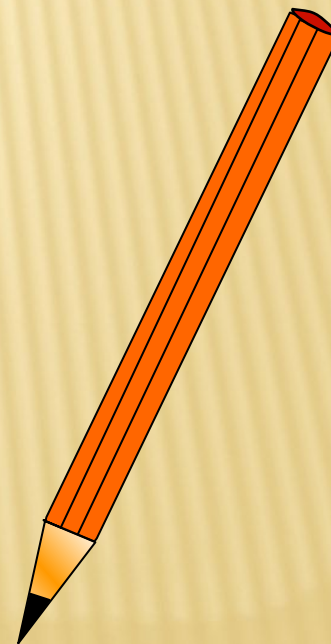
$$д) = (24,302 - 1,302) + 17,879 = 23 + 17,879 = 40,879$$

$$е) = (17,77 - 2,77) + 25,243 = 15 + 25,243 = 40,243$$



СТАНЦИЯ «ГОРОД УРАВНЕНИЙ»

□ №1238 (а,б,в,е) стр.195 из
учебника.



$$\text{a) } z + 3,8 = 8$$

$$z = 8 - 3,8$$

$$z = 4,2$$

(Ответ: 4,2)

$$\text{б) } y - 6,5 = 12$$

$$y = 12 + 6,5$$

$$y = 18,5$$

(Ответ: 18,5)

$$\text{в) } 13,5 - x = 1,8$$

$$x = 13,5 - 1,8$$

$$x = 11,7$$

(Ответ: 11,7)

$$\text{е) } (5,6 - r) + 3,8 = 4,4$$

$$5,6 - r = 4,4 - 3,8$$

$$5,6 - r = 0,6$$

$$r = 5,6 - 0,6$$

$$r = 5$$

(Ответ: 5)

СТАНЦИЯ «ОЗДОРОВИТЕЛЬНАЯ»

Паровоз

Загудел паровоз «Ту-ту»

И вагончики повез.

«Чу-чу-чу, чу-чу-чу».

Далеко их укачу.

Паровоз кричит: «Ду-ду,

Я иду, иду, иду».

А колеса стучат,

А колеса говорят:

«Так-так-так!»

Гимнастика для глаз

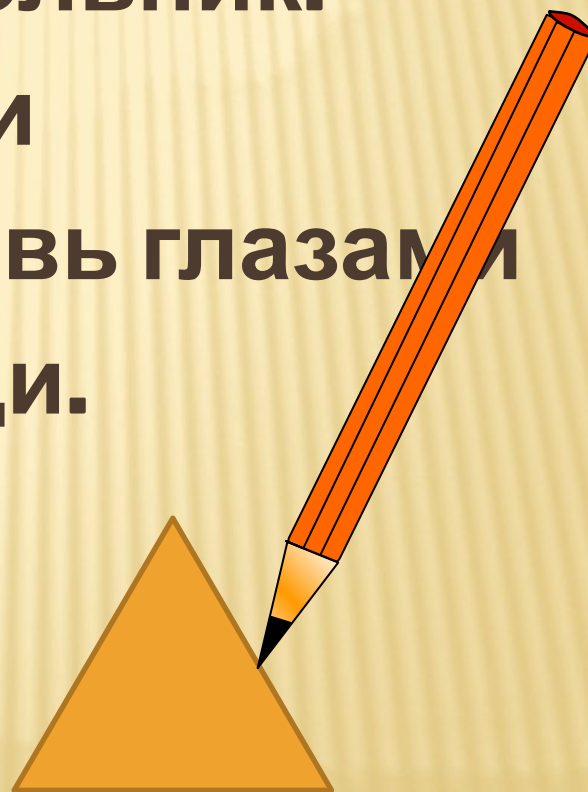

(Рисуй глазами треугольник)

Рисуй глазами треугольник.

Теперь его переверни


вершиной вниз и вновь глазами

ты по периметру води.



СТАНЦИЯ «ЗАДАЧНАЯ»

□ №1224 стр.193 из учебника.



РЕШЕНИЕ ЗАДАЧИ:

$7,8 - 3,7 = 4,1$ (м) – длина пятого куска.

$7,8 + 1,3 = 9,1$ (м) – длина третьего куска.

$9,1 - 2,3 = 6,8$ (м) – длина первого куска.

$6,8 - 4,2 = 2,6$ (м) – длина второго куска.

$4,1 + 9,1 + 6,8 + 2,6 + 7,8 = 30,4$ (м) – длина всей веревки.

□ У меня получилось

□ -Я понял...

□ -Мне понравилось...


□ -Мне не понравилось...

□ -Мое настроение...



ДОМАШНЕЕ ЗАДАНИЕ

- ▣ п.32, стр.190-192;
№1266-№1268



СПАСИБО ЗА УРОК!!!

