

Урок МАТЕМАТИКИ

в 3 классе

**ТЕМА: ПРИЁМЫ СЛОЖЕНИЯ И
ВЫЧИТАНИЯ ДВУЗНАЧНЫХ
ЧИСЕЛ С ПЕРЕХОДОМ ЧЕРЕЗ
ДЕСЯТОК.»**

Составила : Дзюба Ритта
Васильевна

МАОУ СОШ № 8 г. Красноуральска

2018 г.

У Лены 5 кленовых и 4 осиновых листа. На сколько кленовых листьев больше у Лены, чем осиновых? На сколько осиновых листьев меньше, чем кленовых?

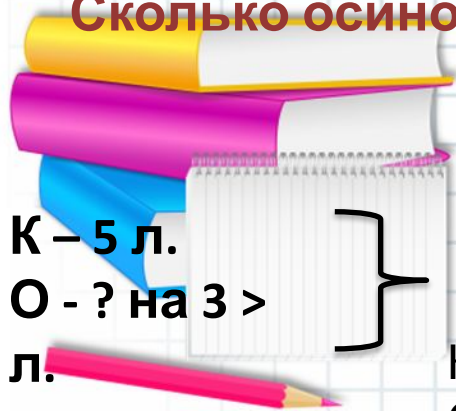
У Лены 9 листьев, из них 5 кленовые, а остальные осиновые. Сколько осиновых листьев у Лены?

У Лены 5 кленовых и 4 осиновых листьев. Сколько всего листьев у Лены?

У Лены 9 листьев. Несколько листьев она отдала подруге после чего у нее осталось 3 листа. Сколько листьев отдала Лена?

После того как Лена наклеила в альбом 6 листьев, то у нее осталось еще 2 листа. Сколько листов было у Лены?

У Лены 5 кленовых листьев, а осиновых на 3 больше. Сколько осиновых листьев у Лены?



К - 5 л.
О - ? на 3 >
л.

Накл. - 6 л.
Ост - 2 л.

К - 5 л.
О - 4 л.

на ? >, <

? л

Отд. - ? л.
Ост - 3 л.

9 л

9 л

К - 5 л.
О - ? л

К - 5 л.
О - 4 л

? л



ЧАСТНОЕ

$$24 - 12 : 3$$

**РАЗНОСТ
Ь**

**ПРОИЗВЕДЕН
ИЕ
РАЗНОСТ
Ь**

**ЧАСТНОЕ
СУММА**



Стр. 10 № 1 (устно)

2. Вычисли с устным объяснением.

$\begin{array}{r} + 52 \\ 16 \\ \hline \end{array}$	$\begin{array}{r} - 39 \\ 24 \\ \hline \end{array}$	$\begin{array}{r} + 47 \\ 35 \\ \hline \end{array}$	$\begin{array}{r} - 70 \\ 46 \\ \hline \end{array}$	$\begin{array}{r} + 22 \\ 68 \\ \hline \end{array}$
---	---	---	---	---

3. Выполни вычисления в столбик.

$65 + 24$

$78 - 43$

$36 + 12$

$52 - 24$

$90 - 17$

$$\begin{array}{r} + 64 \\ + 24 \\ \hline 88 \end{array}$$

$$\begin{array}{r} - 78 \\ - 43 \\ \hline 35 \end{array}$$

$$\begin{array}{r} + 36 \\ + 12 \\ \hline 48 \end{array}$$

$$\begin{array}{r} - 52 \\ - 24 \\ \hline 28 \end{array}$$

$$\begin{array}{r} - 90 \\ - 17 \\ \hline 73 \end{array}$$

ЧЕМУ БУДЕМ УЧИТЬСЯ НА
УРОКЕ?



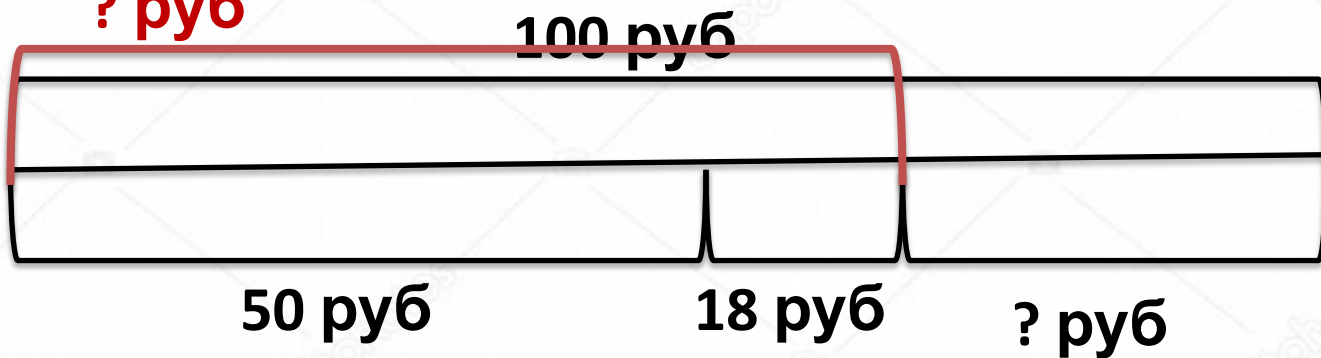
4. У мальчика было 100 рублей. Сначала он купил билет в кино за 50 рублей, а потом мороженое за 18 рублей. Сколько денег осталось у мальчика?

Объясни два способа решения задачи. Выполни вычисления.

$$1) 100 - (50 + 18)$$


? руб

$$2) (100 - 50) - 18$$



7. Начерти отрезок МН длиной 4 см. Начерти отрезок, который длиннее отрезка МН: а) на 3 см; б) в 3 раза. Какой длины получился каждый отрезок?

$$4 + 3 = 7 \text{ (см)}$$



$$4 * 3 = 12 \text{ (см)}$$



1 вариант

$94 - 75$ (К) 19

$46 + 24$ (Р) 70

$57 + 27$ (Ш) 84

$70 - 38$ (Е) 32

$65 - 22$ (.) 43

Шрек



2 вариант

$65 - 22$ (О) 43

$76 + 19$ (А) 95

$37 + 23$ (Н) 60

$82 - 56$ (И) 26

$60 - 48$ (Ф) 12

Финн


а



- Задание выполнено хорошо

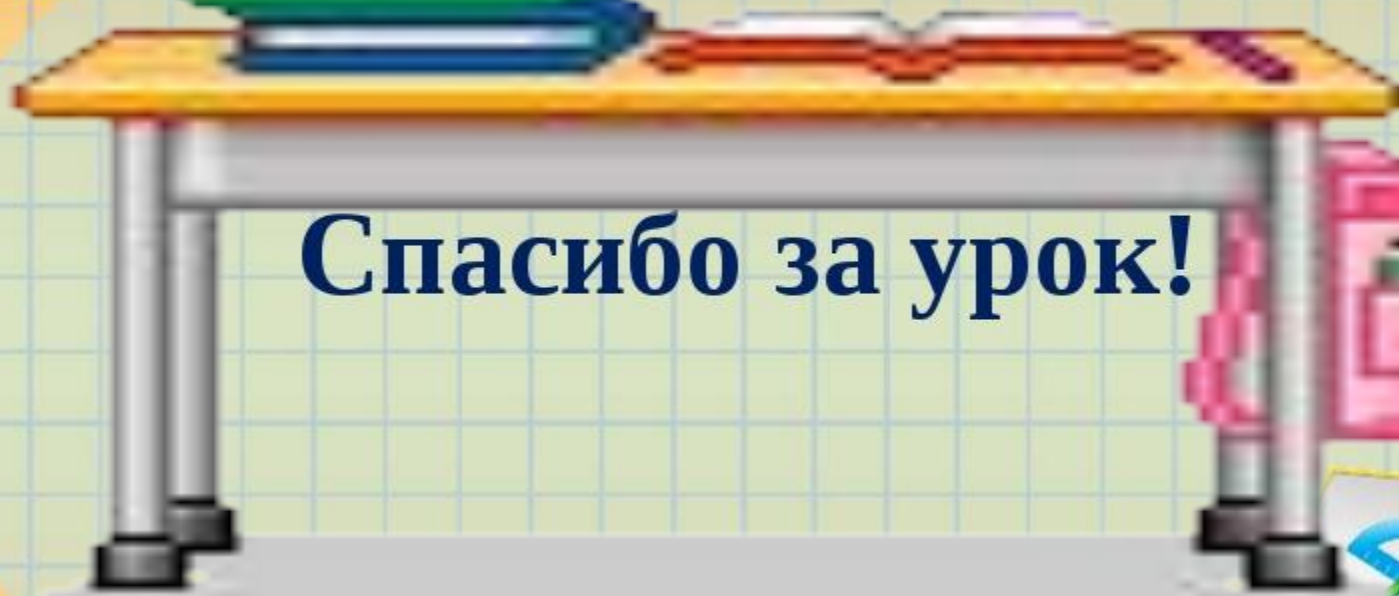


- Задание выполнено с недочётами



- Задание выполнить не удалось





Спасибо за урок!



**Домашнее задание:
стр. 11 № 5, 6 стр. 12 № 8**