


МАТЕМАТИКА



Проверка домашнего задания

Задача

1) $8 \cdot 5 = 40$ (м) – купили синей тесьмы

2) $4 \cdot 5 = 20$ (м) – купили красной тесьмы

3) $40 + 20 = 60$ (м) – всего купили тесьмы

Ответ: 60 метров тесьмы.



$$8 \cdot 5 + 4 \cdot 5 = 60(\text{M})$$



Задача

1) $8+4=12$ (м) – синей и красной
тесьмы в одном отрезе

2) $12\cdot 5=60$ (м) – всего тесьмы
купили

Ответ: 60 метров тесьмы.



$$(8+4) \cdot 5 = 60(\text{M})$$



Девиз урока

«Повторять, да учить —
ум точить!»



ФИКСИКИ



Запоминатор

ТРЕНИРУЙ ПАМЯТЬ
С ФИКСИКАМИ!



7, 14, 21, 28, 35, 42, 49,
56, 57, 63.



7, 14, 21, 28, 35, 42, 49,
56, 57, 63.



7, 14, 21, 28, 35, 42, 49,
56, 57, 63.



**Найдите закономерность и
назовите «лишнее» число.**

+7

7, 14, 21, 28, 35, 42, 49,
56, 57, 63.




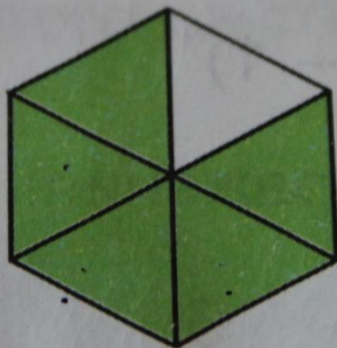

**Найдите закономерность и
назовите «лишнее» число**

7, 14, 21, 28, 35, 42, 49,
56, 57, 63.



**Найдите закономерность и
назовите «лишнее» число**

Какая часть фигуры не покрашена?



1, 1, 1.

6 6 12



Что тяжелее – кукла или мячик?

