

Дарындылар  
додасы

**5-6 сынып**

*Қойылған сұрақ, есепке,  
Ойланып жауап іздейік.  
Уақытты текке өткізбей  
Лезде шешіп өтейік.*



*Сайысымыздың келесі айналымына  
көшейік...*

# Саны бар атаулар



Дарындылар  
додасы

5-6 сынып

															1+лік
															2+жүздік
															к+3+ік
															4+тік
															5+ік
															6+бақан
															7+м
															8+аяқ



# «Формулаларды білесің бе?»

Кездесті қандай формула  
Айтып жібер ойланып тез.  
Формула қандай болды кез.

Берілген формулалар  
бойынша нені табуға  
болатынын айту керек.

# Дарындылар додасы



«Шапшандық»	10	20	30	40	50
«Сыр сандық» құпиясы	10	20	30	40	50
Көңілді санау	10	20	30	40	50
Формулалар	10	20	30	40	50
Теңдеу	10	20	30	40	50

Ойынды аяқта

# «Шапшандық»

10



ир

chuzzle.ru



Ойын жалғастыру

Қара мысық



Дарындылар  
додасы

5-6 сынып

# «Шапшандық»

30

*Қандай сан барлық  
сандарға қалдықсыз бөлінеді?*




Ойын жалғастыру



# «Шапшандық»

40

Бір жұмысшы заказ орындауға 12 сағ, ал екінші – 6 сағат жұмсайды. Бірігіп жұмысты неше сағатта бітіреді



Ойын жалғастыру

«Шапшандық»

50



**Математиктың  
атын айт.**



Ойын жалғастыру

«Сыр сандық»

10

құпиясы

Отбасында 7 қыз және әр қыздан бір –бірден бауыры бар .

Отбасында барлығы неше бала?



[Ойын жалғастыру](#)

# «Сыр сандық»

## құпиясы



Ағаш үстінде 30 торғай отыр еді,  
аңшы оның 2 – ін атып түсірді.

Торғайлардың қаншасы қалды ?



[Ойын жалғастыру](#)

# «Сыр сандық»

## құпиясы

30

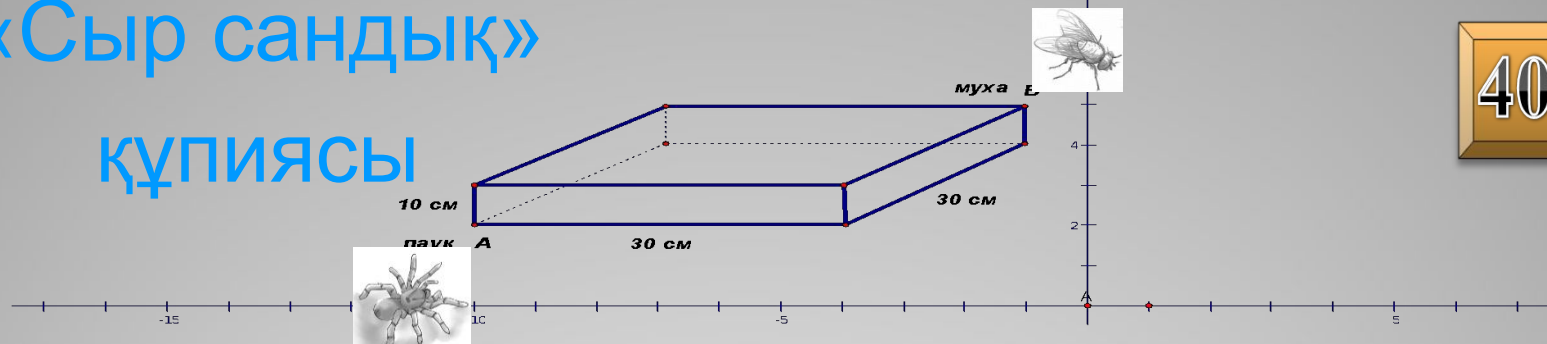
Қосарланып жегілген үш ат  
1 сағат ішінде 14 км жол жүреді.  
Осы уақыттың ішінде 1 ат  
қанша жол жүреді?



[Ойын жалғастыру](#)

# «Сыр сандық»

## ҚҰПИЯСЫ



40


Тік параллелепипед тәріздес қорапшаның А төбесінде өрмекші, ал В төбесінде шыбын отыр. Параллелепипедтің өлшемдері 30х30х10 см. (сурет бойынша). Өрмекші шыбынға параллелепипедтің қырлары немесе қабырғалары арқылы ғана жете алады. Сонда А нүктесінен В-ға дейінгі қысқа жолдың ұзындығы ..... тең.

А) 40 см   В) 45 см   С) 48 см   D) 50 см   E) 70 см



Ойын жалғастыру

Қара мысық



Дарындылар  
додасы

5-6 сынып

# Көңілді санау

10

Тек 6 цифрын 3 рет пайдаланып  
30 санын өрнекте



Ойын жалғастыру



# Көңілді санау

20

Қандай санның жазылуында  
қанша әріп бар болса  
сонша цифр бар ?




Ойын [жалғастыру](#)

# Көңілді санау

30

Бүтін сан, бөлшек сандар,  
Барлығы да бар онда.

Бұл қандай сан айтыңдаршы  
Оң, теріс сан бәрі осында.



Ойын жалғастыру

Санға қосып, алсаң

Сол санның өзі шығады.

Санды оған бөлуге болмайтынын

Математиктер ұғады.


Көп адамдар сол санға

Шекесінен қараған

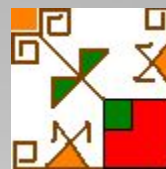
Сан осіне қак бөлуді

Сол саныңыз жараған.

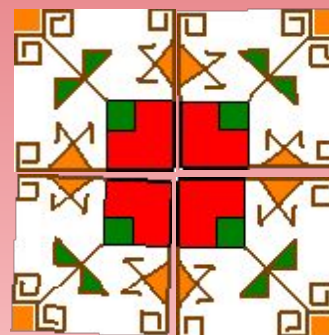
## Көңілді санау



# Көңілді санау



Берілген тақтайшаның ені 10 см болса еденді сәндеу үшін жасалған оюдың ауданын табыңдар.



Ойын жалғастыру

# Формулалар

10

$$S = ab, \quad S = a^2$$



[Ойын жалғастыру](#)

# Формулалар

20

$$P = 2(a+b),$$

$$P = 4a$$



[Ойын жалғастыру](#)

**Қара мысық**




**Дарындылар  
додасы**

**5-6 сынып**

# Формулалар

40

$$V=abc, \quad V = a^3$$



Ойын жалғастыру



# Формулалар

50

$$S = v t$$



Ойын жалғастыру

# Теңдеу

10

$$0,5x = 25$$



Ойын жалғастыру

# Теңдеу

20

Есепте:

$$35x=7$$



[Ойын жалғастыру](#)

# Теңдеу

30

$$4,27x=0$$



Ойын жалғастыру

# Теңдеу

Асхатта тауықтармен қозылардың басын санағанда 17 болды, ал аяқтар саны 46-ға тең. Неше тауықтар және қозылар саны болды.



Ойын жалғастыру

Қара мысық



Дарындылар  
додасы

5-6 сынып

# Дарындылар додасы

*Жарыстың соңғы сәті таяп қалды,  
Демеңіздер біз өнерді аяп қалды.  
Сіздермен кездесеміз біздер әлі,  
Жеңімпаздар бүгінгі анықталды.*





# Рефлексия

## «Екі жұлдыз бір тілек»

□ Менім көңіл күйім...

□ Не білдім...

□ Кімге көмектестім...

□ Мені таң қалдырғаны...

□ Нені қайталау...

