




**Подорож
до зачарованого
лісу**


6 клас


**«Коло. Довжина
кола»**




**Ви готові
відгадати мої
задачки?
Ось перша **



Молодці.
А ось
складніша
задача 



**Ви
впорались
. Можете
йти далі**



Задача

1

Скільки метрів
пробігла
білка, якщо
колесо
має діаметр 26 см
і воно зробило 60
обертів




На якій відстані знаходяться Земля та
Марс,

якщо земля віддалена
від Сонця на 150 млн.км,
а Марс на 207 млн.км?



**На якій відстані знаходяться Земля та
Марс,
якщо земля віддалена
від Сонця на 150 млн.км,
а Марс на 207 млн.км?**






Мене
подолаєте
тільки в
парі,
розгадавши
кресворд



Ви мене
переконали.
Я вас
відпускаю.

Ми подолали всіх .
Можемо повертатися
додому





Щоб отримати
КВИТОК
розв'яжи задачу

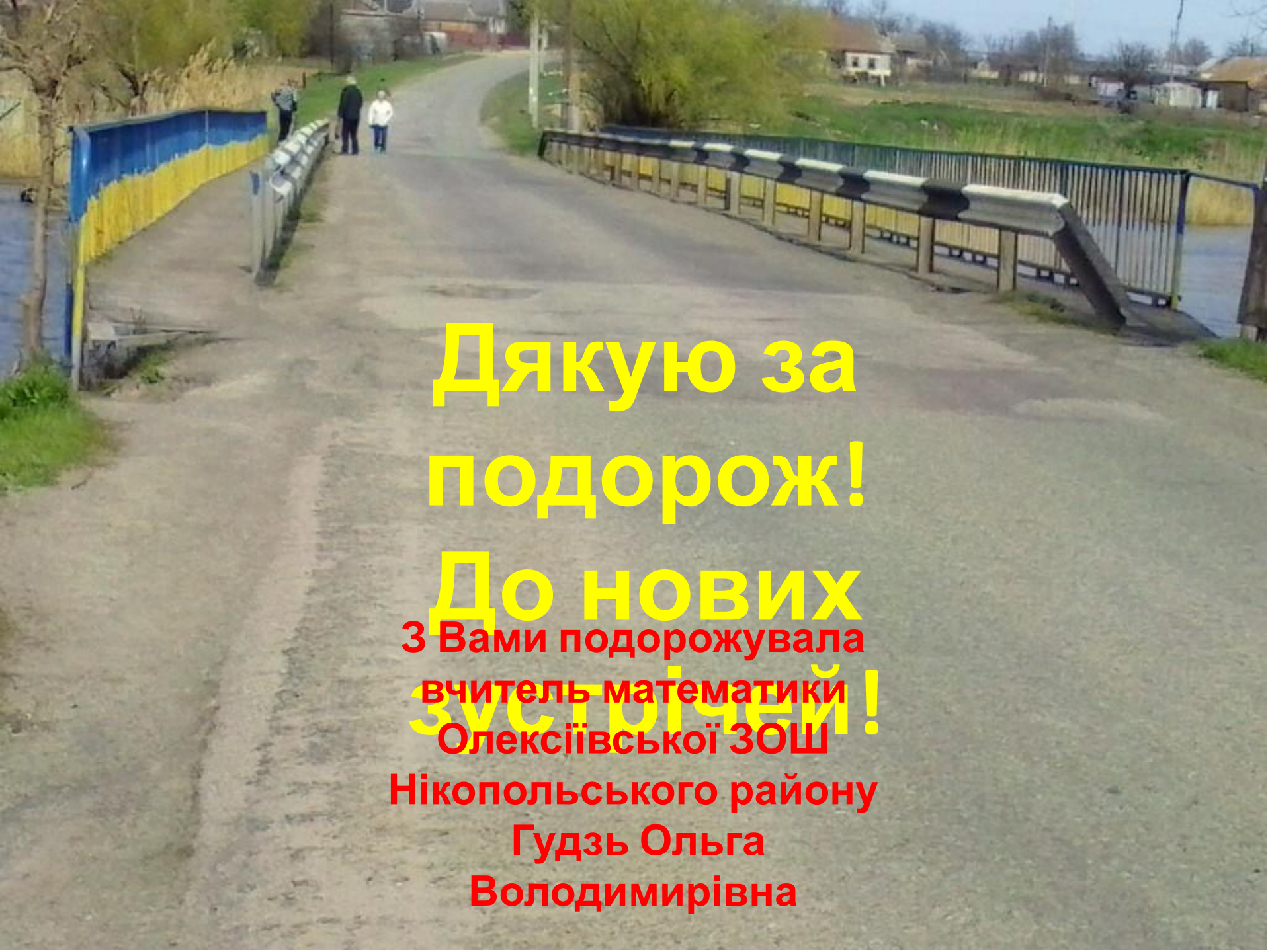
Blingee

По арені кінь проходить 40,82 м.

Який діаметр має арена цирку?

$$D = C : \pi$$

$$D = 40,82 : 3,14 = 13 \text{ м}$$



**Дякую за
подорож!**

**До нових
зустрічей!**

**З Вами подорожувала
вчитель математики
Олексіївської ЗОШ
Нікопольського району
Гудзь Ольга
Володимирівна**