

25.02.2016


“Ондық бөлшектер” тарауын қайталау сабағы (5-кл.)



Пән мұғалімі: Айгүл Мауытханқызы Мукатаева



Психологиялық сәт



Үй жұмысын тексеру


№1301 (C деңгейі).

$$1) (9-0,9)+(8-0,8)+(7-0,7)+(6-0,6)+(5-0,5)+(4-0,4)= 35,1$$

$$2) (5,12-4,21)+(6,23-4,32)+(7,34-4,43)+(6,45+2,54)+(5,56-0,65)= 19,63$$





КЛАСТЕР






Билеттер

Жұмсақ вагон



Көпшілік вагон



Жайлы вагон



“Орындағы” тапсырма.

Салыстырыңыз:

- 1) 2,7 және 3,6
- 2) 8,3 және 7,94
- 3) 147,3081 және 147,309
- 4) 4 және 4,08
- 5) 67,837 және 67,25



*Блум түймедағы (қарапайымнан күрделіге дейін):
Ондық бөлшектерді қосу және азайту*





Жолсеріктер тапсырмасы:

Сергіту.

№ 1302 (1, 2)
99-бетте




Жай және онық бөлшектерді
қосу және азайту

Дворец официальных приёмов "Салтанат сарайы"
The Palace of Official Receptions "Saltanat Saraii"

Арман қала – Астана!

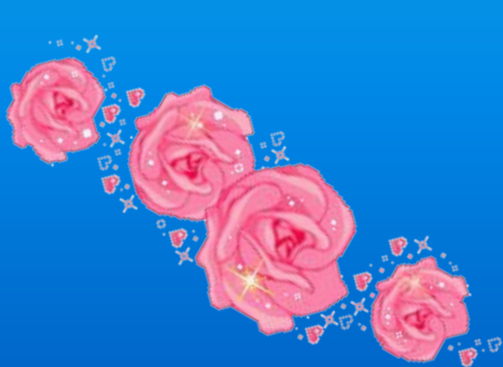


Левобережье. Фонтаны
The left-bank of Astana. Fountains



Үйге тапсырма:

№ 1299 (98 - бет).





*Белсенді
қатысқандарыңызға КӨП
рахмет!*

