

# ПОЙМАЙ МЯЧ

*МКОУ «Краснинская школа интернат»,  
Ленинск – Кузнецкий район,  
Кемеровская область  
Черепанова Елена Николаевна,  
учитель математики.*

**Математический тренажёр**





**Ребята!**

**Восстановите цепочки  
вычислений. Будьте  
внимательны с  
арифметическими действиями,  
обращайте внимание в какую  
сторону указывают стрелки.**

**Удачи!**



Выбери правильный ответ:

200

20

10

2

70

350


460

20

$\cdot 26$

$- 110$

$: 5$



Выбери правильный ответ:

890

690

510

410

90

130


650

410

+ 240

: 5

- 40



Выбери правильный ответ:

14

16

6

4

36

12

8

16

$\div 2$

$+ 4$

$\cdot 3$



Выбери правильный ответ:

108

102

4

3

19

95

18

3

$\cdot 6$

$+ 77$

$: 5$



Выбери правильный ответ:

76

61

56

51

420

250

50

76

- 26

· 5

+ 170



Выбери правильный ответ:

105

95

85

75

360

720


90

75

+ 15

· 8

- 360





Выбери правильный ответ:

80

70

60

50

90

270

780

60

$\cdot 13$

$- 510$

$: 3$



Выбери правильный ответ:

9

7

3

1

64

16

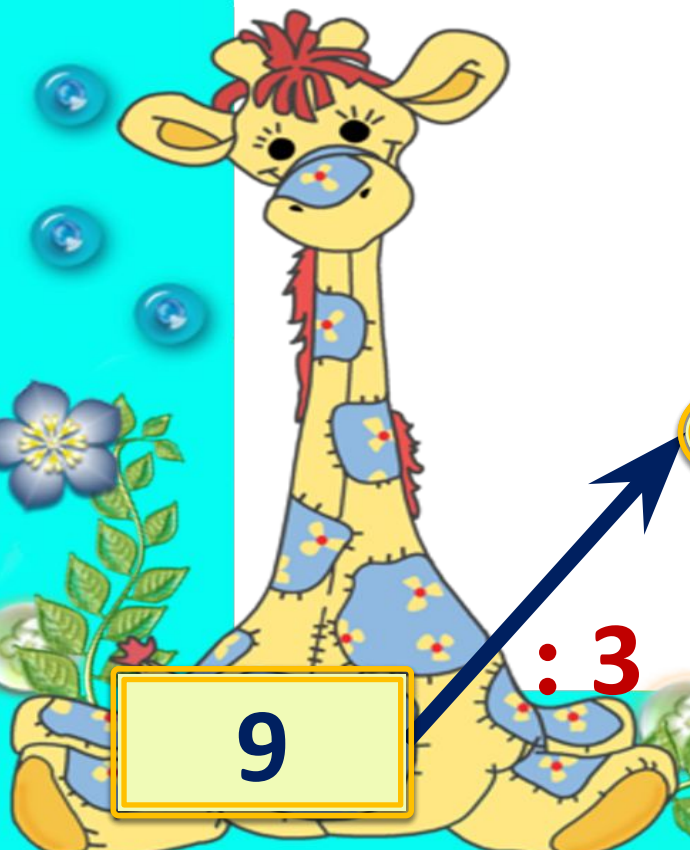
3

9

$: 3$

$+ 13$

$\cdot 4$



# Интернет - ИСТОЧНИКИ

<http://ramki-vsem.ru/ramki/ramki-192.png> - фон

[http://clipart-library.com/image\\_gallery/145110.png](http://clipart-library.com/image_gallery/145110.png) - МЯЧ

