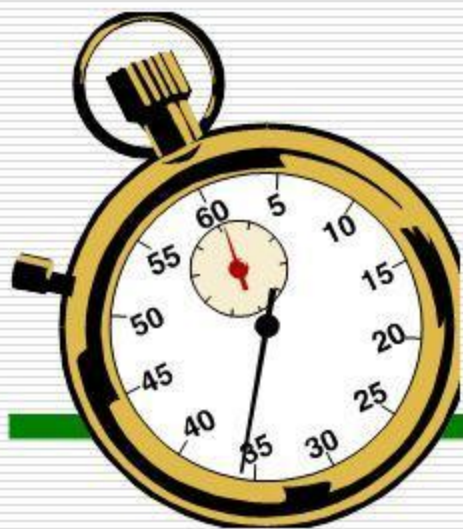




*Урок
математики*





Начинается урок!

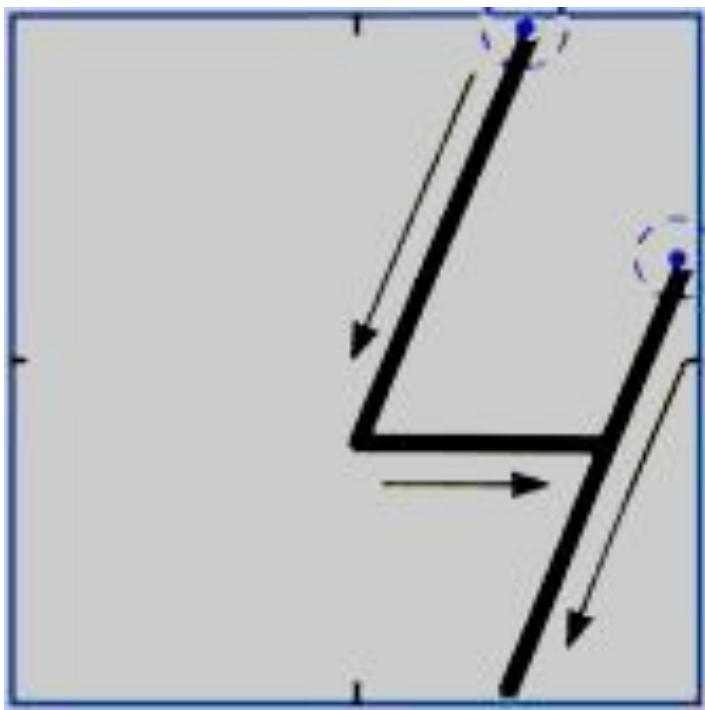


25 /

Классная
работа .



Минутка чистописания



Состав чисел

3
 $1 + \bullet$

4
 $1 + \bullet$
 $\bullet + 2$

5
 $\bullet + 4$
 $2 + \bullet$

6
 $\bullet + 5$
 $2 + \bullet$ $\bullet + 3$

7
 $1 + \bullet$
 $\bullet + 5$ $3 + \bullet$

8
 $\bullet + 7$ $\bullet + 5$
 $2 + \bullet$ $4 + \bullet$

9
 $1 + \bullet$ $3 + \bullet$
 $\bullet + 7$ $\bullet + 5$

10
 $\bullet + 9$
 $2 + \bullet$ $4 + \bullet$
 $\bullet + 7$ $\bullet + 5$

Назад



МАГИЧЕСКИЙ КВАДРАТ

2		1
	2	
3		



$$84 - 3$$

$$43 + 7 - 18$$

$$72 + (64 - 60)$$


$$62 - 7$$

$$54 - 8$$

$$54 + 6 - 34$$



35 - 7



$$35 - 7 = \square$$


$$\begin{array}{r} \wedge \\ 5 \quad 2 \end{array}$$

$$(35 - 5) - 2 = 28$$



A piece of light blue grid paper with a red arrow pointing to the left. In the center, the equation $35 - 7$ is written inside a blue rectangular box.





$$35 - 7 = \square$$

$$\begin{array}{c} \wedge \\ 5 \quad 2 \end{array}$$

$$(35 - 5) - 2 = 28$$

1. Вычисли устно с объяснением.


$$\begin{array}{r} 42 - 6 \\ \hline \end{array}$$

$$\begin{array}{r} 54 - 9 \\ \hline \end{array}$$

$$42 - 2 - \square$$

$$54 - \square - \square$$

2. $26 - 8$ $32 - 6$ $75 - 9$ $32 - 4$
 $26 + 8$ $27 + 8$ $86 + 7$ $65 + 8$
3. В хозяйстве было 8 тракторов. Купили ещё 2 новых трактора, а 1 трактор передали школе для обучения старшеклассников. Сколько тракторов стало в хозяйстве?
4. В гараже было 20 грузовых машин. Для перевозки овощей отправили 10 машин, а для доставки удобрений на поля — 7 машин. Поставь вопрос и реши задачу разными способами.
5. Заполни пустые клетки квадрата так, чтобы он стал магическим.
6. Начерти эти четырёхугольники. Проведи в каждом 2 отрезка так, чтобы, разрезав по ним первый четырёхугольник, можно было получить 3 одинаковых треугольника, а разрезав второй — 4 треугольника.



7. $84 - 3$

$43 + 7 - 18$

$72 + (64 - 60)$

$62 - 7$

$54 - 8$

$54 + 6 - 34$

$$35 - 7$$



МАГИЧЕСКИЙ КВАДРАТ

2		1
	2	
3		



?

2. $26 - 8$

$26 + 8$

$32 - 6$

$27 + 8$

$75 - 9$

$86 + 7$

$32 - 4$

$65 + 8$




4. В гараже было 20 грузовых машин. Для перевозки овощей отправили 10 машин, а для доставки удобрений на поля — 7 машин. Поставь вопрос и реши задачу разными способами.

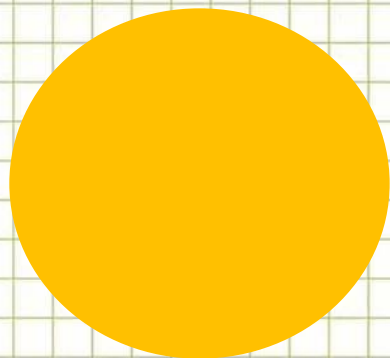



3. В хозяйстве было 8 тракторов. Купили ещё 2 новых трактора, а 1 трактор передали школе для обучения старшеклассников. Сколько тракторов стало в хозяйстве?






**Мне всё понятно.
Всё выполнил
верно!**



**Я ещё сомневаюсь.
Допускаю ошибки.**



**Мне большая часть
заданий непонятна.
Мне нужна помощь.**




5



7



3



Итог урока:

- *Познакомились с.....*
- *Узнали о*
- *Научились решать...*

4 + 15 = 19

Спасибо за урок

