



Урок математики

Канева В.Т.,
учитель начальных классов
МБОУ «СОШ пст. Абезь»

Сравни.



Игра «Назови соседа»

7

4

8

2

9

6

10

3

Какое число пропущено? Возможно ли другое решение?

- $6 + \square < 8$
- $8 - \square = 5$
- $9 - \square > 7$
- $7 + \square = 9$
- $10 - \square = 8$
- $10 - \square > 7$

1 2  4 5  7 8  10

1 2 3 4 5 6 7 8 9 10

1  3 4  6 7  9 10

1 2 3 4 5 6 7 8 9 10

1 2 3 4 5 6 7 8 9 10

 2 3  5 6  8 9 

Физминутка



• $1 + 3 =$

• $2 + 3 =$

• $3 + 3 =$

• $4 + 3 =$

• $5 + 3 =$

• $6 + 3 =$

• $7 + 3 =$



Запомни

таблицу сложения и вычитания 3

• $1 + 3 = 4$

• $2 + 3 = 5$

• $3 + 3 = 6$

• $4 + 3 = 7$

• $5 + 3 = 8$

• $6 + 3 = 9$

• $7 + 3 = 10$

$4 - 3 =$

$5 - 3 =$

$6 - 3 =$

$7 - 3 =$

$8 - 3 =$

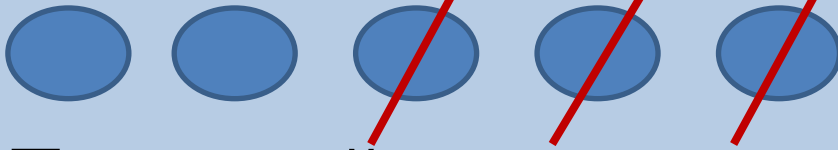
$9 - 3 =$

$10 - 3 =$



Учебник стр.110 № 2

- Прочитайте условие задачи.



- Прочитайте вопрос задачи.

- Каким действием решается эта задача?

Учебник стр. 110 №3

- Прочитайте условие задачи.



- Прочитайте вопрос задачи.
- Каким действием решается эта задача?

Спасибо!