





$$18 + 34$$

$$100 - 76$$



$$x : 4 = 8$$

$$x =$$

$$4 \cdot a = 16$$

$$a =$$





Задача.

Миша купил в магазине на 28 рублей наборы наклеек, по 4 рубля за каждый. Сколько наборов наклеек купил Миша?



1. Считай ПО четыре
до 40: «Четыре,
восемь, ... ».

Запиши результаты
счёта по порядку: 4,
8,



4, 8, 12, 16, 20, 24, 28, 32, 36, 40.



2. Сколько получится,
если число 4 взять
слагаемым 3 раза? 4
раза? 5 раз?



$$4 + 4 + 4 = 4 * 3 = 12$$

$$4 + 4 + 4 + 4 = 4 * 4 = 16$$

$$4 + 4 + 4 + 4 + 4 = 4 * 5 =$$

20





7. Выполни действия.

$$(10 + 2) \cdot 5$$

$$(7 + 10) \cdot 2$$

$$4 \cdot (10 + 9)$$


$$(3 + 20) \cdot 4$$

$$(4 + 10) \cdot 3$$

$$2 \cdot (6 + 30)$$

№9.

Вите нужно было начертить прямоугольник, длина которого в 6 раз больше ширины. Витя сделал такой чертёж: В Проверь, правильно ли Витя выполнил задание. Вычисли периметр этого прямоугольника.



P =



ФИЗМИНУТУС



№ 6.



Маша купила 3 пачки печенья, по 20 рублей каждая, и 2 булочки по 8 рублей. Сколько стоила вся покупка?

1) $20 * 3 = 60$ (руб) - стоило

печенье

2) $2 * 8 = 16$ (руб) - стоили


булочки

3) $60 + 16 = 76$ (руб) -


стоила вся покупка

Ответ: 76 рублей.


29 картин больше, чем в
семье Муриа- нов, а в
семье Привунов на 10
привунят меньше, чем
Мурианов. Сколько всего
марсиан живут на
планете?



Фотографии на память



Фотографии на память



Домашняя работа

№ 5 с. 83

