



Кто с детских лет занимается математикой, тот развивает внимание, тренирует свой мозг, свою волю, воспитывает настойчивость и упорство в достижении цели.

А. Маркушевич

Я - счастливчик!

Математическая игра

Задача Л. Толстого




Покупатель выбрал в магазине шапку стоимостью в 10 р. и дал продавцу двадцатипятирублевку. У того не оказалось сдачи, и он послал двадцатипятирублевку для размена в соседнюю лавку. Покупатель получил шапку и 15 р. сдачи. Когда покупатель ушел, пришел сосед купца и сказал, что двадцатипятирублевка фальшивая. Первый купец вернул соседу 25 р. Спрашивается, сколько хозяин магазина понес в этом деле убытка?

- А. 50 р.
- Б. 35 р.
- В. 40 р.
- Г. 25 р.

| | | | | |
|---|---|---|---|---|
| 3 | 5 | 5 | 4 | 3 |
| 3 | 4 | 5 | 3 | 5 |
| 4 | 4 | 3 | 4 | 5 |
| 3 | 4 | 4 | 3 | 5 |





3 балла

Спасаясь от таксы Дуськи, 40 бабушек забрались на ветвистое дерево. У дерева 18 веток, на каждой ветке сидит по 2 бабушки. Сколько бабушек качается на самой верхушке?



4 баббушки



3 балла



Когда младенца Кузю поцарапала кошка, он орал 5 минут, когда его укусила оса, он орал на 3 минуты больше, но когда собственная мать набросилась на него и начала мыть с мылом, Кузя орал в два раза дольше, чем после укуса осы. Мама мыла Кузю 11 минут. Сколько минут орал уже вымытый Кузя?



5 минут



3 балла

У старшего брата 2 конфеты, а у младшего 12 конфет. Сколько конфет должен отнять старший у младшего, чтобы справедливость восторжествовала и между братьями наступило равенство?

5 конфет

З
б
а
л
л
а




Лёша мечтает о шоколадке, длина которой 2 метра, а ширина 1 метр. Дима мечтает о шоколадке такой же длины, но втрое большей площади. На сколько метров ширина шоколадки, о которой мечтает Дима, длиннее ее собственной длины?

На 1 метр

3 балла

40 бабушек ехали в одном лифте и застряли между этажами. Половина бабушек стала готовиться к самому худшему. 18 бабушек из другой половины спокойно стояли и надеялись на скорое спасение. Остальные бабушки оказались нервными, начали нажимать на все кнопки подряд и кричать «Помогите!». Сколько нервных бабушек застряло между этажами?



2 бабушки



3 балла

40 бабушек вошли в автобус. $\frac{3}{4}$ всех бабушек купили билеты, а остальные закричали, что у них проездной. На самом деле проездной был только у 7 бабушек. Сколько бабушек проехали «зайцами»?



3 бабушки

3 балла


**В доме 12 чашек и 9
блюдечек. Дети
разбили половину
чашек и 7 блюдечек.
Сколько чашек
осталось без
блюдечек?**



4 чашки

Правильно!






У трех братьев вместе девять машинок. У младшего на одну машинку меньше, а у старшего на одну машинку больше, чем у среднего брата. Сколько машинок у младшего брата?

А. 2

Б. 4

В. 3

Г. 4



У трех братьев вместе девять машинок. У младшего на одну машинку меньше, а у старшего на одну машинку больше, чем у среднего брата. Сколько машинок у младшего брата?

А. 2

Б. 4

В. 3

Г. 4



*У одной палки два
конца. Сколько
станет концов,
если один конец
отрезать?*

А. 1 Б. 2 В. 3 Г. 4





Нет !



Что больше: 2 от 4 или $\frac{1}{2}$ от 4?

А. Равны

Б. 2 от 4

В. $\frac{1}{2}$ от 4

Г. Определить невозможно



Что больше: 2 от 4 или $\frac{1}{2}$ от 4?

А. Равны

Б. 2 от 4

В. $\frac{1}{2}$ от 4

Г. Определить невозможно





Если из одной стопки тетрадей переложить в другую 10 тетрадей, то в обеих стопках станет тетрадей поровну. На сколько изначально в одной стопке тетрадей больше, чем в другой?

А. На 20 Б. На 10 В. На 40 Г. На 30



Если из одной стопки тетрадей переложить в другую 10 тетрадей, то в обеих стопках станет тетрадей поровну. На сколько изначально в одной стопке тетрадей больше, чем в другой?

А. На 20 Б. На 10 В. На 40 Г. На 30

***Который сейчас час,
если оставшаяся
часть суток вдвое
больше прошедшей?***

А. 9 ч.

Б. 8 ч.

В. 6 ч.

Г. 12 ч.



***Который сейчас час,
если оставшаяся
часть суток вдвое
больше прошедшей?***

А. 9 ч.


Б. 8 ч.

В. 6 ч.

Г. 12 ч.



**Чему равно
произведение
последовательных
целых чисел,
начинающихся
числом -3 и
оканчивающихся
числом 3?**




А. -36

Б. 36

В. 1

Г. 0

**Чему равно
произведение
последовательных
целых чисел,
начинающихся
числом -3 и
оканчивающихся
числом 3?**



А. -36

Б. 36

В. 1

Г. 0



В классе 36 учеников. Мальчиков из них на три человека больше, чем девочек. Сколько в классе девочек и сколько мальчиков?



- А. 23 девочки и 20 мальчиков**
- Б. Такого быть не может.**
- В. 26 девочек и 23 мальчика**
- Г. 24 девочки и 21 мальчик**




В классе 36 учеников. Мальчиков из них на три человека больше, чем девочек. Сколько в классе девочек и сколько мальчиков?


- А. 23 девочки и 20 мальчиков**
- Б. Такого быть не может.**
- В. 26 девочек и 23 мальчика**
- Г. 24 девочки и 21 мальчик**

Прочитай «слова»:





СТОЛ



СТОГ



Реши ребус:



ш а п к а

1 2 3 4 5



кашпо

Реши ребус:



~~душ+банка~~



ушанка


Грамматическая арифметика:

(карточка - точка) +
(лопасть - пасть) =
знаменитый папа


кар + ло = Карло

(карточка - точка) +
(лопасть - пасть) =
знаменитый папа

Реши ребус:




~~лев~~ + ~~песец~~ + ток




лепесток

Реши ребус:



~~п + марка~~



парк

Желаем успехов!

