



УМК «Школа России»



# Решение задач на увеличение числа в несколько раз.

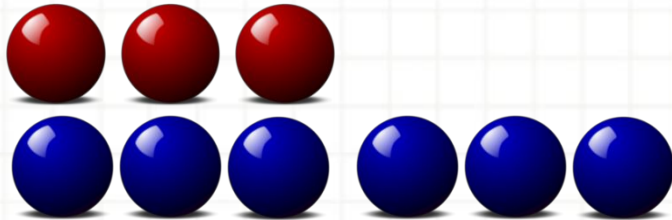
Математика, 3 класс

Учитель начальных классов  
МАОУ СОШ №1 им.Н.И.Кондратенко  
ст.Куцевской Краснодарского края  
Давиденко Наталья Николаевна



## Задача 1.

Купили 3 красных мяча, а синих на 3 мяча больше. Сколько синих мячей купили?




$$3 + 3 = 6 \text{ (м.)}$$

Ответ: 6 мячей синих купили.

## Задача 2.

Купили 3 красных мяча, а синих в 3 раза больше. Сколько синих мячей купили?




$$3 \cdot 3 = 9 \text{ (м.)}$$

Ответ: 9 мячей синих купили.

## Задача 1.

Купили 3 красных мяча, а синих на 3 мяча больше.  
Сколько синих мячей купили?

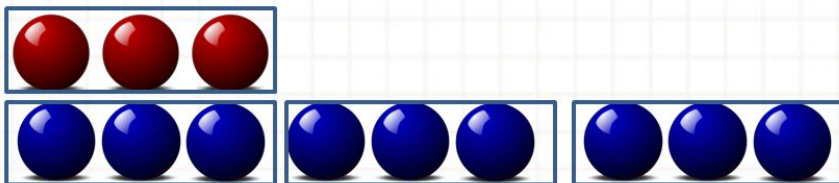


$$3 + 3 = 6 \text{ (м.)}$$

Ответ: 6 мячей синих купили.

## Задача 2.

Купили 3 красных мяча, а синих в 3 раза больше.  
Сколько синих мячей купили?



$$3 \cdot 3 = 9 \text{ (м.)}$$

Ответ: 9 мячей синих купили.



1. У Кати 6 игрушек, а у Нади на 4 игрушки больше.

Сколько игрушек у Нади?

$$6 + 4 = 10 \text{ (и.)}$$

2. На одной клумбе 5 цветов, а на другой в 2 раза больше. Сколько цветов на второй клумбе?

$$5 \cdot 2 = 10 \text{ (ц.)}$$

3. В саду работало 8 девочек, а мальчиков в 2 раза больше. Сколько мальчиков работало в саду?

$$8 \cdot 2 = 16 \text{ (м.)}$$

4. Дина огорода 6 м, а его ширина на 2 м длиннее. Какова длина огорода?

$$6 + 2 = 8 \text{ (м.)}$$