





Кто пришёл к нам на урок?

**Признаюсь, братцы,
смело:**

Какой – то я чудак!

Всё, чтобы я не делал –

Всё делаю не так!



Помоги Незнайке дойти до домика

100


25

72

80

0

10



36

45

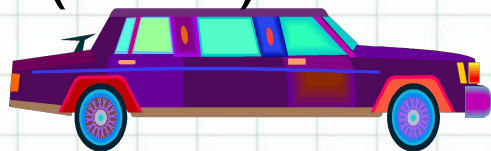
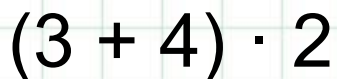
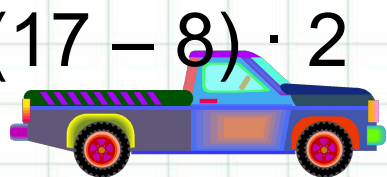
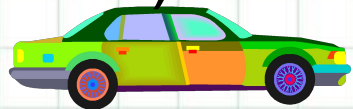
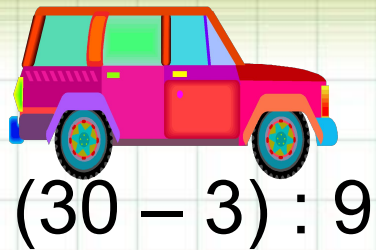
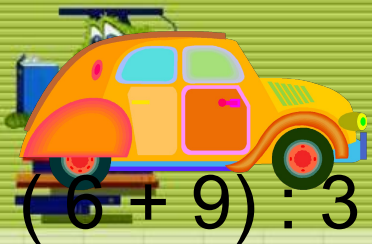
20

68



Где чей гараж?

14



$(2 + 6) \cdot 3$



6

3

24

5

18

Reklama 


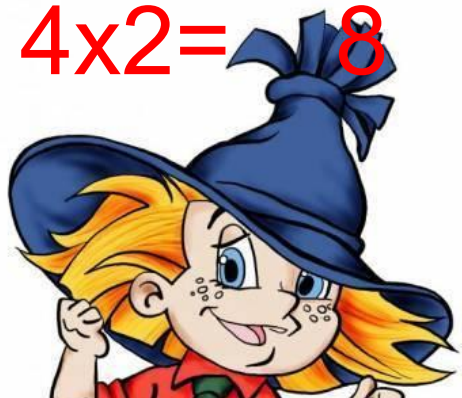


Сколько колёс у машин? Как лучше посчитать?



$$4 + 4 = 8$$

$$4 \times 2 = 8$$



$$4 + 4 + 4 = 12$$

$$4 \times 3 = 12$$



Работа с учебником

Стр 95 № 3


$$4 \times 3 =$$

$$4 \times 7 =$$

$$4 \times 6 =$$

$$4 \times 8 =$$

Задача



- Бутылки с газированной водой поставили в ящик так, что получилось 4 ряда по 6 бутылок. Сколько бутылок с водой поставили в ящик?



4 - ряда

6 – бутылок в
каждом ряду

$$4 \times 6 = 24$$



Итог урока

Что мы с тобой
Сегодня делали
На уроке?

