


Урок математики
1 класс 2012 год



26 ноября.

Классная работа.

2 66 2 66 2 66 2 66



$10 - 3 - \mathbf{p}$

$10 - 2 - \mathbf{г}$

$7 + 3 - \mathbf{м}$

$10 - 4 - \mathbf{е}$



$8 + 1 - \mathbf{а}$

$5 - 5 - \mathbf{т}$

$9 - 8 - \mathbf{л}$

0 6 1 6 8 7 9 10 10 9

Т Е Л Е Г Р А М М А


Телеграмма

ПОМОГИТЕ УЗНАТЬ ЧТО ТАКОЕ
ЗАДАЧА

Миша Маша




Тема урока «Задача».



Найдите задачу.

- У Пети 5 машинок, а у Васи 6 машинок.

- У Пети 5 машинок, а у Васи 6 машинок.
Сколько всего машин у мальчиков?



ЗАДАЧА

УСЛОВИЕ

ВОПРОС

РЕШЕНИЕ

ОТВЕТ



На полке было



Поставили ещё



Сколько кукол стало на полке?

Вопрос

Ответ: Решен

На полке стояло 5 кукол.

Поставили ещё 3 куклы.

Сколько кукол стало на полке?

$$5 + 3 = 8 \text{ (к)}$$

Ответ: 8 кукол.



Проверим знания + / -

Алёна в лесу нашла 5 орешков, а Рита на 3 орешка больше.





М О Л О Д Ц Ы !

Итог урока

- Что нового узнали на уроке?
- Что повторяли?
- Каково ваше настроение?

