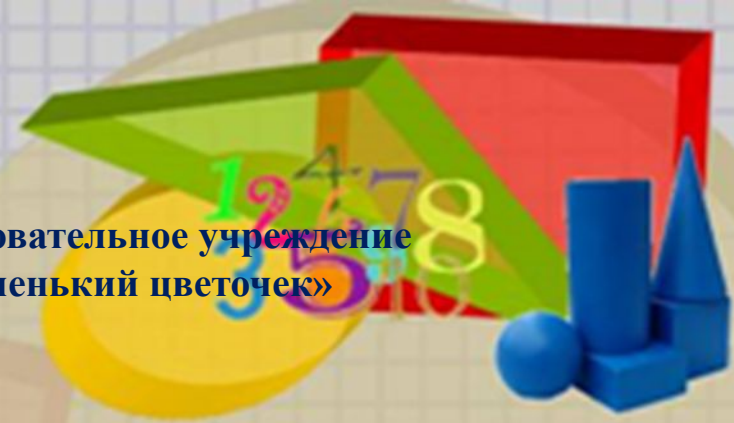


Муниципальное бюджетное дошкольное образовательное учреждение  
«Детский сад общеразвивающего вида «Аленький цветочек»




Нод по освоению области  
«Познавательное развитие»  
раздел «Математика»  
В подготовительной группе  
**«Тяжелее, легче. Сравнение  
по массе»**

*Подготовил: воспитатель I  
квалификационной категории Минакова  
Наргиза Рустемовна*

Перегребное 2017 г










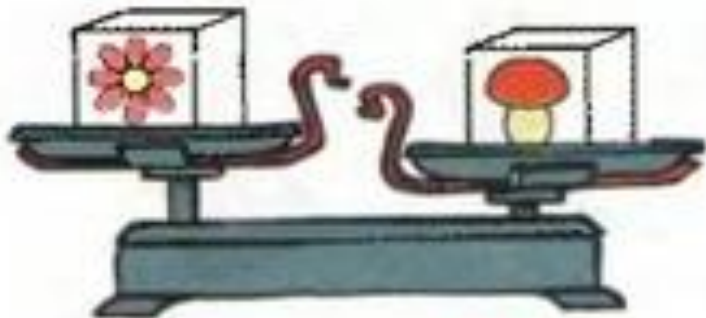
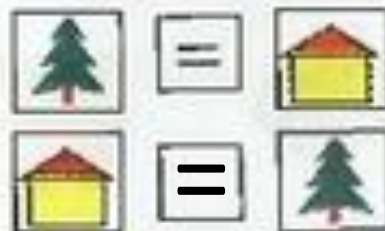




+



=







$$\begin{array}{|c|} \hline \triangle \triangle \\ \hline \end{array} + \begin{array}{|c|} \hline \bullet \triangle \\ \hline \end{array} = \begin{array}{|c|} \hline \triangle \triangle \triangle \triangle \bullet \\ \hline \end{array}$$

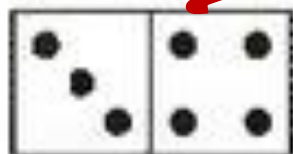

$$\begin{array}{|c|} \hline \square \square \bullet \bullet \\ \hline \end{array} - \begin{array}{|c|} \hline \bullet \bullet \\ \hline \end{array} = \begin{array}{|c|} \hline \square \bullet \\ \hline \end{array}$$

$$\begin{array}{|c|} \hline \bullet \bullet \bullet \square \triangle \\ \hline \end{array} - \begin{array}{|c|} \hline \bullet \square \\ \hline \end{array} = \begin{array}{|c|} \hline \bullet \bullet \triangle \\ \hline \end{array}$$





Проведи линии и допиши равенства.



$$1 + 6 = 7$$

$$3 + 4 = 7$$

$$2 + 5 = 7$$

$$6 + 1 = 7$$

$$\square + \square = \square$$

$$\square + \square = \square$$

$$7 - 1 = 6$$

$$7 - 3 = \square$$

$$7 - 2 = \square$$

$$7 - 6 = 1$$

$$\square - \square = \square$$

$$\square - \square = \square$$

