

# **Задачи на разностное и кратное сравнение: вариант 2 (для 4 класса)**



**Яковлева Татьяна Петровна,  
доцент кафедры математики и физики  
Камчатского государственного  
университета имени Витуса Беринга,  
кандидат педагогических наук, доцент,  
г. Петропавловск - Камчатский**

- Презентация разработана на основе пособия:



**Буряк М.В. Математика:  
итоговая аттестация.  
4 класс: текстовые задачи  
/ М. В. Буряк, С. А.  
Шейкина. – Ростов на  
Дону: Феникс, 2016. – 42 с.**

# ИНСТРУКЦИЯ ПО ВЫПОЛНЕНИЮ ТЕСТА

1. Прочитайте внимательно условие задачи.
2. Составьте краткую запись и решите задачу.
3. Из предложенных вариантов ответа выберите тот, который, на ваш взгляд, является правильным.
4. Нажмите на поле выбранного ответа. Если вы ответили верно, переходите к следующему заданию. Если вы ответили не верно, перерешайте задачу.
5. Оцените свои возможности.

**Желаем успеха!**

## 2 вариант




**Задача 1.** В одной стопке 56 тетрадей, а в другой – в 3 раза больше. На сколько меньше тетрадей в первой стопке, чем во второй?

в 3 раза  
больше

на 168 т.

на 112 т.

на 121 т.



**Задача 2.** У Наташи 3 куклы, а у Кати – на 6 кукол больше. Во сколько раз у Кати больше кукол, чем у Наташи?

в 4 раза

на 9 кукол

на 3 куклы

в 3 раза



**Задача 3.** На зиму заготовили 6 банок яблочного компота, абрикосового – в 2 раза больше, чем яблочного, а вишнёвого столько, сколько яблочного и абрикосового вместе. Во сколько раз меньше заготовили яблочного компота, чем вишнёвого?

в 4 раза

на 12 банок

в 3 раза

в 2 раза






**Задача 4.** В одном магазине 7 ящиков с яблоками по 32 кг, а в другом 9 ящиков по 28 кг. На сколько килограммов яблок меньше в первом магазине, чем во втором?

на 23 кг

на 32 кг

на 28 кг

на 82 кг






**Задача 5.** Мальчики вырезали 5 раз по 18 красных кружков и 3 раза по 10 зеленых кружков. Во сколько раз больше мальчики вырезали красных кружков, чем зелёных?

в 2 раза

в 3 раза

на 60

в 4 раза



**Задача 6.** На рыбалке Саша поймал 21 рыбку. Это в 3 раза меньше, чем Коля. На сколько больше поймал рыбок поймал Коля, чем Саша?

на 63 рыбки

на 7 рыбок

на 42 рыбки

на 24 рыбки




**Задача 7.** У 7 пауков по 8 лапок, а у 9 жуков по 6 лапок.  
На сколько меньше лапок у всех жуков, чем у всех пауков?

на 8 лапок

на 2 лапки

на 6 лапок

на 4 лапки



**Задача 8.** На 12 одинаковых шапок пошло 36 мотков пряжи и столько же мотков пряжи – на 6 шарфов. Во сколько раз больше пошло шерсти на один шарф, чем на одну шапку?

в 2 раза

в 4 раза

в 3 раза

в 5 раз



**Задача 9.** В семи одинаковых поездах 140 вагонов, а в трёх одинаковых электричках 21 вагон. На сколько больше вагонов в одном поезде, чем в одной электричке?

на 20 вагонов

на 7 вагонов

на 13 вагонов

на 31 вагон






**Задача 10.** Около школы росло 3 ряда по 7 берёз и 4 ряда по 6 елей. На сколько меньше росло берёз, чем елей?

на 1 дерево

на 3 дерева

на 4 дерева

на 5 деревьев



Верный ответ!

*Ты молодец!*





# Ошибка!

