



**Паши не  
лениво, если  
хочешь жить  
счастливо.**




# «Мое настроение».

- 
- хорошее настроение: +5; +4; +3; +2; +1;
  - плохое настроение: -1; -2; -3; -4; -5.
- 



# Устные упражнения.

Найдите часть от числа:



а)  $\frac{1}{2}$  от 150      б)  $\frac{2}{3}$  от 27

в)  $\frac{1}{3}$  от 60      г)  $\frac{2}{7}$  от 28

д)  $\frac{4}{9}$  от 81      е)  $\frac{3}{5}$  от 100



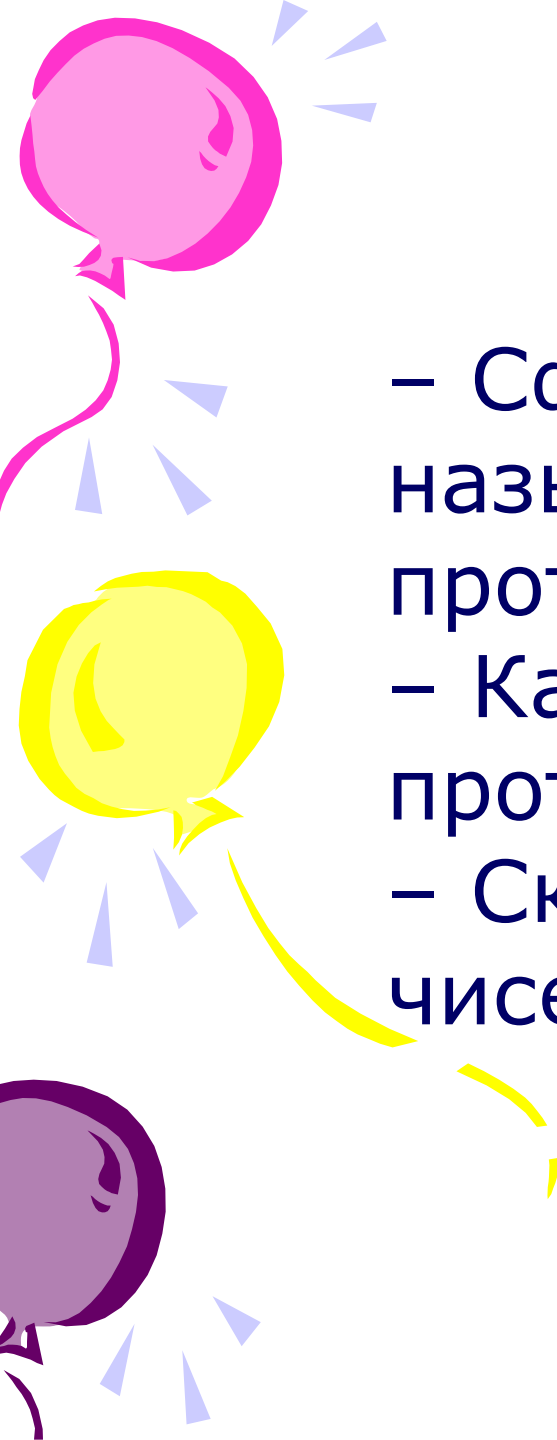
ж)  $\frac{1}{5}$  от 70




# ***Устные упражнения.***

Сравните и скажите, какое из чисел больше:

- а) 5 или 4,7;
- б) 6,07 или 6,7;
- в) 7,2 или 7,22;
- г) 2,44 или 2,442;
- д) 8,3 или 8,30;
- е) 0,021 или 0,0209;
- ж) 0 или 0,03;
- з) 9,992 или 9,9915.

- 
- Сформулируйте, какие числа называются противоположными.
  - Какое число будет противоположно нулю?
  - Сколько противоположных чисел имеет каждое число?

$$-(-a) = a$$



Найдите среди данных чисел пары  
противоположных:

7; -3; 11; -8; -7;

5; -11; 2; 8; -1.

Вчера термометр на улице показывал  $9^{\circ}\text{C}$ , а сегодня он показывает  $13^{\circ}\text{C}$ .  
 Повысилась или понизилась температура?  
 Вчера термометр на улице показывал  $0^{\circ}\text{C}$ , а сегодня он показывает  $3^{\circ}\text{C}$ .  
 Повысилась или понизилась температура?  
 Вчера термометр на улице показывал  $3^{\circ}\text{C}$ , а сегодня он показывает  $-7^{\circ}\text{C}$ .  
 Повысилась или понизилась температура?  
 Вчера термометр на улице показывал  $0^{\circ}\text{C}$ , а сегодня он показывает  $-2^{\circ}\text{C}$ .  
 Повысилась или понизилась температура?

$2 < 3$   
 температура 2 температура 3

– Про какое из этих

**Учебник**  
**: стр.**

$0 > -5$   
 $-3 > -7$   
 $9 < 13$

190