

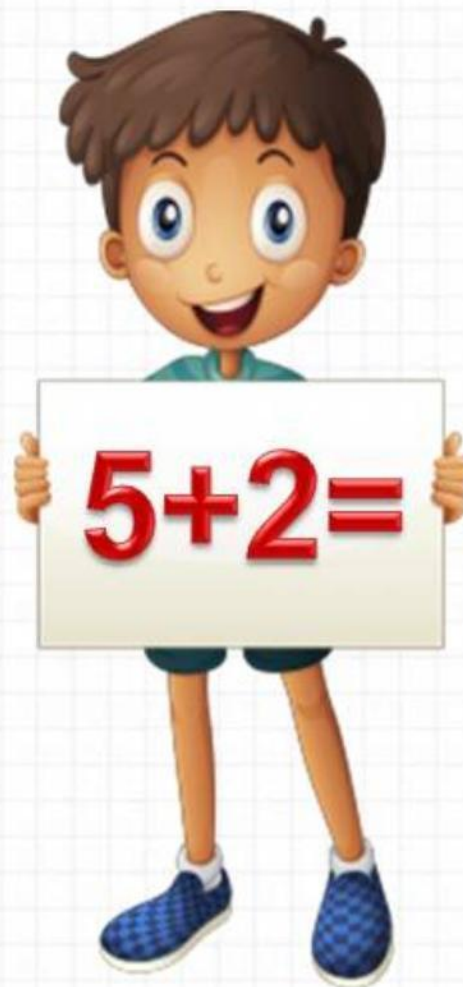
Закрепление знаний по теме  
«Нумерация.  
Числа от 1 до 10 и число 0  
стр. 76-78

## Урок 34-35




*Школа России  
Математика 1 класс*





Устный счёт


Назови предыдущие числа.



Назови последующие числа.




Уменьши числа на 2.





Увеличь числа на 4.




Реши цепочки примеров.



$$10 - 3 + 2 = \boxed{\phantom{00}}$$

$$9 - 2 - 4 = \boxed{\phantom{00}}$$

**Реши  
задачу.**



**Мы большущая семья.  
Самый младший – это я.  
Таня есть и Вася есть,  
Юра, Шура, Зина, Маша,  
И Наташа тоже наша.  
Сколько детей в семье?**


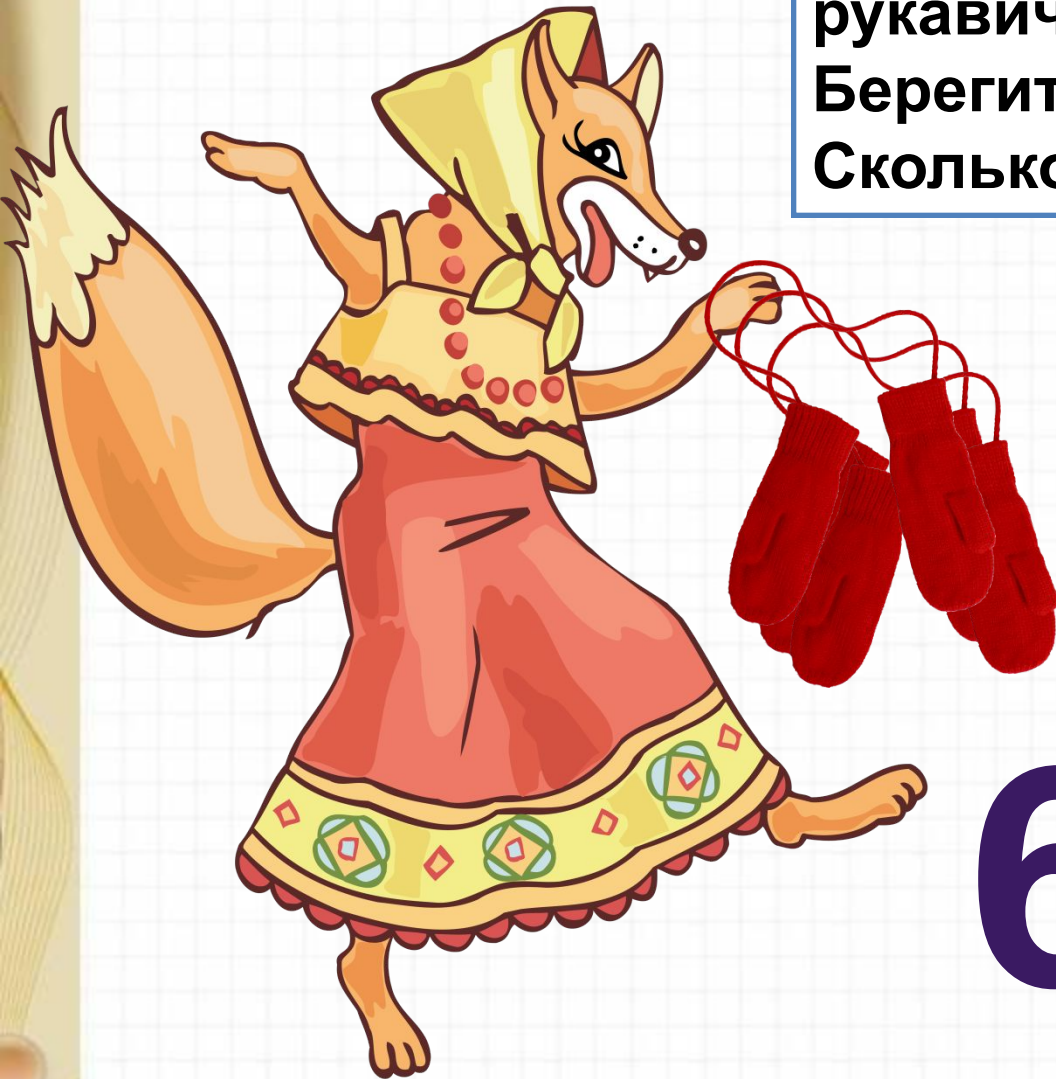


**8**



Реши  
задачу.

Дарит бабушка лисица  
Трёх внучатам рукавицы:  
"Это вам на зиму, внуки,  
рукавичек по две штуки.  
Берегите, не теряйте,  
Сколько всех, пересчитайте!"




6

На сколько больше жирафов, чем  
пингвинов?



$$6 - 3 = 3$$

НА 3



Сосчитай, если не трудно, примеры.



$$16 - 0 - 3 = 13$$

$$14 - 3 + 3 = 14$$

$$16 - 4 + 1 = 13$$

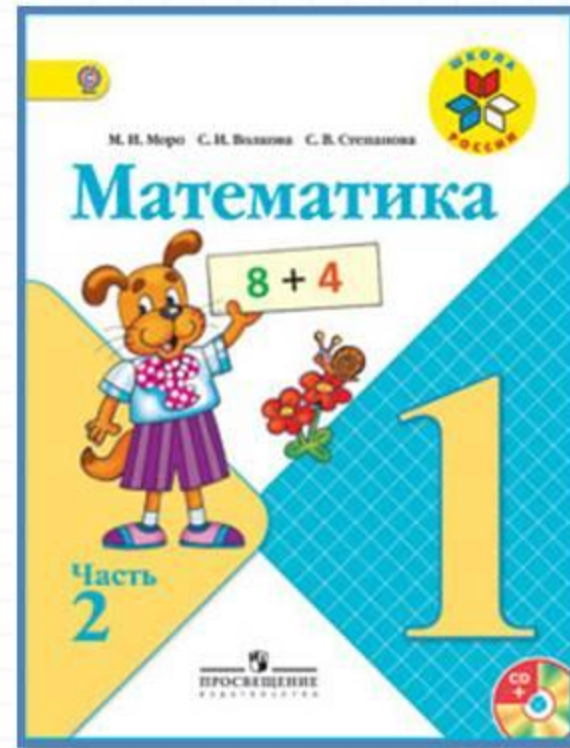
# Физкультминутка

**Ёж спешил к себе домой,  
Нёс запасы он с собой.  
Через кочки он скакал,  
Быстро по лесу бежал.  
Вдруг он сел и изменился,  
В шарик круглый превратился.  
А потом опять вскочил  
И к детишкам поспешил.**





# Работа по учебнику



стр. 76 –  
78



**? ЧТО УЗНАЛИ. ЧЕМУ НАУЧИЛИСЬ**

Закрой квадратами примеры с ответом 4.




|         |         |         |
|---------|---------|---------|
| $4 - 2$ | $3 + 1$ | $6 - 1$ |
| $5 - 1$ | $5 - 4$ | $1 + 3$ |
| $2 + 1$ | $2 + 2$ | $3 - 2$ |

У почтальона в сумке было 10 писем. Одно письмо он уже отнёс по адресу. Сколько писем осталось в сумке у почтальона?

Мальчик решал пример  $8 - 1$ , и у него получилось 9. В чём его ошибка?

Игра «Лесенка»



Закрой квадратами примеры с ответом 4.



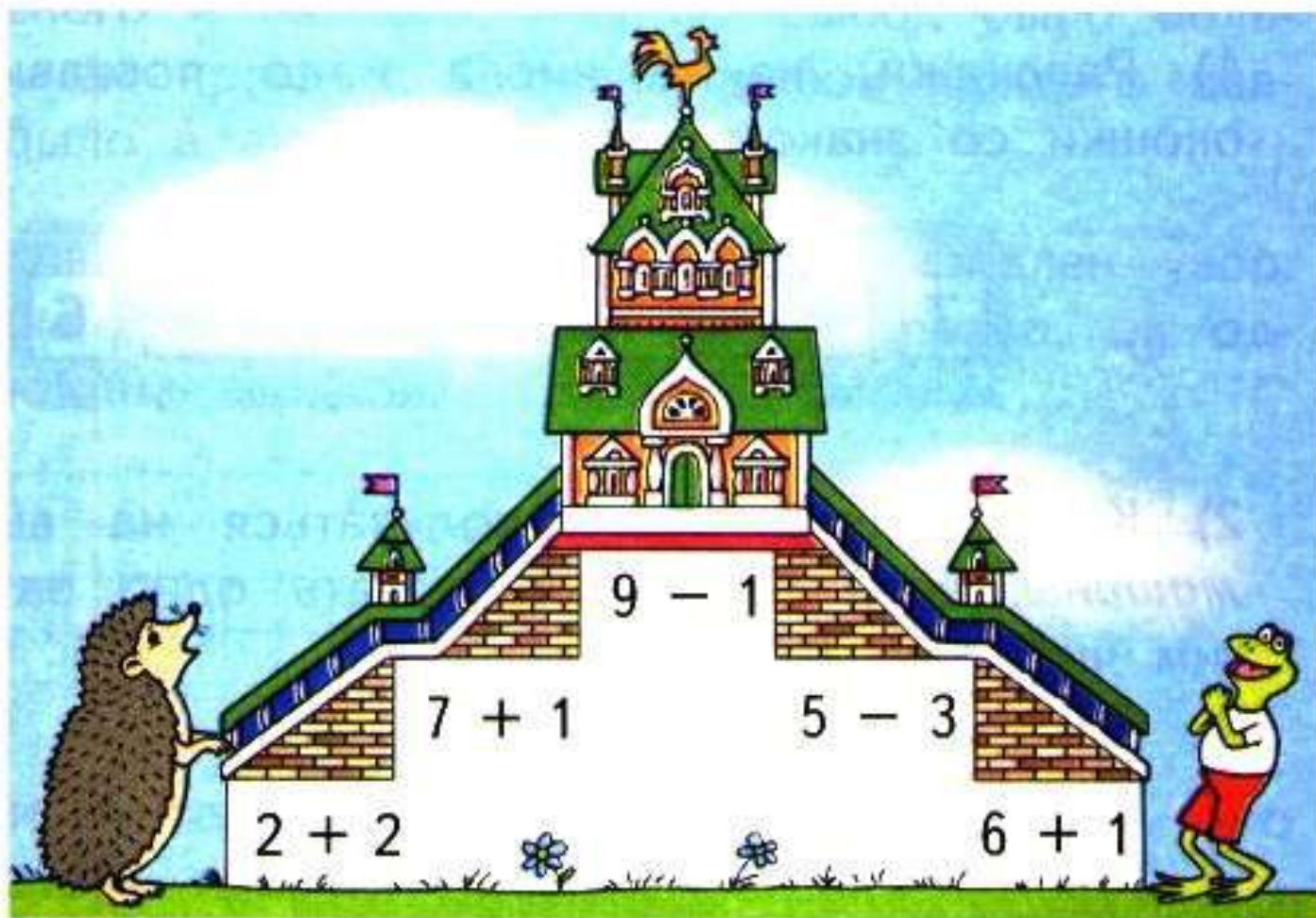
|         |         |         |
|---------|---------|---------|
| $4 - 2$ | $3 + 1$ | $6 - 1$ |
| $5 - 1$ | $5 - 4$ | $1 + 3$ |
| $2 + 1$ | $2 + 2$ | $3 - 2$ |

У почтальона в сумке было 10 писем. Одно письмо он уже отнёс по адресу. Сколько писем осталось в сумке у почтальона?



Мальчик решал пример  $8 - 1$ , и у него получилось 9. В чём его ошибка?

### Игра «Лесенка»

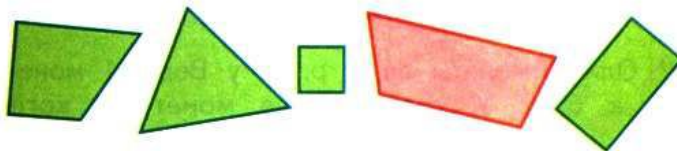


Закрой кругами примеры с ответом 5.

|         |         |         |
|---------|---------|---------|
| $1 + 4$ | $3 + 1$ | $4 + 1$ |
| $5 - 3$ | $3 + 2$ | $5 - 2$ |
| $6 - 1$ | $4 - 3$ | $2 + 3$ |



Как можно одним словом назвать все фигуры на чертеже?



Какую фигуру можно назвать лишней?

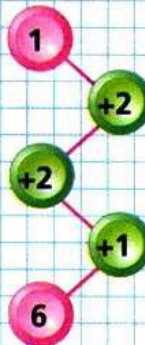
Игра



Где моё место?



ЦЕПОЧКА:



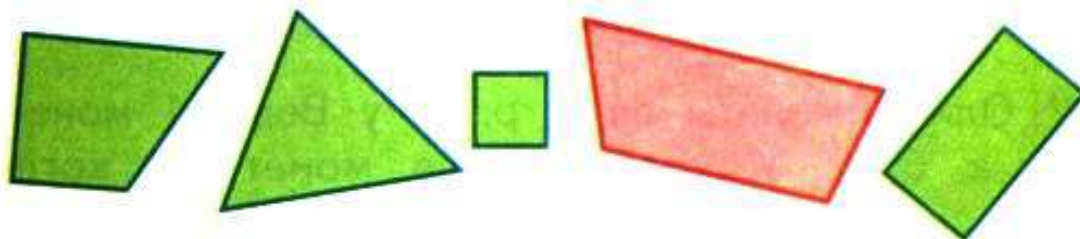


Закрой кругами примеры с ответом 5.

|         |         |         |
|---------|---------|---------|
| $1 + 4$ | $3 + 1$ | $4 + 1$ |
| $5 - 3$ | $3 + 2$ | $5 - 2$ |
| $6 - 1$ | $4 - 3$ | $2 + 3$ |



Как можно одним словом назвать все фигуры на чертеже?



Какую фигуру можно назвать лишней?



## Игра



Где моё место?

# Закрепление изученного



Выберите примеры с ответом 3.



$4-1$


$7-3$

$8-5$


$6-3$

$7+1$

$4+4$





Какие геометрические фигуры ты видишь?






Найдите отличия.





# Работа в тетради

стр.  
28




- Выбери для каждого рисунка свою запись.



$6 + 1 = \square$

$5 + 2 = \square$

$6 - 1 = \square$



- Вставь пропущенные числа.



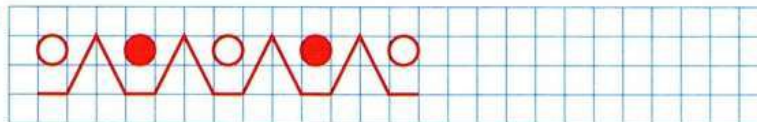
|                 |           |                 |
|-----------------|-----------|-----------------|
| $3 - 3 =$       | $8 + 0 =$ | $9 + \quad = 9$ |
| $7 - \quad = 0$ | $5 - 0 =$ | $9 - \quad = 9$ |
| $\quad - 6 = 0$ | $0 + 4 =$ | $\quad + 7 = 7$ |

- Бабушка связала внукам носки, по одной паре каждому. Сколько внуков у бабушки?

Запиши:



- $4 + 1 =$        $8 + 1 =$        $6 + 0 =$   
 $5 - 1 =$        $9 - 1 =$        $6 - 0 =$



● Выбери для каждого рисунка свою запись.




5



$6 + 1 = \square$

$5 + 2 = \square$

$6 - 1 = \square$





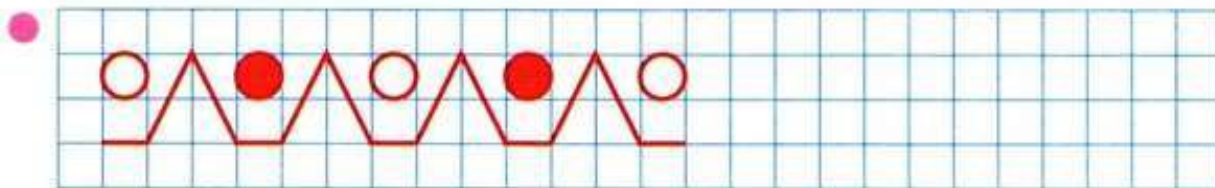
- Вставь пропущенные числа.

|                          |                 |           |                 |
|--------------------------|-----------------|-----------|-----------------|
| <input type="checkbox"/> | $3 - 3 =$       | $8 + 0 =$ | $9 + \quad = 9$ |
|                          | $7 - \quad = 0$ | $5 - 0 =$ | $9 - \quad = 9$ |
|                          | $\quad - 6 = 0$ | $0 + 4 =$ | $\quad + 7 = 7$ |

- Бабушка связала внукам носки, по одной паре каждому. Сколько внуков у бабушки?  
Запиши:



- |           |           |           |
|-----------|-----------|-----------|
| $4 + 1 =$ | $8 + 1 =$ | $6 + 0 =$ |
| $5 - 1 =$ | $9 - 1 =$ | $6 - 0 =$ |





# Задания на смекалку



Вася переломил плитку шоколада, потом переломил одну из получившихся частей. На сколько частей переломил Вася плитку шоколада?



3

Костя родился на 2 года раньше Васи. Сейчас Косте 5 лет. Сколько лет Васе?



**3 ГОДА**



# Рефлексия

- Что нового узнали?
- Что бы хотели выполнить ещё?
- Какое задание оказалось для вас самым простым?
- Какое задание было выполнить труднее всего?
- Какое задание было самым интересным?



