


# Задания по

**Задания для промежуточной  
аттестации по математике  
в 5 классе**



1

0

Выполните действия:


$$(25680 + 6018 - 10 - 2050) : 2$$



2

0

Среди чисел **0,0082;**  
**0,0183;** **0,006;** **0,0012**  
укажите наименьшее



3

Найдите сумму значений  
выражений  $5,04 - 0,8$   
и  $0,182 : 1,3$



4

0

Решите уравнение:  
 $5,9y + 2,3y = 27,88$



5

0

Найдите значение выражения:

$$57 \text{ кг } 320 \text{ г} - 4 \text{ кг } 18 \text{ г} + 120 \text{ г} - 4 \text{ г}$$



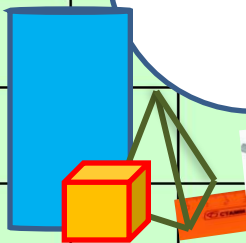
# 6

В понедельник туристы прошли **27,5** км, во вторник на **1,3** км больше, чем в понедельник, а в среду в **1,2** раза меньше, чем во вторник. Сколько километров туристы прошли за три дня?



7

Длина прямоугольника на **8** см больше его ширины. Найдите эту длину, если периметр прямоугольника равен **24** см






8

В первый день мальчик прочитал  $\frac{2}{5}$  всей книги, а последние 20 страниц – во второй день. Сколько страниц было в этой книге?




9

В книге **300** страниц. Повесть занимает **40 %** всей книги. Сколько страниц занимает повесть?



# 10

Начертите угол **МКН**, равный **140°**.  
Лучом **КР** разделите этот угол на два угла,  
так чтобы угол **РКН** был равен **55°**.  
Вычислите градусную меру угла **МКР**.



**Использованные источники:**

**[http://pedsovet.su/load/412-1-0-14113-](http://pedsovet.su/load/412-1-0-14113)фон для  
презентации**

