

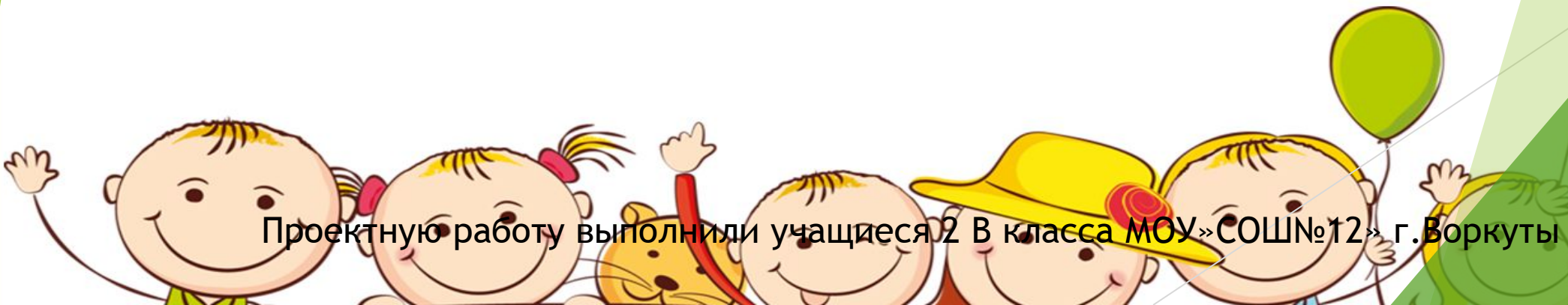
Муниципальное общеобразовательное учреждение
«Средняя общеобразовательная школа №12 г.Воркуты

ПРЕДСТАВЛЯЕТ

**ПРОЕКТНУЮ РАБОТУ
УЧАЩИХСЯ 2 В КЛАССА**

Весёлый задачник второклассника

Проектную работу выполнили учащиеся 2 В класса МОУ «СОШ №12» г. Воркуты



Кощей Бессмертный закачал на телефон 10 новых мелодий, а Баба Яга на 6 мелодий больше. Сколько мелодий будут слушать вечером в своём лесу Кощей и Баба Яга ?



Учительница разрешила ученику Васе прогулять 7 уроков, а Маше - на 5 больше, чем Васе, а Диме - на 3 меньше, чем Маше. Сколько уроков разрешила учительница прогулять Диме, и что ей за это будет от директора?



- ▶ Губка Боб испек 15 штук крабсбургеров. К нему пришли в гости Патрик и Белка Сэнди . Помоги Губке Бобу поделить выпечку поровну.



- ▶ Колдунья варит приворотное зелье. Для этого ей нужно 7 непослушных девочек и 12 непослушных мальчиков. Колдунья уже нашла 8 непослушных детишек. Сколько ребят ей осталось найти для своего зелья и что надо сделать, чтобы Колдунья не украдала вас ?

(стр.65 №5)



Дядя Петя купил на день рождения тёте Лене букет цветов. В нем было 13 красных роз, а белых на 5 меньше. Сколько цветов отнес дядя Петя на мусорку, когда узнал, что у тёти Лены аллергия на цветы?



- ▶ Волк живет на шестом этаже, а его друг Заяц - на третьем. Когда Волк возвращается домой, ему приходится пройти 60 ступенек. Сколько ступенек придётся пройти Зайцу, когда он возвращается домой?



Ступа с Бабой Ягой весит 50 кг , а без Яги - 10 кг. Сколько будет весить Баба Яга, когда съест 3 кг молодильных яблок?



- ▶ Колдунья отрезала у Рапунцель 9 дм волос, после этого у девочки осталось 11 дм волос. Сколько сантиметров волос было у Рапунцель?



- ▶ На Новый Год Саше подарили мяч. От первого удара по мячу с ёлки упали 3 игрушки, после второго - 5 игрушек. Сколько игрушек осталось на ёлке, если всего на ней было 20 игрушек?





- ▶ Петя сел на стул. Коля взял пилу и первую ножку Петиного стула пилил 2 минуты, вторую на 3 минуты больше, а третью и четвёртую на 2 минуты меньше, чем вторую. Через сколько минут упадёт Петя, и на сколько метров успеет убежать Коля?




▶ Белоснежка
связала гномам и
себе 8 пар
шерстяных носков.
Сколько всего
носков связала
Белоснежка?





▶ Сколько сапожек нужно четырём осьминожкам?



Золушка перебрала 40 мешочков фасоли, а её зверята - на 20 мешочков больше. Сколько мешочков фасоли перебрала Золушка со своими помощниками?



Гаргамель словил смурфиков и посадил их в 5 клеток. В каждую клетку вместились по 2 смурфа. Сколько пленников сбежало из клеток, когда Гаргамель уснул?



Мальвина возле своего домика вырастила три арбуза по 6 кг каждый и одну дыню массой 2 кг. Найти массу арбузов и дыни вместе Мальвина поручила Буратино. Помоги Буратино решить эту задачу.



Чебурашка и Гена купили
2 булочки по 15 рублей.
Сколько денег они
заплатили за эти булочки?



- ▶ Красная Шапочка принесла бабушке 3 пирожка с яблоками, 9 с брусникой, а с капустой - на 4 меньше, чем с яблоком и брусникой вместе. Сколько пирожков с капустой принесла Красная Шапочка бабушке?



Спасибо за Внимание!!!

