

Урок - путешествие

«Решение практических задач»

Три пути ведут к знаниям:

Путь размышлений- самый
благородный,

Путь подражания- самый легкий,

Путь опыта- самый горький

Конфуций

Конфуций (ок. 551 — 479 до н. э.)



великий древнекитайский мыслитель, философ, основатель конфуцианства. Настоящее имя Конфуция — Кун Цю. Он также часто встречается в литературе как: Кун-цзы, Кун Фу-Цзы («учитель Кун») или просто Цзы («учитель»).

В 22-летнем возрасте стал знаменитым

Остров “Разминка”

S V t



Остров “Знатоков”

Задача №1

Скорость движения пешехода 6 км/ч. Какое расстояние он пройдет за три часа?

Задача №2

Расстояние между двумя населенными пунктами равно 18 км. Скорость движения пешехода 6 км/ч. За какое время он пройдет это расстояние ?

Задача №3

Расстояние между двумя населенными пунктами равно 18 км. Пешеход прошел это расстояние за три часа. Какова была его скорость движения ?



причал «Логика»

1. Поезд состоит из 12 вагонов. Марат сел в 6 по счёту вагон с головы поезда, а Андрей сел в 6 вагон по счёту с хвоста поезда. В одном ли вагоне ехали Марат и Андрей?
2. Колю угостили конфетами. Половину конфет он съел, а оставшиеся 5 конфет отнёс брату. Сколько конфет дали Коле?
3. Белочка засушила на зиму 5 целых яблок, 10 половинок и 8 четвертинок. Сколько всего яблок у белочки?



А вот и правильный ответ



В РАЗНЫХ ВАГОНАХ.

10 КОНФЕТ



12 ЯБЛОК



Физкультминутка!



Раз - подняться, потянуться,
Два - нагнуться, разогнуться,
Три - в ладоши три хлопка,
Головою три кивка.
На четыре - руки шире,
Пять - руками помахать,
Шесть - на месте тихо встать.



таверна

- * Задача « В таверне продается сок
- * Томатный сок – x пакетов
Апельсиновый сок – ? п., в 2 раза больше, чем томатного.
Яблочный сок – ? п., в 3 раза больше, чем апельсинового.
- * **Задание:** переведите на математический язык следующие выражения:
 - а) число пакетов апельсинового сока;
 - б) число пакетов яблочного сока;
 - в) сколько всего пакетов с соками;
- * г) на сколько пакетов яблочного сока больше, чем апельсинового?;
- д) на сколько пакетов апельсинового сока больше, чем томатного?



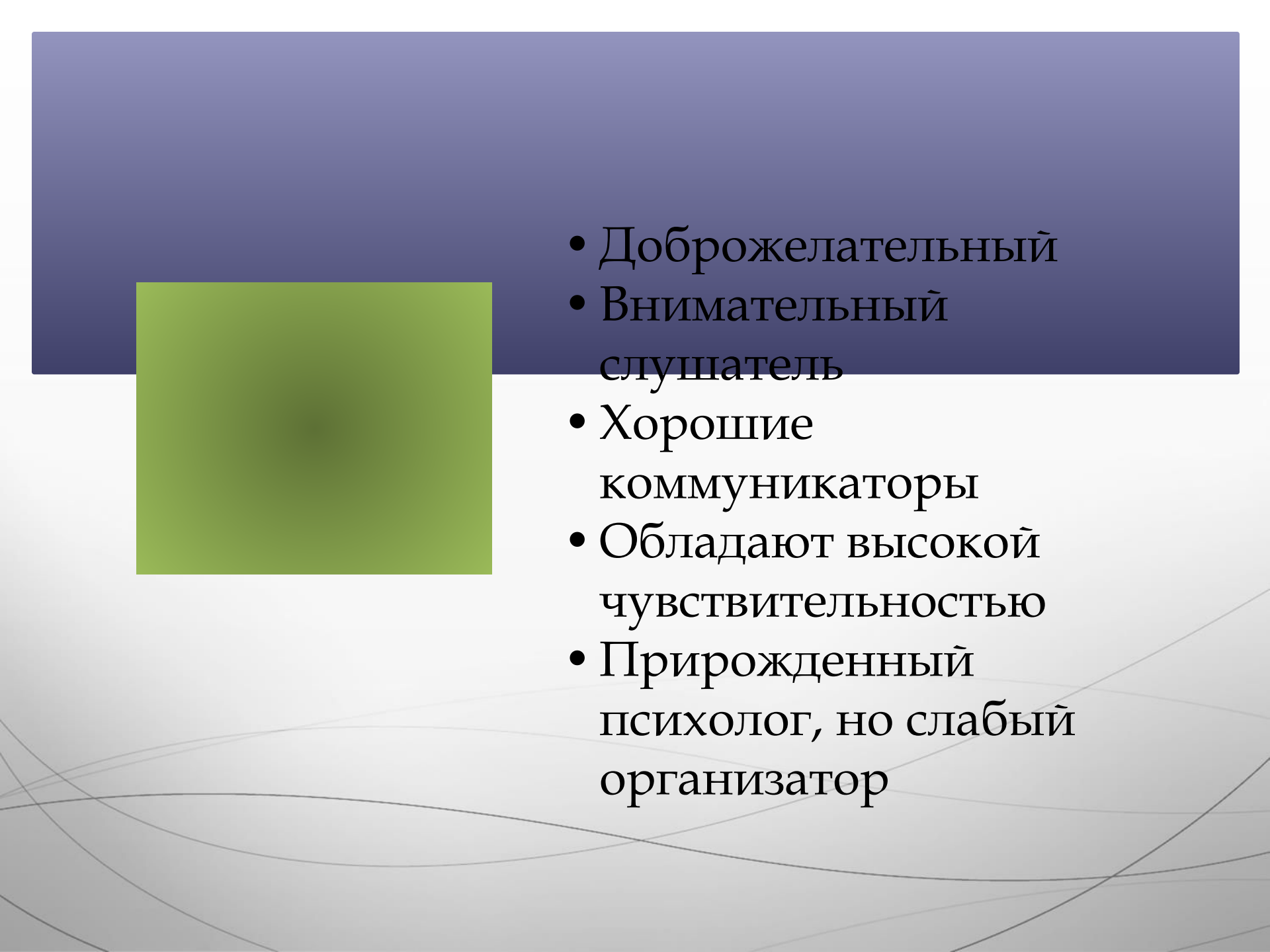



Фигурный пляж


Задание «Кто Я?»


У каждого на столе есть геометрические фигуры: квадрат, круг, треугольник, прямоугольник, зигзаг. Выберите одну из них.

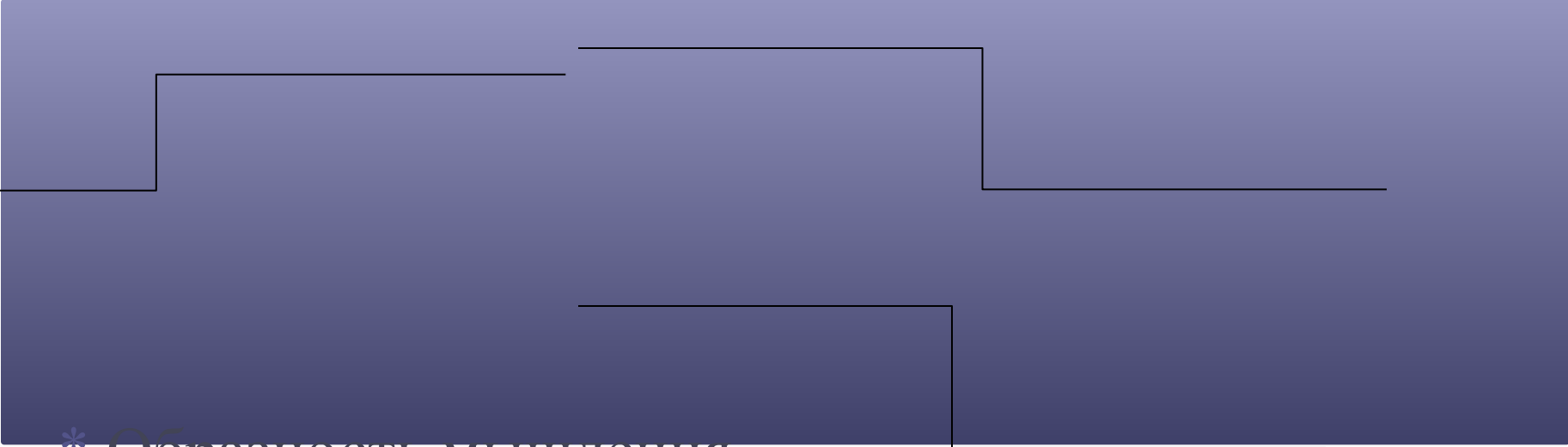


- 
- Доброжелательный
 - Внимательный слушатель
 - Хорошие коммуникаторы
 - Обладают высокой чувствительностью
 - Прирожденный психолог, но слабый организатор

- 
- * Организованны
 - * Трудолюбивы
 - * Рациональны
 - * Настойчивы
 - * Консервативны
 - * Отличные исполнители, но редко бывают хорошими руководителями
 - * С трудом устанавливают контакты с окружающими
 - * Внимательны к деталям

- 
- * Энергичны
 - * Решительны, уверены в себе
 - * Лидеры
 - * С трудом признают ошибки
 - * Не терпят возражения

- 
- * Временная форма личности
 - * Не удовлетворенные сложившимися обстоятельствами
 - * Любознательны
 - * Пытливы
 - * Чрезмерно доверчивы и внушаемы

- 
- * Образность мышления
 - * Интуитивность
 - * Развитое эстетическое чувство
 - * Креативность
 - * Природное остроумие
 - * Не выносят структурированных ситуаций
 - * Возбудимый
 - * Несдержанный

Мыс «Домашний»

- 1) Устный счет ежедневно в течение 5-7 минут.
- 2) Перед выполнением домашнего задания по математике сначала изучить теорию, правила, формулы, законы.
- 3) Во время решения примеров и задач не отвлекаться, отключить телевизор, музыку.
- 4) В тетрадях должно быть все выполнено четко и аккуратно.



Спасибо за урок !

