

"Весёлый счёт"

урок - игра

по математике

в 3 классе

Гладких Светлана Николаевна
Учитель начальных классов
Быковский филиал МОУ СОШ с.
Чернава



**Терпение и труд
дивные всходы дают!»**



Математический диктант:

$4 \cdot 4$

$5 \cdot 6$

$5 \cdot 5$

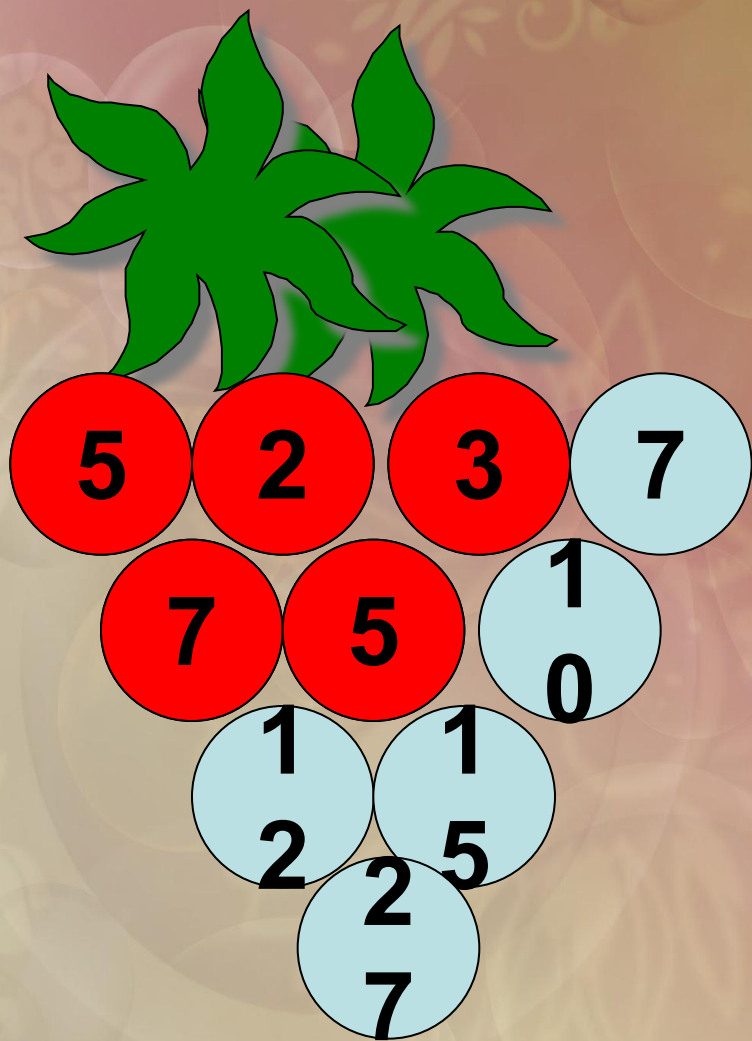
$18 : 2$

$7 \cdot 3$


$3 \cdot 8$

$30 : 6$

$9 : 7$



Посмотри, как
заполнена гроздь
винограда числами:
вверху два
слагаемых, внизу
между ними их
сумма.



По тому же правилу заполни
числами эти грозди.



*Определи какие примеры
записаны в виде суммы
разрядных слагаемых. Они
останутся на облаках, а
другие прольются дождём на
землю. Тучки развеются, и я
смогу добраться до цветка.*





$$29 = 20 + 9$$

$$37 = 35 + 2$$

$$11 = 11 + 0$$

$$48 = 40 + 8$$

$$63 = 3 + 60$$

$$76 = 60 + 16$$

$$50 = 40 + 10$$

$$95 = 90 + 5$$

$$37 = 35 + 2$$





$$29 = 20 + 9$$

$$11 = 11 + 0$$

$$48 = 40 + 8$$

$$63 = 3 + 60$$

$$76 = 60 + 16$$


$$50 = 40 + 10$$

$$95 = 90 + 5$$

$$11 = 11 + 0$$


$$37 = 35 + 2$$





$$29 = 20 + 9$$
$$48 = 40 + 8$$

$$95 = 90 + 5$$
$$76 = 60 + 16$$
$$50 = 40 + 10$$
$$63 = 3 + 60$$



$$11 = 11 + 0$$
$$37 = 35 + 2$$






$$29 = 20 + 9$$
$$48 = 40 + 8$$

$$95 = 90 + 5$$
$$76 = 60 + 16$$
$$50 = 40 + 10$$
$$63 = 3 + 60$$


$$11 = 11 + 0$$
$$37 = 35 + 2$$

$$76 = 60 + 16$$

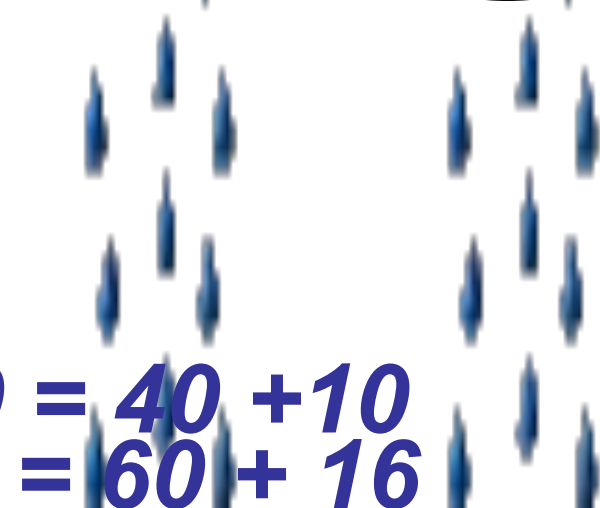




$$29 = 20 + 9$$
$$48 = 40 + 8$$

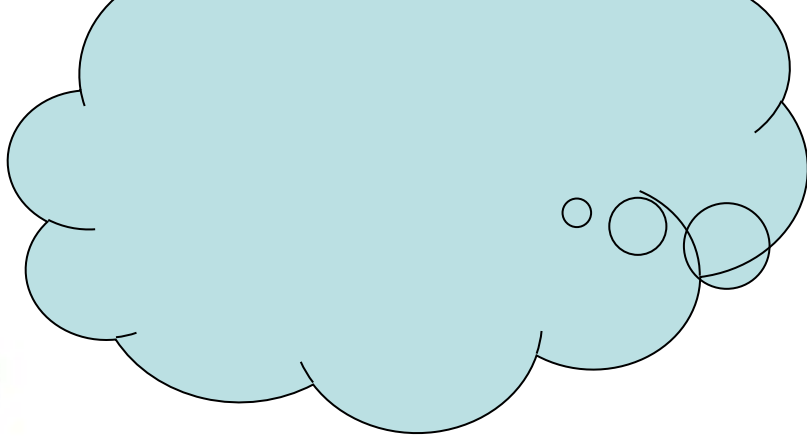


$$95 = 90 + 5$$
$$50 = 40 + 10$$
$$63 = 3 + 60$$



$$11 = 11 + 0$$
$$37 = 35 + 2$$

$$50 = 40 + 10$$
$$76 = 60 + 16$$



$$29 = 20 + 9$$
$$48 = 40 + 8$$

$$95 = 90 + 5$$
$$63 = 3 + 60$$

арю!

$$11 = 11 + 0$$
$$37 = 35 + 2$$

$$50 = 40 + 10$$
$$76 = 60 + 16$$



Замени числа суммой
разрядных слагаемых.

$$89 = 80 + 9$$

$$74 = 70 + 4$$

$$93 = 90 + 3$$

$$68 = 60 + 8$$




Молодцы!!!



Правила:

- Прочитай названия видов работы
- Кликни мышкой по нужному заданию
- После выполнения задания кликни по солнышку в правом нижнем углу слайда.



Устный счет 3 класс



Деление

Вычитание

Сложение

Задачи

Уравнения

Геометрический материал

Умножение





$$18 : 3 = 6$$

$$56 : 7 = 8$$

$$72 : 8 = 9$$

$$20 : 4 = 5$$

$$32 : 8 = 4$$

$$0 : 9 = 0$$

$$43 : 43 = 1$$

$$49 : 7 = 7$$

$$24 : 3 = 8$$

$$64 : 8 = 8$$

$$18 : 2 = 9$$

$$28 : 4 = 7$$

$$30 : 6 = 5$$

$$16 : 8 = 2$$

$$45 : 5 = 9$$

$$15 : 1 = 15$$





$2 \cdot 9 = 18$ $5 \cdot 9 = 45$

$3 \cdot 8 = 24$ $3 \cdot 9 = 27$

$5 \cdot 9 = 45$ $2 \cdot 5 = 10$

$7 \cdot 3 = 21$ $4 \cdot 3 = 12$

$4 \cdot 6 = 24$ $4 \cdot 8 = 32$

$1 \cdot 0 = 0$ $3 \cdot 3 = 9$

$9 \cdot 9 = 81$ $6 \cdot 9 = 54$




$$245 + 15 = 260$$

$$131 + 10 = 141$$

$$50 + 19 = 69$$

$$177 + 13 = 190$$

$$34 + 56 = 90$$

$$163 + 0 = 163$$

$$39 + 101 = 140$$




$$245 - 15 = 230$$

$$131 - 10 = 121$$

$$50 - 19 = 31$$

$$177 - 13 = 164$$

$$84 - 56 = 28$$

$$163 - 30 = 133$$

$$391 - 101 = 290$$





Лесная
физминутка



Витя купил в магазине.
У Алика было 359 рублей.
4 карандаша по 9
Он купил 6 альбомов по 15
рублей каждый и 3
ручки по 10 рублей
денег у Алика осталось?
одна. Сколько денег
потратил Витя на
покупку?

$$4359 \div 6 \cdot 150 = 266 \text{ рублей.}$$





3 CM.



8 CM.

P - ?

$$P = (8 + 3) \cdot 2$$

$$P = 22 \text{ CM.}$$

S - ?

$$S = 8 \cdot 3$$

$$S = 24 \text{ КВ.СМ.}$$



Решите задачу:

Копатыч собрал с огорода 285 кг моркови, картофеля – на 37 кг меньше, а свеклы – на 12 кг больше, чем картофеля. Сколько всего килограммов овощей

собрал Копатыч?

- 1). $285 - 37 = 248$ (кг) - картофеля.
- 2). $248 + 12 = 260$ (кг) - свёклы.
- 3). $285 + 248 = 533$ (кг) - картофеля и моркови.
- 4). $533 + 260 = 793$ (кг) - всего.





Реши примеры, записывая
их в столбик:

$$413 + 187$$

$$536 - 249$$

$$109 + 178$$

$$903 - 286$$

$$768 - 423$$

$$271 + 635$$

$$583 - 469$$

$$143 + 624$$





Определите, кто верно нашел значение суммы и значение разности, Маша или Миша?

Маша:

$$\begin{array}{r} +346 \\ \quad 99 \\ \hline 445 \end{array}$$

$$\begin{array}{r} _889 \\ \quad 67 \\ \hline 822 \end{array}$$


Миша:


$$\begin{array}{r} +346 \\ \quad 99 \\ \hline 1336 \end{array}$$


$$\begin{array}{r} _889 \\ \quad 67 \\ \hline 219 \end{array}$$


Кто допустил ошибки и в чем их причина?





 $20 - 3$


 $15 - 9$


 $13 - 8$


 $17 - 11$

 $36 - 30$

 $39 - 34$

 $28 - 22$

 $12 - 6$

 $14 - 8$

 $12 - 5$

Микки Маус играл в баскетбол. Он забросил только те мячи, возле которых находятся примеры, где в результате вычитания получится

6

Посчитай примеры и узнай, какие мячи забросил Микки Маус.



17 20 - 3

15 - 9

5 13 - 8

17-11

36-30

5 39-34

28-22



12 - 6

14 - 8



7 12 - 5





14 - 8
12 - 6
28-22
36-30
17-11
15 - 9



Урок прошел удачно.
Я доволен собой!



Мне было трудно, но я
справлялся с заданиями.
Я вполне доволен собой!



Мне было очень трудно.
Мне нужна помощь!



