

Эрудит — марафон «Я знаю математику!»



1 класс

Подготовила:
Абырина Е.В.

Правила игры

- ▣ Работать дружно, всем вместе;
- ▣ Уметь выслушать своего
- ▣ товарища;
- ▣ Не злиться, если вы проиграете.

Разминка



Гусь весит 3 кг.
Сколько он будет весить,
если встанет на одну ногу?

3 кг



Сколько ушей у 5 мышей?



10

У трёх братьев по одной сестре.
Сколько всего детей в семье?



Четверо

Летели 3 страуса.
Охотник одного подстрелил.
Сколько страусов осталось?

**Страусы
не
летают.**



Задачи в стихах.

10



4

8



В зоопарке я стоял,
Обезьянок там считал:
Две играли на песке,
Три уселись на доске.
А двенадцать — ели.
Сосчитать вы их успели?

17

Поручил учитель Коле
Сосчитать лопаты в
школе.

Он лопаты сосчитал,
Прибежал и так сказал:
«20, а из них,
10 малых, 6 больших».
Точно Коля доложил?
Или ошибку допустил?

**Ошибся.
Лопат 16.**



Сколько насекомых
в воздухе кружат?

Сколько насекомых
в ухо мне жужжат?

2 жука и 2 пчелы,

мухи - 2,

2 стрекозы,

2 осы,

2 комара.

Называть ответ пора.



12

Весёлый счёт



Сколько фруктов съел бегемотик
и получил весьма круглый
животик?

12



Помогите старушке сосчитать ватрушки.



6



<http://alinmir.ru/>

Помогите медведю скорей - Посчитайте-ка всех гостей.



6

Если выше на этаж,
То, который будет наш?



Девятый

**4 тур.
Конкурс
капитанов**



Что тяжелее - один килограмм
ваты или один килограмм
железа?



**Весят
одинаково.**



В одной семье
два папы и два сына.
Сколько всего людей?

**3 человека:
дедушка,
отец и сын.**





В комнате 4 угла.

В каждом углу сидит кошка.

Напротив каждой кошки сидит по 3 кошки.


Сколько всего кошек в комнате?



Во дворе были куры и овцы.

У них 3 головы и 8 ног.

Сколько было кур и сколько овец?



**2 курицы
и 1 овца**

Ребусы



СЗ Ж

Стриж



ВИЗНА

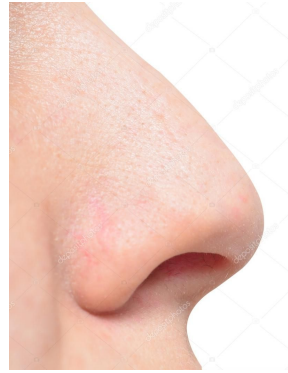
Витрина





Задача

Ми



О=У

Минус

40А

100Л

7Я

ПО2Л

Сорока


Стол

Семья

Подвал



Финал



**Подведение
ИТОГОВ**





МОЛОДЦЫ!