

ЧАС ЗАНИМАТЕЛЬНОЙ МАТЕМАТИКИ

2 класс



СЛОЖЕНИЕ И ВЫЧИТАНИЕ В ПРЕДЕЛАХ 10



$3 - 3 = 0$

$8 + 1 = 9$

$2 + 5 = 7$

$10 + 0 = 10$

$2 + 0 = 2$

$6 - 1 = 5$

$6 - 3 = 3$

$10 - 8 = 2$

$9 - 3 = 6$

$1 + 6 = 7$

$10 - 4 = 6$

$5 + 0 = 5$

$10 - 1 = 9$

$10 - 10 = 0$

$5 + 4 = 9$

$6 - 0 = 6$

$6 + 0 = 6$

$6 + 2 = 8$

$6 + 0 = 6$

$5 - 3 = 2$



Найди число в слове

Одиннадцать

один

подвал

два

стриж

три

семья

семь

Осетрина

три

опять

пять



4
5

По каким признакам
можно распределить
фигуры?



СЛОЖЕНИЕ И ВЫЧИТАНИЕ В ПРЕДЕЛАХ 100

$100 - 30 = 70$

$20 + 50 = 70$

$10 + 20 = 30$

$70 + 30 = 100$

$80 - 60 = 20$

$90 - 50 = 40$

$70 + 0 = 70$

$60 - 10 = 50$

$60 + 40 = 100$

$30 + 40 = 70$

$90 + 0 = 90$

$10 + 30 = 40$

$100 + 0 = 100$

$50 - 50 = 0$

$60 + 30 = 90$


$80 + 0 = 80$

$80 - 30 = 50$

$70 - 50 = 20$

$70 - 50 = 20$

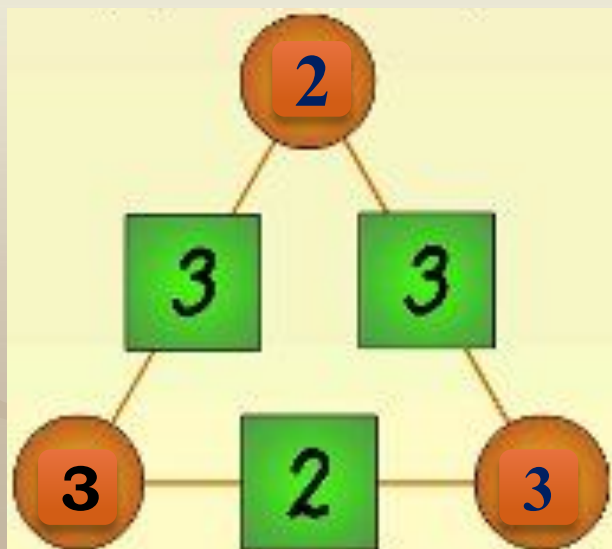
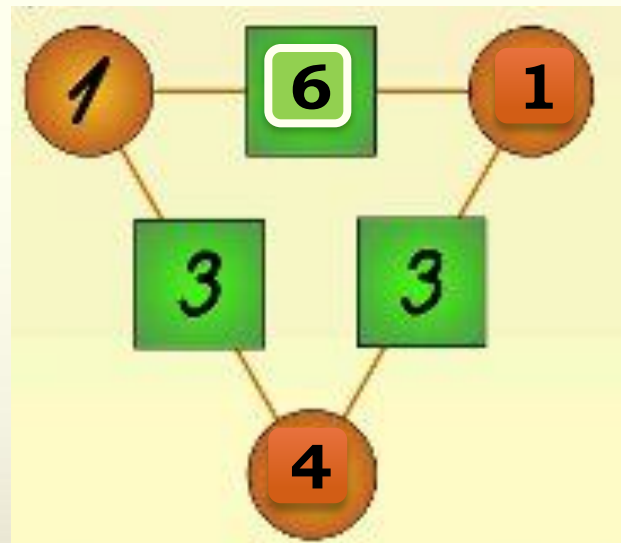
$60 + 30 = 90$



**ВСТАВЬ В ПУСТЫЕ ФИГУРЫ ЧИСЛА ТАК, ЧТОБЫ
ПО КАЖДОЙ СТОРОНЕ ТРЕУГОЛЬНИКА В СУММЕ
ПОЛУЧАЛОСЬ ЧИСЛО 8**

0011

1 2 3 4 5 01 0100 1011



4 5

МОЛОДЦЫ!

0011 0010 1010 1101 0001 0100 1011



1 2
4 5