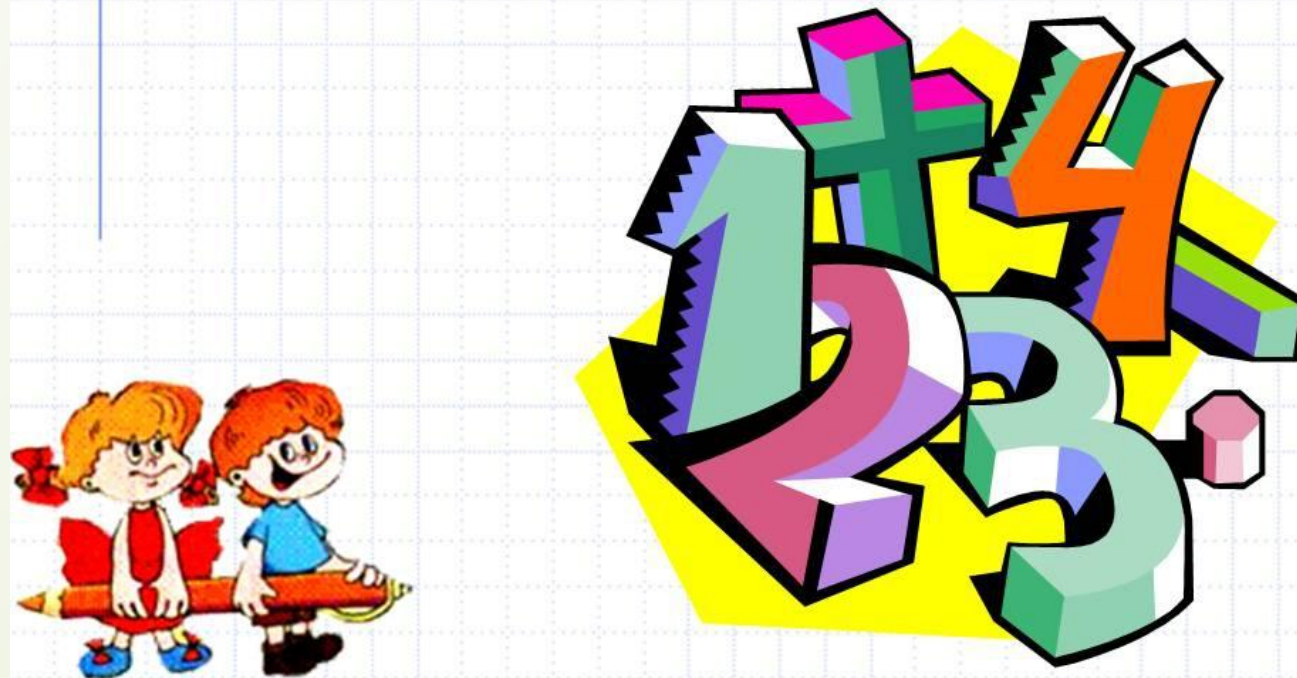




Математика



2 класс

Задача 1

4 яйца
сварились за 8
минут. За
СКОЛЬКО минут
сварится 1
яйцо?



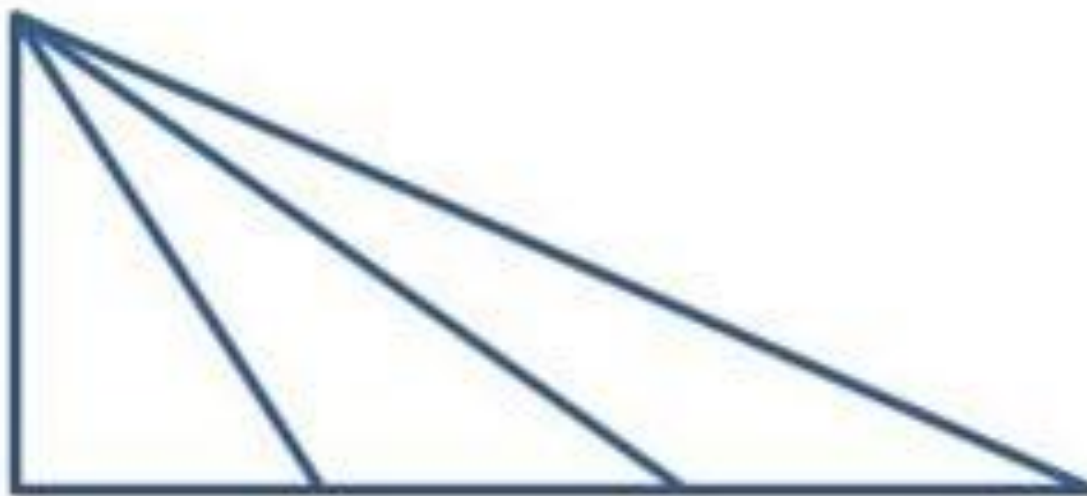
Задача 2



У Юли 2 целых
яблока, 2
половинки и 4
четвертинки.
Сколько всего
яблок у Юли?

Задача 3

Сколько треугольников изображено на рисунке?






Задача 4

На заборе сидели 8 птиц.
Две сороки, воробей и
шмель улетели. Сколько
птиц осталось?



Задача 5

Длина ленты 10 метров.
Её разрезали на 5
частей. Сколько
получилось разрезов?



Задача 6

Шёл охотник из
леса, а
навстречу ему
ещё 2 охотника.
Сколько всего
охотников идёт
из леса?



Задача 7



Летят гуси в ряд. Пятый по счету гусь был посередине. Сколько всего было гусей?


Задача 8

В известной сказке «Поди туда – не знаю куда, принеси то – не знаю что» царь послал стрелка Андрея за «тридевять земель». Тридевять – это сколько?



Задача 9

Бегемот тяжелее носорога, а носорог тяжелее быка. Кто из этих животных самый лёгкий?



Задача 10

Расставив арифметические знаки между цифрами, сделай равенство верным

$$5 \ 5 \ 5 = 5$$