




Интегрированный урок по математике 1 класс «Сложение и вычитание в пределах 10»

Подготовила учитель
начальных классов
МОУ « Микулинская
гимназия»
Хомина Галина Петровна






Найди 7 отличий.









Разожги печку

$6+3$

$8-4$

$10-5$

$10-7$

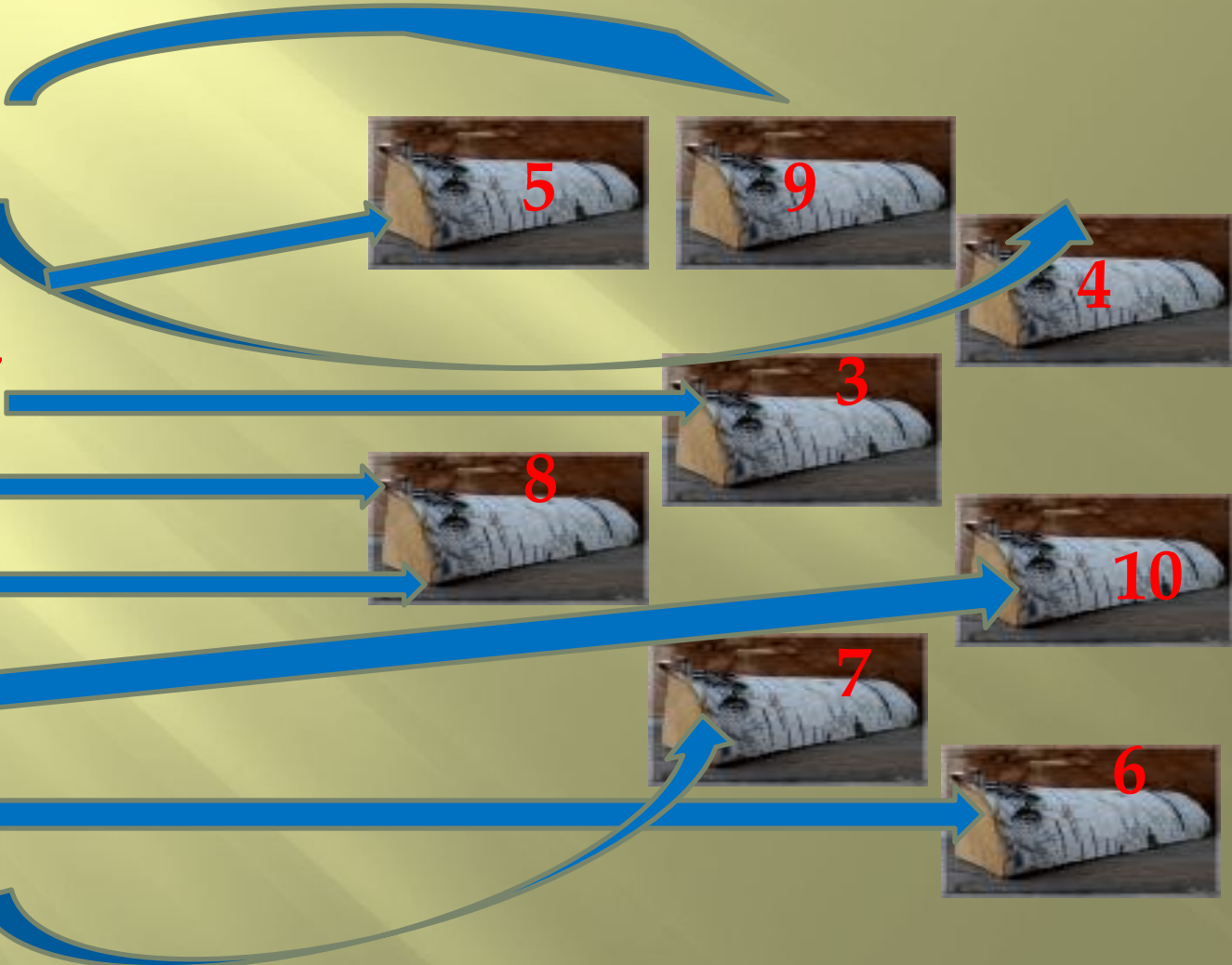

$3+5$

$4+4$


$2+8$

$9-3$

$5+2$







ЗАМЕСИТЕ ТЕСТО!

$$6+3-5-1+4+2-4=$$

$$2+3+4-7-1+8-6=$$

$$3+3+3-4-1-1+2=$$

$$7-4-2+6+1-5-3+9=$$



Составь задачу по краткому условию и реши ее.

Задача 1.

Было-5 пакетов муки.

Купили- 3 пакета.

Стало-?


Задача 2.

На пирог- 6 стаканов воды.

На пиццу- ? На 2 стакана меньше, чем



Как работают булочники сейчас?







Составь задачу по фотографии.



Посчитай буханочки.

- ▣ 25
- ▣ 34
- ▣ 67
- ▣ 23
- ▣ 58






Сравни выражения

- ▣ $7-4 < 2+5$
- ▣ $9-6 < 3+4$
- ▣ $2+7 = 10-1$
- ▣ $6-2 = 4+0$
- ▣ $10-6 < 3+7$
- ▣ $8-3 = 10-5$
- ▣ $6+3 > 7+1$
- ▣ $3+5 > 2+3$





Что еще может испечь булочник





Работа в тетради